

2021

# الكاملة للاجوبة النموذجية

المادة : الاقتصاد

المف : السادس التطبيقي

الاجوبة النموذجية من 2017 الى 2021



الطبعة 2021



حمل الاجوبة النموذجية لجميع المواد  
عبر الباركود

# الاجوبة النموذجية 2017

## الدور الاول



حمل الاجوبة النموذجية لجميع المواد  
عبر الباركود

موقع ملازمنا  
[WWW.MLAZEMNA.COM](http://WWW.MLAZEMNA.COM)





ملاحظة : أجب عن خمسة أسئلة فقط ولكل سؤال ٢٠ درجة .

س ١ : عرف خمسا مما يأتي :

الاقتصاد الجزئي ، التضخم الزاحف ، الاستثمار القصير الأجل ، السيولة ، البرلمان الأوربي ، الحلقة المفرغة .

س ٢ : علل خمسا مما يأتي :

- (١) يعد الناتج القومي الإجمالي من أكثر المقاييس شيوعاً واستخداماً لقياس الأداء الاقتصادي .
- (٢) عكف الاقتصاديون وصانعو القرار السياسي على فهم أسباب البطالة والبحث عن معالجات لها .
- (٣) يعد الادخار الدعامة الأساسية لدفع عملية التنمية الاقتصادية واستمرارها .
- (٤) عانت مرحلة النقود المعدنية النفيسة من بعض العيوب .
- (٥) التقيد الكمي له فائدة كبيرة .
- (٦) يصعب إعطاء تعريف للتخلف يحظى بالقبول العام .

مكتب المنظر للاستشارات  
الكافية - باب الدروازة - ٧٩٠١٨٨٤١٩٧

س ٣ : (أ) ارسم نموذج مبسط للتدفق الدوري . (٨ درجات)

(ب) ما أهم التغيرات الأساسية في الهيكل الاقتصادي التي تشملها عملية التنمية الاقتصادية ؟ (٦ درجات)

(ج) ميز بين التخطيط بعيد الأجل والتخطيط قصير الأجل . (٦ درجات)

س ٤ : (أ) اختر الإجابة الصحيحة من بين القوسين لكل مما يأتي :

- (١) سعر الصرف المدار هو السعر : ( الحر ، التوازني ، الذي يتدخل البنك المركزي جزئياً في تحديده ) .
- (٢) إذا زاد الطلب عن العرض عند مستوى التوظيف الكامل أدى ذلك إلى حدوث :  
( فجوة انكماشية ، فجوة تضخمية ، فجوة انكماشية وتضخمية ) .

(٣) معادلة الدخل المتاح هي :  $Yd = Y - c$  ،  $Yd = c + s$  ،  $Yd = c + i + G + (x - m)$  .

(٤) مرحلة المقايضة هي مبادلة ( سلعة بسلعة ، سلعة بنقود ، سلعة بنقود سلعية ) .

(ب) كيف تؤثر النفقات العامة على الدخل القومي ؟ (٦ درجات)

(ج) كان سعر مكنسة كهربائية ( ١٥٠٠٠٠ ) دينار عام ٢٠٠٩ وأصبح سعرها بحدود ( ٢٤٠٠٠٠ ) دينار

عام ٢٠١٦ ، احسب الرقم القياسي للأسعار . (٦ درجات)

س ٥ : املأ الفراغات الآتية :

- (١) الواقعية هي عدم اعتماد ..... لا تتناسب مع ما هو متاح من القدرات ..... والبشرية للبلد .
- (٢) المجلس الاقتصادي هو الجهة المسؤولة عن رسم ..... المختلفة و ..... لدول منطقة اليورو .
- (٣) لا يمكن تصور عائلة من العائلات بدون استهلاك حتى لو لم يكن ..... ويتم تمويل هذا الاستهلاك أما من ..... أو عن طريق الاقتراض مثلاً .
- (٤) تهدف السياسة الاقتصادية إلى استخدام الإيرادات العامة لتحقيق أغراض عدة منها غرض اجتماعي - توزيعي و ..... و ..... .
- (٥) تنشأ البطالة المقنعة في الحالات التي يكون فيها عدد العمال المشتغلين يفوق ..... مما يعني وجود ..... لا تنتج شيئاً تقريباً .

س ٦ : (أ) موظف يحصل على راتب كلي ( ٨٠٠٠٠٠ ) دينار شهرياً والاستقطاعات الضريبية تبلغ ( ٥٠٠٠٠ ) دينار

وكان الميل الحدي للاستهلاك هو ( ٠,٧ ) ، فما مقدار الاستهلاك ؟ وما مقدار الادخار ؟ (١٢ درجة)

(ب) أجب عن واحد مما يأتي : (٨ درجات)

(١) عند مع الشرح أهم العناصر الأساسية للمنظمة الدولية .

(٢) ما آثار التضخم ؟



الاجوية النموذجية للدراسة الإعدادية للعام الدراسي ٢٠١٦ / ٢٠١٧

الدور / الأول

اسم المادة / الاقتصاد

الفرع / كيمياء

جواب السؤال ( الأول ) فرع ( — )

السؤال	الصفحة	الجواب النموذجي	الدرجة
١ -	٥٣	الامتصاص الجزئي : هو نوع من فروع الامتصاص وهميم دراسة الامتصاص مع مستوى لثباتا، جزئيا ام الجزئية (المهمل وملتصق) اي مع مستوى اتخاذا للتراب التي تهم سلوكه كغيره او سلوكه بالمتأثرة بشركه المؤثره، الملتصق في اسوان ليع او عناصره لاستابع	كل صفة (٤) درجات
٢ -	٥٤	التفهم الزائف : هو لتفهم التدرجي ليعر وبعده ومصاحبه كعده عقول للفقو الاقتصادي، ان انه استمراره وترجم أثناء يمكنه ان توبه الى هويت تفهم جامع	
٣ -	٥٨	الاستثمار لغير الابد : هي الاستثمارات التي تعد لمدة زمنية عادة تكدره مقبولة من يوم ان اكل مبينة، مع امثلة الاستثمار في الدوايح المحرفيه واذونات الخزائن، الاوراق التمارية : وماده مايسم هذا النوع باحتقاضها انما مره والمانه ميد	



الدور / ١٠٠ / ١٠٠  
الفرع / ١٠٠ / ١٠٠

الاجوبة النموذجية للدراسة الاعدادية للعام الدراسي ٢٠١٦ / ٢٠١٧

اسم المادة / ١٠٠ / ١٠٠

جواب السؤال ( ا رد ) ( - )		الصفحة	السؤال
الدرجة	الجواب النموذجي		
١٠٠ نقطة (٢) درج	السؤال : تعد ليولة قلاة المهرف على الاسم - بالرفاي بالترامات المايك اتجاه المودعير من الاطراف المختلفة في الوقت المحدد اذ تحفظ المهرف بمحتويات من ليولة محورها البنك المركزي	١٠٠ ١٠٠	٤ -
	البرهان لادري وهو احد اقسام الملك لاداري للمنطقة الترابية للاتحاد الادري ويتم اتقائه كل سنة سنوات من قبل شعوب الاتحاد لادري لتحليل صاكنهم	١٠٠ ١٠٠	٥ -
(٢) درج	الحلقة المفترقة هي حلقات تباكية ذات سنة دائرية تعد اتلح تقه يا سترار وهي ابرز هوقات وعصيات عمليتي للتبكي فكل مصنف تعد سيرا رشيحت لغيرها من العصيات وهي تتفهم معاً في حلقات متساوية وصراعية تتركب من مختلف	١٠٠ ١٠٠	٦ -



الدور / الاول  
الفرع / التصفي

الاجوبة النموذجية للدراسة الاعيادية للعام الدراسي ٢٠١٧ / ٢٠١٦  
اسم المادة / الاقتصاد

جواب السؤال ( الثاني ) فرع ( ا )

السؤال	الصفحة	الجواب النموذجي	الدور
١ -	١٠ ص	لاش قدرة الاقتصاد لوضع على انتاج مختلف السلع والخدمات وياتي على مدى قدرة للسلع والخدمات المنتجة من قبل اقتصاد معين وفلان مدة زمنية معينة فان مجموع تلك القيم مطروقا منه الزائد هو ما يعبر عنه بالنقد القومي .	لكل نقطة
٢ -	١٠ ص	لغرض تحقيق عدالتها او القضاء عليها لما لهذه الظاهرة من آثار سلبية عديدة على لوضع الاقتصاد الوطني للاقتصاد للدول .	٤ درجات
٣ -	١١ ص	سبب تحويل الادوار الوطني الى الاستثمار والاستثمار بدور بعد العنصر الفاعل في لوضع وبالتالي تحقيق عملية استثمار والتطور الاقتصادي وزيادة معدلات الرفاهية في المجتمع .	
٤ -	١٢ ص	سبب ندرة المصادر والمكانة عن توسيع واختلاف اوزانها .	









الدور / الأول  
الفرع / الليتھيني

الاجوية النموذجية للدراسة الاعدادية للعام الدراسي ٢٠١٦ / ٢٠١٧

اسم المادة / الاقتصاد

جواب السؤال (الثالث) فرع (ج)

السؤال	الصفحة	الجواب النموذجي	الدرجة
٣ فرع ج	١٠٨	<p>• التحضير يعد لاجل وتبراع طابرين (١٠-٢٥) ايمته ولهو يتعلق بأهداف اقتصادية كبرى من مثل رفع معدلات نمو الناتج المحلي - زيادة متوسط دخل الفرد - رفع نسبة مساهمة لقطاعات الاقتصادية في إنتاج المحلي الإجمالي.</p> <p>• يتم في التحضير في لاجل لتهيير اولئك لتحقيق أهداف محددة وبشكل مثل اقامة صناعة عصرية، اوتنشط قطاع عصرية، اوتنشط مورد عصرية.</p>	٦ درج
		(٢٠) درج	



الدور / الأول ...

الفرع / التطبيقية

الاجوبة النموذجية للدراسة الاعدادية للعام الدراسي ٢٠١٧ / ٢٠١٦

اسم المادة / الاقتصاد ...

جواب السؤال (الرابع)		فرع (٦ + ب)	
السؤال	الصفحة	الجواب النموذجي	الدرجة
٤ ٥٦ ٢٤	١٦٦	١. الذي يتدخل البنك المركزي ليس في أي شيء ٢. فبوه شخصية ٣. $Yd = C + S$ ٤. لغة بلغة	٦ ١٦ ١٦
٤ ٥٦ ٢٤	١٦٦	في ظروف لتقلبات لاقتصاديه تظهر اهمية لتفان الحلوي والذي يهتم بتمويل للاقتصاد وتنشيطه ففي الازمة لاقتصاديه دولي حدث عام ١٩٢٩ في الولايات المتحدة وانتشرت لتغير اقتصادات اوربا الغربية بقوة ، لم تكن عمدا الخروج من الاستد الدولة عبر الارتفاق الحكومي ، لزيادة الطلب الكل في الاقتصاد كما قال ارتفاق هنا بعض ايجار دخول للأفراد وهو ما يدفعه لتراكم والمكثفات من الاسرة ، مما يحفز المعامل والمشتريات التي لها على الإنتاج	٦ ١٦ ١٦





الدور / الأول .....

الاجوية النموذجية للدراسة الاعدادية للعام الدراسي ٢٠١٦ / ٢٠١٧

الفرع / التطبيقية

اسم المادة / ...

جواب السؤال (الرابع)		فرع (ج)	
السؤال	الصفحة	الجواب النموذجي	الدرجة
٤ ١١	١٥ ١٤	<p>لرغم لقسامي ليس = مجموع الاسعار في المنطقة مجموع الاسعار في المنطقة</p> $100 \times \frac{24,100}{10,100} =$ $\% 170 =$	٦ درجات



الدور / .....  
الفرع / .....  
التخصص / .....

جوبة النموذجية للدراسة الإعدادية للعام الدراسي ٢٠١٧ / ٢٠١٦  
المادة / .....  
الاقتصاد

جواب السؤال (الخاص)		فرع ( / )	
سؤال	الصفحة	الجواب النموذجي	الدرجة
٥٥	١٥	١- <u>اهداف كبيرة</u> و <u>المالية والمادية</u>	١
٥٦	١٥	٢- <u>السياسات الاقتصادية</u> و <u>معالجتها</u>	٢
٥٧	١٥	٣- <u>لها دخل</u> و <u>مدخرات سابقة</u>	٣
٥٨	١٥	٤- <u>اقتصادي</u> و <u>تقدي</u>	٤
٥٩	١٥	٥- <u>الحاجة الفعلية</u> و <u>عمالة فائضة</u>	٥
<p>ملاحظة في حالة كتابة المالية او المادية الجواب بعد صحى للفراغ رقميا</p>			



الدور / الإزول .....

الاجوبة النموذجية للدراسة الاعدادية للعام الدراسي ٢٠١٧ / ٢٠١٦

الفرع / التخصصي

اسم المادة / ..... الإحصاء

جواب السؤال (السادة) فرع (٩)

الدرجة	الجواب النموذجي	الصفحة	السؤال
١٥ درجة	<p>الدخل المتاح = إيراتب الكلي - الاستقطاعات افرسية</p> $80000 - 50000 = 30000$ <p>الدخل المتاح <math>\times</math> معدل كبد للاستهلاك</p> $30000 \times 0.17 = 5100$ <p>مقدار الاستهلاك</p> <p>الاروضاء = الدخل المتاح - الاستهلاك الكلي</p> $= 30000 - 5100 = 24900$ <p>مقدار الاروضاء</p>	٣٩	٦




الدور / الأول

الاجوبة النموذجية للدراسة الاعدادية للعام الدراسي ٢٠١٦ / ٢٠١٧

الفرع / التطبيق

اسم المادة / ... البرقعة

جواب السؤال (الدراسة)		فرع (ب)	
السؤال	الصفحة	الجواب النموذجي	الدرجة
س١	٩١	<p>المعاصر المنظمة الدولية (أجب عن واحد فقط)</p> <p>١- الاختيارية / تعني اختيار الدولة للأحكام التي الرهيات والمنظمات الدولية من دون اجبار</p> <p>٢- الأرادة الذاتية: ما عير المنظمة الدولية أنها تعتمد قوتها الملزمة من أرادة الدولة المنفوية تحت لوارها عند ما تتخذ المنظمة قراراتها بالأغلبية</p> <p>٣- الاستمرار / استقرار المنظمة بمارس نشاطها بموجب الأهداف التأسيسية من اجلها يعزل عن أرادة الدول المكونة لها</p> <p>٤- الاتفاقات الدولية / يرتكز وجود المنظمة الدولية على وجود اتفاق دولي بأنها</p>	كل نقطة درجة



صان  
شوقي



الدور / الدور الأول

الاجوبة النموذجية للدراسة الاعيادية للعام الدراسي ٢٠١٦ / ٢٠١٧

الفرع / الفرع / التطبيقية

اسم المادة / ..... البرقيصا

جواب السؤال (الذي) فرع (ب)

الدرجة	الجواب النموذجي	الصفحة	السؤال
١ درجة نظر نقطة ٢	<p>٢- آثار النظم</p> <p>٤- تأثير النظم على القدرة التنافسية لتيارة البلد الخارجي اى ضعف تنافسية السلع المصدرة مما يؤدي الى انخفاض الصادرات حيث يحتاج ارتفاع قيمة الواردات .</p> <p>٥- يؤدي النظم الى ارتفاع تكاليف المعيشة مما يؤدي الى ضعف الادخارات المالية للمواطنين</p> <p>٥- ياهم النظم بسود توزيع الدخل بين افراد المجتمع مما يؤدي الى افتقار الفقراء واعتبار الاغنياء وهذا ما يخلق تباين طبقي بالمجتمع .</p> <p>٥- يظل النظم مشكلة كبيرة في المعاملات المالية وخاصة الديون . فغني نحل النظم يصعب الأبقاء بالديون أقل كلفه لأن النقود تتركز لدى من قيمتها .</p>	٥٢ ٥٣	٦٥





ملاحظة : أجب عن خمسة أسئلة فقط ولكل سؤال ٢٠ درجة.

س1 : عرف خمسا مما يأتي :

الدخل النقدي (الأسمي) ، التضخم المستورد ، الادخار الإجباري ، الصيرفة الشاملة ، سعر الصرف المدار ، التخطيط

س2 : علل خمسا مما يأتي :

(1) الناتج المحلي بالأسعار الجارية غير صالح للمقارنة .

(2) تمثل البطالة إحدى التحديات الكبرى التي تواجه بلدان العالم سواء كانت نامية أم متقدمة .

(3) يمكن النظر إلى الاستهلاك على أنه الهدف أو الغاية الأساسية لكل النشاطات الاقتصادية .

(4) في بعض الدول تفرض رسوم على استخدام الطرق السريعة والجسور الهامة وزيارة الحدائق والمتاحف العامة وغيرها .

(5) اندفاع اقتصاديات العالم إلى التخصص .

(6) وجه إلى نظرية النمو المتوازن انتقاد رئيس .

س3 : (A) عدد مع الرسم المراحل التي تمر بها دورة أعمال واحدة .

(B) ما أهم الوظائف الأساسية للنقود ؟ عددها مع الشرح .

(C) ما الفرق بين الموازنة العامة والميزانية العمومية في مجال (التحقق ، الفترة ، الغرض) ؟

س4 : (A) اختر الإجابة الصحيحة من بين القوسين لكل مما يأتي :

(1) النمو يعتمد على ( مؤشر واحد ، مؤشرات عدة ، مؤشر نوعي ) .

(2) خلق المنفعة أو زيادتها تعني بها ( التبادل ، الإنتاج ، الاستهلاك ) .

(3) معادلة الميل الحدي للاذخار (  $MPS = \frac{\Delta c}{\Delta y}$  ،  $MPS = \frac{c}{y}$  ،  $MPS = \frac{\Delta s}{\Delta y}$  )

(4) ضمان الحفاظ على أموال المودعين تعني به ( الاحتفاظ بالسيولة ، الأمان ، تعظيم الأرباح ) .

(B) كان الدخل القومي لإحدى الدول لعام ٢٠٠٥ هو ٦٠٠ مليار دينار وكان الرقم القياسي للأسعار قد بلغ مستوى

١٢٠ % ، فما الدخل الحقيقي ؟

(C) كان الدخل المتاح لشخص ما ( مليون ) دينار شهرياً وكان الميل الحدي للاستهلاك ( ٠,٧٥ ) ، جد مقدار

الادخار الشهري .

س5 : املأ الفراغات الآتية :

(1) نتيجة انخفاض مستويات التعليم بكل أشكاله ، فإن البلدان المتخلفة تعاني من نقص في الكوادر ..... والإدارية

وبخاصة في طبقة ..... والتي تعد أخطر العوامل المعيقة للتطور .

(2) الوديعة هي ..... في أي عملية كانت والمودعة ..... والواجبة التأديبة عند الطلب أو بعد إنذار أو في تاريخ

استحقاق معين .

(3) الفرق بين الإيرادات العامة والنفقات العامة هو ..... والذي يتحقق عندما تكون الإيرادات العامة أكبر من

النفقات العامة أو ..... والذي يتحقق في الحالة المعاكسة .

(4) يعد الاستثمار ذا أهمية كبيرة في ..... لما يشكله من زيادة في الطاقة الإنتاجية وهو ما يؤدي إلى .....

وارتفاع متوسط نصيب الفرد منه .

(5) ميزان المدفوعات هو سجل يختصر ..... في جوانبها التجارية والنقدية والمالية بين الاقتصاد الوطني و

..... سواء أكانوا ( حكومات - أفراد - شركات ) خلال سنة .

س6 : (A) في اقتصاد بلد ما جاءت حسابات الدخل القومي كما في الجدول الآتي :

البند	المبلغ (مليون دينار)
اجور ورواتب	٢٠٠
ربح	١١٠
إجمالي الأرباح	٣١٠
الفائدة	٩٠
إعانات عاطلين	٧٠

(٦ درجات)

(٨ درجات)

(٦ درجات)

احسب الناتج القومي بطريقة الدخل .

(B) ما أهم أهداف منظمة العمل الدولية ؟

(C) عدد فقط أهم مقومات التنمية .





الدور / الأول

الاجوبة النموذجية للدراسة الاعدادية للعام الدراسي ٢٠١٧ / ٢٠١٦

الفرع / التعليمي

اسم المادة / الاقتصاد

جواب السؤال (الاول) فرع ( )

السؤال	الجواب النموذجي	الدرجة
١ -	الدقل لتقدي (الرسمي) ٢ مجموع الكميات لتقدير لي يصل على الحساب عناصر الإنتاج تظير مشاركتهم في عملية الإنتاج الإنتاج السلع والخدمات (مشتق لتو)	١٤ نقطة
٢ -	التقسيم المستورد هذا النوع من التقسيم يأتي من خلال الاستيراد وعادة ما يحدث هذا النوع من التقسيم في الدول التي تصد على ايرادها اهتمامها في بيع الخدمات مع الخارج .	٢٠ نقطة
٣ -	الادوار الاحيائية هو الادوار الذي يجبر منتج الشئ على القيام بهذا الادوار لاسباب معينة وهذا النوع من الادوار يتم بقواته ومدراته	٢١ نقطة







الدور / الأول .....

الاجوبة النموذجية للدراسة الاعدادية للعام الدراسي ٢٠١٦ / ٢٠١٧

الفرع / ابيطبيعي

المادة / الاقتصاد .....  
جواب السؤال ( الثاني ) فرع ( )

رقم السؤال	الجواب
١	لانه لا يتبدد مستويات لتتخطى لمحققته خلال السنة مما يجعل قوته نتائج لها من صاكنه للمقارنة .
٢	نتيجة لانها اقتصارية والاصفاية والتفسيه والسياسية والاصنية الخطيرة .
٣	لان للاستهلاك علاقة عكسية بالاينتاج فالاستهلاك يواجه دائما اما بالبيع ار الكفوفات التي تنتج في ذلك الوقت واما بالبيع التي انتجت عن مثل فضلا عن ان له دورا هاسيا في تركيب لبيان الوقتصادى وقريل لعمله لإقتصاديه .

٢٠٠٢ درهم  
مكل شخ (٢) درهم

الدور / الأول

الإجابة النموذجية للدراسة الإعدادية للعام الدراسي ٢٠١٦ / ٢٠١٧

الفرع / التمهيني

اسم المادة / الاقتصاد

جواب السؤال (الثاني) فرع ( )

السؤال	الجواب النموذجي	النقاط
٤	٤. لأن الهدف من ذلك برغبة في تنظيم الأعمال الأفراد لها بجانب حاجات الله من مصدر للإيرادات وحمايتها بمنتجات محلية.	٧٠ نقطة
٥	٥. بسبب الاختلاف في تكاليف (نفقات) إنتاج السلع المختلفة فهناك دول لديها القدرة على إنتاج سلعها ما ولكن بتكاليف عالية فيما تنتجها دوله الأخرى بتكاليف أقل وهو ما يعنى اختلاف الكلفة في الإنتاج.	٨٢ نقطة
٦	٦. لأنها تحتاج إلى تمويل كبير قد لا يكون بمقدور البلد توفيره بسبب ضعف الإيرادات المحلية مما يوجب إرضاعه لمصادر خارجية.	١٠٥ نقطة

٤ درجات  
كل  
تعليق

الدور / الأول

الاجوبة النموذجية للدراسة الإعدادية للعام الدراسي ٢٠١٧ / ٢٠١٦

الفرع / الاقتصاد

اسم المادة / الاقتصاد

جواب السؤال (الثاني) فرع (A)

السؤال	الجواب
٣ A	٥٦-٥٧ ح
٤ درجات الرسم	<p>الزمن</p> <p>الدرجة</p> <p>القمّة</p> <p>رواج Boom</p> <p>انكماش Recession</p> <p>ركود Depression</p> <p>انتعاش Recovery</p> <p>القمع</p> <p>فترة التوسع</p> <p>فترة الانكماش</p>
٤ درجات المراحل	<p>١. مرحلة الركود</p> <p>٢. مرحلة الكساد</p> <p>٣. مرحلة الانتعاش</p> <p>٤. مرحلة الرواج</p> <p>Recession</p> <p>Depression</p> <p>Recovery</p> <p>Boom</p>



الدور / الأول .....

الاجوبة النموذجية للدراسة الاعدادية للعام الدراسي ٢٠١٧ / ٢٠١٦

الفرع / لبيطيسي

اسم المادة / الاقتصاد .....

جواب السؤال ( الثالث ) فرع ( B )

السؤال	الاجابة النموذجية	الدرجة
٣ ٦٤ B	<p>١. <u>وسيلة للتبادل</u> :- اي انه لنقود تستخدم احياناً لاجراء عمليات تجارية مختلفة ، فيتم تسديد قيمة السلع التي تشتريها والخدمات التي تحصل عليها بواسطة النقود .</p> <p>٢. <u>مقايير للقيمة</u> :- يمكن استخدام النقود كمقايير مقبول للقيمة من خلال معرفة الاسعار النسبية لكل سلع او خدمة عن طريق مقارنة قيمتها النقود التي تمثل سعرها اي ان النقود تشمل وهذه لحساب اسرله ، الواحدة لمقايير قيمه السلع والخدمات المختلفة</p> <p>٣. <u>مخزن للقيمة</u> :- ينظر البعض للنقود باعتبارها مخزناً للقيمة والثروة اي انه يمكن الاحتفاظ بالنقود ومخزنها لان لغرض استخدامها في المستقبل للوصول على السلع والخدمات المطلوبة .</p>	٦



الدور / الاول....

الاجوبة النموذجية للدراسة الاعدادية للعام الدراسي ٢٠١٦ / ٢٠١٧

الفرع / الهندسي

اسم المادة / ...

جواب السؤال ( الثالث ) فرع ( C )

الرقم	السؤال	الدرجة												
٦ درجات	<table border="1"><tr><td>الميزانية العمومية</td><td>الموزنة العامة</td><td>المجال</td></tr><tr><td>ارقام فعلية</td><td>ارقام تقديرية</td><td>التحقق</td></tr><tr><td>لفترة ماضية</td><td>لفترة مستقبلية</td><td>الفترة</td></tr><tr><td>تعدلا فرض رقابية</td><td>تعدلا فرض تحصيلية</td><td>الغرض</td></tr></table>	الميزانية العمومية	الموزنة العامة	المجال	ارقام فعلية	ارقام تقديرية	التحقق	لفترة ماضية	لفترة مستقبلية	الفترة	تعدلا فرض رقابية	تعدلا فرض تحصيلية	الغرض	٢٣ ٤
الميزانية العمومية	الموزنة العامة	المجال												
ارقام فعلية	ارقام تقديرية	التحقق												
لفترة ماضية	لفترة مستقبلية	الفترة												
تعدلا فرض رقابية	تعدلا فرض تحصيلية	الغرض												



٢٠١٦ / ٢٠١٧



الدور / ١٠٠ / الأول  
الفرع / ١٠٠ / تطبيق

الاجوبة النموذجية للدراسة الاعدادية للعام الدراسي ٢٠١٧ / ٢٠١٦

اسم المادة / .....  
الإجابة الصحيحة .....

جواب السؤال ( الرابع ) فرع ( )

السؤال	الدرجة	الاجابة النموذجية	الدرجة
٣ A	٤	١- مؤشر واحد ٢- الانتلج ٣ $MPS = \frac{\Delta S}{\Delta Y}$ ٤- الأمان	٤
B	٥	الدخل الحقيقي = $6000 \div 100 \times 100 = 6000$ مليار	٥
C	٤	١٠٠٠٠ × ٧٥ = ٧٥٠٠٠ الف دينار الأدخار = الدخل - الاستهلاك ٧٥٠٠٠ - ٤٥٠٠٠ = ٣٠٠٠٠ مقدار الأدخار = ٣٠٠٠٠ الف دينار (٥٠) دينار	٤

الدور / الأول

الاجوبية النموذجية للدراسة الإعدادية للعام الدراسي ٢٠١٦ / ٢٠١٧

الفرع / الطبيعي

اسم المادة / الاقتصاد

جواب السؤال (الخامس) فرع ( )		السؤال	النقاط
نظر فراغ درجة	١ - <u>الغنية والعلمية</u> - <u>المتميزين المديرين</u>	٥	١٠
	٢ - <u>المبلغ المخرج به</u> - <u>لدى المصرف</u>	٥	١٠
	٣ - <u>الفائض المالي</u> - <u>العجز المالي</u>	٥	١٠
	٤ - <u>تنمية الاقتصاد الوطني</u> - <u>زيادة الدخل القومي</u>	٥	١٠
	٥ - <u>المعاملات الاقتصادية</u> - <u>العالم الخارجي</u>	٥	١٠

(٢٠) درجة





الإجابة النموذجية للدراسة الإعدادية للعام الدراسي ٢٠١٦ / ٢٠١٧

الدور / الأول  
الفرع / الإلتهام

اسم المادة / الإتهام

جواب السؤال (السادس) فرع (م)

السؤال	الصفحة	الإجابة النموذجية	الدرجة
٦	٢٢	الكلب السلي = ٩٠ + ٣١٠ + ١١٠ + ٢٠٠ = ٧١٠ دحول عنام الإتهام - اعناق كالعائلة ٧١٠ - ٧٠ = ٦٤٠ الناتج العوي	(٦) درجات نك خطوه ٣ درجات







الدور / ٤... ٤

جوبة النموذجية للدراسة الإعدادية للعام الدراسي ١٦ / ٢٠١٧

الفرع / ٣... ٣

المادة / ١... ١

جواب السؤال ( السادس ) فرع ( ب )

الدرجة	الاجابة النموذجية	النقطة	العدد
(١٥) درجاة بكل تفقه (٩ درجاة)	<p>١- تهدف الميثاقية الى تحقيق الحقوق الانسانية المعترف بها دولياً وتقرير حق العمل والعدالة الاجتماعية.</p> <p>ب- تمنح ميثاق العمل الدولية المقاييس الدولية للعمل بما قبل شروط العمل وليست تدعم ميثاق العمل الدولية، امتهانات المستقلة للعمال واحجاب العمل وتنصيرها.</p> <p>ج- مساعدة العمال للجهول على عمل الكفا وقمخر للرجال والنساء وعي كل اجزاء من الحربية والمساواة والاشغيات والدراسة الانسانية.</p>	٩٣	٦



الدور / الأول

الاجوبة النموذجية للدراسة الاعدادية للعام الدراسي ٢٠١٦ / ٢٠١٧

الفرع / البيولوجيا

اسم المادة / ..الاجبت جلد ٢.

جواب السؤال ( السادس ) فرع ( ب )

الرقم	السؤال	الجواب النموذجي
٦	جس	١- الإرادة - ٢- العزيمة التمرية الواجبة - ٣- التذمير - ٤- الأثر الداعمة للتنمية - ٥- زياده مستوى الاستشارات - ٦- سمولية الالتعام بالقطاعات -

السؤال

(٢٠) درم

# الاجوبة النموذجية 2017

## الدور الثاني



حمل الاجوبة النموذجية لجميع المواد  
عبر الباركود

موقع ملازمنا  
[WWW.MLAZEMNA.COM](http://WWW.MLAZEMNA.COM)



ملاحظة: أجب عن خمسة أسئلة فقط ولكل سؤال ٢٠ درجة.  
س ١: عرف خمساً مما يأتي:

العدالة الاقتصادية، البطالة الهيكلية، الاستهلاك التلقائي، الوديعة، الاتحاد النقدي، النمو.

س ٢: علل خمساً مما يأتي:

- (١) ألتائج المحلي بالأسعار الثابتة يعد مقياساً مناسباً للمقارنة مع البلدان الأخرى.
- (٢) لا تستطيع الأسعار في ظل التضخم المكبوت أن ترتفع.
- (٣) قد يكون الادخار في بعض الأحيان إجبارياً.
- (٤) تعد الموازنة العامة واحدة من أهم الوثائق الحكومية.
- (٥) يتحول الكثير من المستهلكين من السلع المستوردة إلى السلع المحلية.
- (٦) تتصف البلدان النامية بارتفاع مستويات الفقر وهي الأعلى عالمياً وغالباً ما تتركز نسبة الفقر في الأرياف.

س ٣: (أ) عرف سعر الصرف، ثم ارسم مخطط بياني يوضح سعر الصرف التوازني.  
(ب) كيف تؤثر النفقات العامة على الإنتاج؟ وضح ذلك.  
(ج) ميز بين المصارف الإسلامية والمصارف الإلكترونية.

س ٤: (أ) اختر الإجابة الصحيحة من بين القوسين لكل مما يأتي:  
(١) الاستثمارات متوسطة الأجل هي: (أكثر من ٣ سنوات، من يوم إلى أقل من سنة، من سنة إلى ٣ سنوات)

(٢) معادلة الادخار هي:  $(S = \frac{\Delta S}{\Delta Y}, S = C + Y, S = Y - C)$

(٣) التخطيط الذي يجري على مستوى المجتمع بكل مفاصله وقطاعاته هو التخطيط:  
(الإلزامي، التوجيهي، الشامل)

(٤) الاقتصاد الكلي هو الاقتصاد الذي يهتم بدراسة الاقتصاد على المستوى (الجزئي، الكلي، الجزئي والكلي).  
ب) يستلم معمل للغزول القطنية كميات من القطن من إحدى المزارع لإنتاج القطن بمبلغ (٣٠) مليون دينار وقام ببيع الغزول المنتجة إلى شركة معينة للنسيج القطني بمبلغ (٤٠) مليون دينار والتي بدورها باعت المنسوجات القطنية إلى شركة أخرى لإنتاج الألبسة القطنية الجاهزة بمبلغ (٦٠) مليون دينار والتي قامت بتصنيع مختلف الملابس منها وباعتها في الأسواق بمبلغ (٨٥) مليون دينار، احسب الناتج النهائي والقيمة المضافة من خلال بيان عمليات الإنتاج ومراحلها.

س ٥: املأ الفراغات التالية بما يناسبها من حقائق:

- (١) الحلقة المفرغة هي ..... ذات سمة دائرية تعيد إنتاج نفسها باستمرار وهي أبرز ..... عملية التنمية.
- (٢) النقود السلعية هي مجموعة من ..... والمفيد لكل قطاعات المجتمع بحيث يمكن استخدامها كوسيلة ..... والخدمات الأخرى.
- (٣) في مرحلة الانعاش يبدأ الاقتصاد ..... نتيجة انخفاض ..... وتزايد الاستثمارات.
- (٤) التخلف ليست حالة ..... أو هي مرحلة تاريخية لا بد من المرور بها بل هي حالة تعبر عن .....
- (٥) تتجه معظم دول العالم إلى التعاون فيما بينها من خلال ..... في مختلف الجوانب ..... والتكنولوجية.

س ٦: (أ) إذا كان لديك الجدول الآتي يوضح الدخل والاستهلاك في اقتصاد دولة ما، المطلوب حساب كل من الميل الحدي للاستهلاك والميل لمتوسط للاستهلاك:

السنة	الدخل (مليار دينار)	الاستهلاك (مليار دينار)
٢٠١٢	١٠٠	٥٠
٢٠١٣	٢٠٠	١٠٠
٢٠١٤	٣٢٠	١٧٢
٢٠١٥	٤٦٠	٢٧٠

(٨ درجات)

(ب) أجب عن واحد مما يأتي:  
(١) ما طرق معالجة التضخم؟  
(٢) اذكر عيوب احتساب الدخل القومي.



الدور / الثاني  
الفرع / تعليمي

الاجوبة النموذجية للدراسة الاعدادية للعام الدراسي ٢٠١٦ / ٢٠١٧  
اسم المادة / الاقتصاد رهنسي

جواب السؤال (الاول )		فرع ( )
السؤال	الصفحة	الجواب النموذجي
١	١٠	<p>المعالة الاقتصادية: وتعتبر احدى المميزات المتعلقة          ازاء افراد مجتمع ما في شكل متساو لها          في نشاط الاقتصاديات. وانما هي كل العوامل التي          تحول دون اعتماد الميزة المتأخر وتتمثل في          المقتضى اى الاستقال عن مفهوم الضيق للمعالة          الاقتصادية الى فهم اوسع. تباينا عدالة توزيع          الانتاج العلم او الفاعل فليس الاقليات او من اهل          المقايض او من اهل الرجال من استا.</p>
٢	١١	<p>المعالة الهيكلية: هي المعالة التي تنشا بين          القدرات لدينا وبين الاقتصاد مثل لتغير          التكنولوجي) وكذلك بين اهل الالة على          القدرات البشرية مما يؤدي الى ارتفاع عدد          كبير من اهل الالة من حيث هي ان          تقدر على قطاع استا. او هنا هي</p>

الدور / .....  
 الفرع / البيولوجيا

الاجوبة النموذجية للدراسة الإعدادية للعام الدراسي ٢٠١٦ / ٢٠١٧  
 اسم المادة / .....  
 لاجبة

الرقم	السؤال	الجواب النموذجي	الفرع
٣	استهلاك الطاقة	<p>الاستهلاك، نطلقا على                  وهو الاستهلاك، لتتبع                  الذي لا يتغير بتغير الدخل - أي أنه تلك                  كمية من كميات الاستهلاك التي توفر عبء الفرد                  من السلع. وهذا يتوافق مع واقع                  الحياة - إذ لا يمكن فهم عائلة من العائلات بدون                  استهلاكها من هذا، ولو لم يكن ذلك وفيل ويتم تمويل                  هذا الاستهلاك إما من مخرجات سابقة أو من                  طريق الاقتراض مثلا.</p>	البيولوجيا
٤	الموتى	<p>الموتى هو المبلغ المصروف على                  الموتى والموتى له المصروفات الأولية للتأدية                  عن القلب اذ يعد انتاج اوتج تاريخ ارتفاعه                  معين.</p>	البيولوجيا



الدور / ب  
الفرع / اقتصادي

الاجوبة النموذجية للدراسة الاعدادية للعام الدراسي ٢٠١٧ / ٢٠١٨  
اسم المادة / الاقتصاد الكلي

جواب السؤال ( الاول )		فرع ( )
السؤال	الصفحة	الجواب النموذجي
٥	٥	الاتحاد النقدي هو عملية من مزاياه تتصل اقتصادياً وتهدف الى توحيد السياسات النقدية من خلال عمل عمله فهدفه للدول الأعضاء انشاء تلة نقدية مركزية
٦	١٠٢	العمو وهو عملية لتقاسم الدول الكفئي وزيادة فراكية ومرة غير مرهنة محددة من المصدر حيث تكون هذه زيادة الكبر مع عدله فوالله اعلم
		(٥) درجة لكل نقطة
		(٤) درجة في الاجابة (٥)
		فقط



الدور / الثاني  
الفرع / لبيبي

الاجوبة النموذجية للدراسة الإعدادية للعام الدراسي ٢٠١٦ / ٢٠١٧

اسم المادة / الاقتصاد .....

جواب السؤال ( الثاني )		فرع ( )	السؤال	الصفحة
١	لأنه منذ فلاله يتم الإعداد (تقنين) لهذا بعد معدلاتاً مناسبة للبلاد الأخرى		١ -	١٢
٢	وذلك لوجود جهود الحكومة بالبدء للسيطرة على رفع الأسعار مثل السعر الإحصائي وتقليل البطالة القروية		٢ -	٥٢
٣	للكويرة بحيرة تمتد على مساحة مهنداة لا وطار الاهليات حقيقتها وهذا النوع من الاوطار يتم بقوانين ومزارات حكومية		٣ -	١٢
٤	لأنه تشكل بيئات اكثوية في مختلف المجالات الاقتصادية والاجتماعية واكثوية		٤ -	١٢
٥	كذلك انزال الكركية ترفع اعمارها في الاسواق وهو ما يدفع الملتحقين الى اتمامها		٥ -	٨٧
٦	شبكة ارباع متويات البطالة وانخفاضها لتفوق وهو ما يترك آثاره يوهن في سوق عمل المتعلمين وتدهور مستويات المعيشة العامة		٦ -	١٢





الدور / الثاني

الاجوبة النموذجية للدراسة الاعيادية للعام الدراسي ٢٠١٦ / ٢٠١٧

الفرع / المحاسبة

اسم المادة / ... للاقتصاد ...

جواب السؤال ( الثالث ) فرع ( ٢ )

السؤال	الصفحة	الجواب النموذجي	الدور
٣ فرع ٢	٨٥ ٢	<p>سعر صرف الدولار هو نسبة جوارته العملة بالعملة الاخرى او عند عملة لوحدات من عملة اخرى</p> <p>(تحديد سعر صرف)</p>	١ ٤ ٤ ٤



الدور / الثاني


الاجوبة النموذجية للدراسة الاعدادية للعام الدراسي ٢٠١٦ / ٢٠١٧

الفرع / التربي

اسم المادة / ..

جواب السؤال ( الثالث ) فرع ( ب ) \* \* \*

السؤال	الصفحة	الجواب النموذجي	الدور
٢ ٥٦ ٥٤ ٥٠	٧٨ ٧٤	<p>من اول ٧٤ دولة هو ثقافي على توفر الاستقرار والامن وسيادة القانون وهذه العوامل جميعها توفر بيئة داعمة للمتعلم على زياده لدراسة والقيام بالدراسات وعند ذلك لا تملك اوجه مشروعات الالتمسان على سلامة كلتهم الخاصة.</p>	١
٢ ٥٦ ٥٤ ٥٠	٧٠	<p>بصاف اسلامية . وهي بصارحها لا تقابل بالظانده بالمشاهير ربي محرم وفقاً للشريعة اسلامية ويحرم كل تقاطع بين صن لظار الشري اسلامي . لذي تقوم على مبدأ (الغرم بالغرم) اي ان كل ربح قد يقابل بخارم ولا وجود للربح مخونة بنبه عينيه عن رأيه بال</p> <p>بصاف الكترونية . نظراً للتطور الهائل في تقنيات الاتصالات والاندست فقد عملت اغلب البصاف على تقديم خدماتها عبر شبكات الاتصالات الدولية وبصورة متزايدة عن تقديم الطلبات الخاصة بالقروض مثلاً والأطلاع على صياغة البنائات التي لوضع البروك اذا اطلع من سهل الان السب من بعد لوضع اوصاف القروض عن طريق وسائل لوضع البروك لمصلحة ومن كل اى العالم .</p>	١



الدور / الثاني  
الفرع / إحصائي

الاجوبة النموذجية للدراسة الاعدادية للعام الدراسي ٢٠١٧ / ٢٠١٦  
اسم المادة / ا. ا. ا. اقتصاد. إحصائي

جواب السؤال (الرابع) فرع (٢+٥)

السؤال	الصفحة	الجواب النموذجي	الدور
سؤال ٢	٣	عنايته الى ٣ سنوات .	(٨) درجات
١ -	٣		درجتي
٢ -	٣	$S = X - C$	لكل نقطة
٣ -	٣	الشائع	
٤ -	٣	الذكي	
سؤال ٣	٦		٣ درجات
المراحل		مرحلة إنتاج	القيمة المضافة
الأولى		إنتاج لقطن	٣
الثانية		استحقاق القطن	١
الثالثة		التبييض	٢
الرابعة		إطرابين	٢٥
الأهمالي			٨٥
		طريقة لتابع الرأبي	طريقة القيمة المضافة

الدور / الثاني

الاجوبة النموذجية للدراسة الإعدادية للعام الدراسي ٢٠٢١ / ٢٠٢٢

الفرع / العاشر

اسم المادة / الاقتصاد الكمي

فرع ( / )

جواب السؤال (الخامس)

السؤال	الصفحة	الجواب النموذجي	الدور
١-	١٠١ من	<u>علاقات تشاؤمية ، معوقات وكفيات</u>	دور
٢-	١٠٣ من	<u>السلع ذات الاستخدام العام ، كإدلة كل أنواع السلع</u>	دور
٣-	١٠٥ من	<u>بالتصو اليومي ، سعد الفائدة وتصاؤل طنرون السلع</u>	دور
٤-	١٠٩ من	<u>دائمه او هتميه ، ظروف قارضية هتميه</u>	دور
٥-	١١١ من	<u>المنظمات لدوليه عبر محوئات اقليمية ، الاقتصاديه و الكالييه</u>	دور



الدور / الثاني

الاجوبة النموذجية للدراسة الاعدادية للعام الدراسي ٢٠١٦ / ٢٠١٧

الفرع / التمهيني

اسم المادة / الاقتصاد

جواب السؤال ( ا ب ) فرع ( ب )		السؤال	الصفحة
٢	١	٦ فرع ب ١	٥٢ ٥٤
<p>١- تعمل مختلف بلدان في العالم على اعتماد سياسات اقتصادية تشمل بالاساس جالبية، والتقدير، لكن جميعها لا تتفق او صاكنة هذه كالاتي :-</p> <p>٢- اعتماد سياسة نقدية تتمم بالصرافة والتقدير لفرص النقد مما يجعل كتلة النقود المتداولة محدودة</p> <p>٣- اعتماد سياسة مالية مشددة تشمل بزيادة حجم الضرائب على ايداع المرتفعة من جهة وخفض الوتفاق الحكومي من غير الموجه الى الحكومات لفاعلة</p> <p>٤- بيع السندات الحكومية في ارضاء والمؤسسات من اجل سحب السيولة لتقديره لفرص فقط لطالب كمال في الاقتصاد</p> <p>٥- اعتماد سياسات اقتصادية تتم بزيادة الوتساع والعرض للعرض والكذبات ونقل من الاستهلاك لثاني</p> <p>ملاحظة: السؤال ليس فرع ب الاجابة عن واحد فقط</p>			



الدور / الثاني  
الفرع / التبرهيني

الاجوبة النموذجية للدراسة الاعيادية للعام الدراسي ٢٠١٦ / ٢٠١٧

اسم المادة / ... الاجبة ...

جواب السؤال (البار)		فرع (ب)	
السؤال	الصفحة	الجواب النموذجي	الدر
٦ فرع ب ثانياً	١٨ ص	١. لا يا فديع عن إعتبارهم لكان ٢. بعد عضات كلباً وليس نوعاً لذلك لا يتم توزيعه بل الكدمات المقعدة للمجتمع ٣. لا يتم عقد الأعمال بين لاشم الحسنيين مثل عضات ريان لبيوت أو أمهات الفلاحين لمتجاتهم الزراعية ٤. لا يتم للدوا لسه لان تركها لثبات الوقائية المؤثرة في لسيه والصحة العامة للمجتمع ملاحظة :- السؤال لفرع ب الاجابة عن واحد فقط	١١



# الاجوبة النموذجية 2017

## الدور الثالث



حمل الاجوبة النموذجية لجميع المواد  
عبر الباركود

موقع ملازمنا  
[WWW.MLAZEMNA.COM](http://WWW.MLAZEMNA.COM)

جمهورية العراق - وزارة التربية  
الدور الثالث ١٤٣٩ هـ - ٢٠١٧ م  
الوقت : ثلاث ساعات



دور ثالث

اللجنة الدائمة للامتحانات العامة  
الدراسة : الإعدادية / العلمي ( التطبيقي )  
المادة : الاقتصاد

ملاحظة : أجب عن خمسة أسئلة فقط ولكل سؤال ٢٠ درجة .

س ١ : عرف خمسا مما يأتي :

الميزان التجاري ، مرونة الموازنة ، التخلف ، السياسة الاقتصادية ، الدخل السنوي للأسرة ، البنوك المركزية .

(١٢ درجة)

س ٢ : أ) علل ثلاثاً مما يأتي :

(١) يجب أن تراعي الخطة حدوث التناسق في الأهداف المرغوب الوصول إليها .

(٢) اندفاع اقتصاديات العالم إلى التخصص .

(٣) تمثل البطالة إحدى التحديات الكبرى التي تواجه بلدان العالم .

(٤) في بعض الدول تفرض الرسوم على استخدام الطرق السريعة والجسور الهامة أو زيارة الحدائق والمتاحف العامة وغيرها .

(٨ درجات)

ب) ارسم مخطط يوضح الحلقة المفرغة للتخلف .

س ٣ : أ) في بلد ما كانت قوة العمل تبلغ ( ٢٤٠٠٠٠٠ ) شخص وحجم البطالة يبلغ ( ١٥٠٠٠٠ ) شخص ، احسب

(٨ درجات)

معدل البطالة .

(١٢ درجة)

ب) وضح دور الحضارة البابلية في التجارة الدولية .

س ٤ : أ) في اقتصاد دولة ما كانت قيم إنتاج السلع والخدمات المنتجة والتي يبتتها حسابات الدخل خلال سنة واحدة كما هي مدونة في أدناه ، احسب قيمة الناتج القومي الإجمالي بطريقة الإنفاق .

(٨ درجات)

المبلغ مليون دينار	البند
٢٠٠	إنفاق العائلات
٢٠٠	نفقات الحكومة
١٨٠	الإنفاق الاستثماري
١٢٠	الصادرات
١٠٠	الواردات

(١٢ درجة)

ب) أكمل ما يأتي :

(١) من الطرق المستخدمة لقياس الدخل القومي هي ..... و ..... و .....

(٢) من أنواع الاستثمار من حيث القطاع هو ..... و .....

(٣) من عناصر المنظمة الدولية هي ..... و ..... و .....

(٤) تهدف السياسة الاقتصادية إلى استخدام الإيرادات العامة لتحقيق أغراض عدة منها غرض .....

وغرض ..... وغرض .....

س ٥ : أجب عن أربع فقط :

(١) ما هو الدور الذي تلعبه ( الميل الحدي للادخار ) ؟

(٢) عدد فقط أنواع التضخم .

(٣) ماذا نعني بـ ( الاستهلاك المتأخر ) ؟

(٤) وضح الآثار الاقتصادية للنفقات العامة في مجال الإنتاج .

(٥) من المفاهيم الاقتصادية الكلية ( التوازن الكلي ) ، وضح ذلك .

(٦ درجات)

س ٦ : اجب عما يأتي :

(أ) ما أهم الشروط التي تضمنتها معاهدة (كوبنهاجن) ؟

(٥ درجات)

(ب) حدد فقط مراحل تطور النقود .

(ج) تعد نظرية الدفع القوية أو النمو المتوازن إحدى أهم نظريات واستراتيجيات التنمية ، اذكر

(٩ درجات)

أهم مؤيديها وما أهدافها ؟



الدور / ١ ..... ثانية

الاجوبة النموذجية للدراسة الإعدادية للعام الدراسي ٢٠١٦ / ٢٠١٧

الفرع / ١ ..... رياضيات

اسم المادة / ... للتصميم ...

جواب السؤال ( اول ) فرع ( )

السؤال	النصف	الجواب النموذجي	الدور
١	٧٤ ص	١- الميزان التجاري، هو سجل للمصفقات المتلقية بالسلع والبيانات بين المقصدين من بلد مصد من جهة والمقصدين من بقية بلدان العالم من جهة اخرى في هذه مصفحة اصطلاح على ان تكون سنة.	
	٧٢ ص	٢- مرونة المداخلة: هي السهولة في تنفيذها ومراعاة مواهبه كافة لإقتالات فلان يتم للمالي	
	٩٩ ص	٣- إمكانية معارضة القروض بطارئة من خلال اسراع بيناتك بعرضيات بين اموال يعرف كحتمية	٣ درج
	٧٦ ص	٤- تختلف ا زوجه حاله كتحصيل التي تتماثل فيه مقاصده شوارع ما بين اقتصاديه وسكنيه و اجتماعيه وثقافيه. فالتاثير ان تعمل على اتفاهه وكبح عرضة تطور الاقتصاديه والاجتماعيه.	
		٥- السبله الاقتصادية او هي استخدام مجموعته من الادوات للماليه - لتقديره - العربه) مضه تكثر (عونه ما يتره او مباشر) مما لا يكون وهدات ضع القراء لتصفيف الهداف اقتصاديه مضيه.	

الدور / ...

جوبة النموذجية للدراسة الإحصائية للعام الدراسي ٢٠١٦ / ٢٠١٧

الفرع / ...

م المادة / ...

جواب السؤال ( الأول ) فرع ( )

السؤال	الصفحة	الجواب النموذجي	الدور
٢٧ ص		١- الدخل السنوي للأسرة ١ وهو مبلغ تقديري الذي يمكن تقديره، لعائلته من نشاطه من خلال القيام بأنشطة معينة خلال مدة رخصته معينة خاصة ما ذكرته .	
٢٨ ص		٢- البنوك المركزية، وهي البنوك المسؤولة عن عملية الإصدار التقديري ومراقبة عمليات المؤسسات وإدارة أنظمة التقدير للدولة وتبديل بنوك المركز بنوك البنوك أو بنوك الحكومة.	
		ملاحظة: إجابته عند حسن ظننا بها بكل تقديري مع درجاب	



٤  
رقم الصفحة



الدور / الثالث

جوية النموذجية للدراسة الاعدادية للعام الدراسي ٢٠١٧ / ٢٠١٦

الفرع / البيئي

م المادة / الاقتصاد

جواب السؤال (التحت) فرع (ب)

الرقم	الاسئلة النموذجية	الصفحة	تاريخ
١	<p>انخفاض مستوى المعيشة</p> <p>انخفاض مستوى الدخل الحقيقي</p> <p>نقص تكاليف راسي اعمال</p> <p>تقلص نفقات / ادقًا -</p>	١٠٥	
	<p>كلفه ابراربه , كقرته للعلت</p>		





الدور / السبب  
الفرع / العلم السبب

الاجوبة النموذجية للدراسة الاعدادية للعام الدراسي ٢٠١٧/٢٠١٨  
اسم المادة / لا اعلم

جواب السؤال ( كس )		فرع ( م )	
السؤال	الصفحة	الجواب النموذجي	الفرع
كس	٤٤	معدل البطالة = $\frac{\text{عدد العاطلين عن العمل}}{\text{اجمالي قوة العمل}} \times 100\%$	١
		$\frac{10000}{20000} \times 100\% =$	٥٠٪
		$50\% =$	



لاجوبة النموذجية للدراسة الإعدادية للعام الدراسي ٢٠١٦ / ٢٠١٧

الدور / الثاني  
 الفرع / الجغيا

سم المادة / الإقتصاد

جواب السؤال ( أ ) فرع ( ب )

سؤال	الصفحة	الجواب المفصل	الدرجة
٢٠٢	١٤	<p>ورد في حضارة بابل اشارات تؤكد قيام التجارة                  أثناء مملكة حضارة بابل متأخر مع آسيا الوسطى                  للحصول على الحبوب التي تصيد البابلون طراد الأرواح                  الشريفة و بابلون الكتب الذي يربط بينه المطارد                  من تركيا و لبنان و الحديد من جزيرة كريت الى ليبيا                  و كان التجار البابلون يذهبون الى ( دلمون ) دولة                  البحرين لبيع حبوب السمك ( اللؤلؤ ) كما و د بابل                  و رآخ إعادة التصدير مع الحضارة الفرعونية اذ كانت                  مستورده من آسيا الوسطى و بلاد فارس ثم تصيد                  تصديرها الى مصر الفرعونية و اقامت البابلون في                  مرحلة كاشيف ( السعيد ) كلفه و سلفه للفن                  على في المبادلة و مع ثم اهتموا عمل معدية                  لحوالي ٢٥٠٠ ق م</p>	



الدور / الثالث  
الفرع / التجريب

أجوبة النموذجية للدراسة الإعدادية للعام الدراسي ٢٠١٦/٢٠١٧  
اسم المادة / الاقتصاد .....  
فرع (٣)

جواب السؤال (الرابع)

السؤال	الصفحة	الجواب النموذجي	الدور
٤	١٧		
١			١٧
		السيد	
		اتفاقات العائلات	٢٠٠
		تقانات الحكومة	٢٠٠
		الاتفاقات الاستثمارية	١٨٠
		المهارات	١٢٠
		الواردات	١٠٠
<p>الدخل القومي الاجمالي = الاتفاقات الاستثمارية + الاتفاقات الخارجية (المهارات - الواردات) + صافي المعاملات</p> <p>الدخل القومي الاجمالي = ٢٠٠ + ١٨٠ + ١٢٠ - ١٠٠ = ٤٠٠</p>			



الدور / الثالث  
الفرع / البيهقي

وزارة النموذجية للدراسة الإعدادية للعام الدراسي ٢٠١٧/٢٠١٦  
المادة / الاقتصاد

جواب السؤال (الرابع) فرع (ب)

الرقم	الجواب النموذجي	النسبة	الوزن
١٤	د- طرق الفهم المضاهة وطرق الاتفاق وطرق الإدخال	٧٦	١٥
١٥	٢- الاقتسار العام و الاقتسار الخاص	٣٨	٨
١٦	٣- الاختيارية والارادة الذاتية والاستمرار و الاتفاق الادوي	٩١	٨
١٧	٤- عرضها احيائي توريدي وعرضها اقتصادي وعرضها	٧٦	٨
١٨	تفدي		









الدور / الثاني  
الفرع / البيداغوجي

سوية النموذجية للدراسة الإعدادية للعام الدراسي ٢٠١٦ / ٢٠١٧

المادة / ... الإقتصاد ...

جواب السؤال ( ٥ ) فرع ( / )

رقم السؤال	الجواب النموذجي	الدرجة
٥	ان من اول مهام الدولة هو الاتفاق على توفير الاستقرار والامن وسهولة لقانون هذه العوامل جميع توفير سبل راحة للمستحقين على زيادة الانتاج والقضاء بالاحتياجات دون ذلك لا يمكن لانجاح مشروعات الا لخصان على سلامة وامنهم الخاصة .	٤ ص
٥	لتوازن لكل : يتحقق لتوازن ذلك من اربعة عناصر ستارك بطلب لكل مع العرض ولكن ماذا زاد الطلب عن العرض عند مستوى لتوازن الفاعل ادى ذلك الى حدوث مجوه تعجزه اما اذا حدث قصور بالطلب عن العرض يتولى الفاعل خبيث ادى ذلك الى حدوث مجوه تكاسيه .	٥ ص

ملاحظة الاجابة عن اربعة فقط





الدور / الثاني  
الفرع / التمهيد

الاجوبة النموذجية للدراسة الإعدادية للعام الدراسي ٢٠١٦ / ٢٠١٧  
اسم المادة / .....  
رقم الصفحة / .....

جواب السؤال ( ٥ )		فرع ( / )	
السؤال	الصفحة	الفرع	العدد
٥ ١- لتضم الطعنوع ٢- لتضم المليون ٣- لتضم الجاح ٤- لتضم الزجاج ٥- لتضم المسود	٢٠ ٢٥		
٣- ٢٥ الاشهادك لتابع : هو لا يهدك الذي سغير تغير الذل ابي انه يشع للذل فان لفره لذل يرتضو فله عيل الى تحسن مستوى حياته على خلال زياده انفاقه على راسه والكدمات افضل (البع الكلمة التي لا يقدرها (الاساسية)	٣- ٢٥		

٥٠٠

٥٠٠



الدور / الثاني

الاجوبة النموذجية للدراسة الإعدادية للعام الدراسي ٢٠١٧ / ٢٠١٦

الفرع / ١. لعمري

اسم المادة / الإقتصاد

جواب السؤال (١٠ ص) فرع (٩) وفرع (٥)

السؤال	الصفحة	الجواب النموذجي	الدرجة
١	٩٥	<p>٤ شروط سياسية : على الدولة المترشحة للعضوية أن تتمتع بمؤسسات متقلة تضمن الديمقراطية وتحترم حقوق الإنسان والأقليات .</p> <p>٥ شروط اقتصادية : وجود نظام اقتصادي فعال يعتمد على اقتصاد السوق ويتعامل بحيداً بالمنافسة مع اقتصاديات دول الاتحاد الأخرى .</p> <p>٦ شروط شرعية : بلزوم الدول المراد انضمامها القيام بجملة تغييرات تتضمن اجراء التعديلات الدستورية والقانونية بما يتناسب مع شريعات وقوانين الاتحاد .</p> <p>مراحل تطور النقود</p> <ol style="list-style-type: none"><li>١- مرحلة المقايضة .</li><li>٢- مرحلة النقود المعدنية .</li><li>٣- مرحلة المعادن النفيسة .</li><li>٤- مرحلة النقود المعدنية المنكولة .</li><li>٥- النقود الورقية .</li></ol>	٧



الدور / الثاني

جوية النموذجية للدراسة الإعدادية للعام الدراسي ٢٠١٦ / ٢٠١٧

الفرع / ...

المادة / ...

جواب السؤال ( ١٠٠ ) فرع ( ٢ )

السؤال	الصفحة	الجواب النموذجي	الدرجة
٦	٥/١ ص	<p>اهم مؤيدي النظرية روزانشتاين - رودان وراينر</p> <p>اهم أهدافها :</p> <p>١- إقامة صناعات مختلفة في وقت زمني فقارب منه شأنه خلق سوق واسعة وكيرة فيما بين الصناعات المختلفة .</p> <p>٢- يحل التعادل مع الاقتصاد الوطني وحدة واحدة كونه يتألف من أجزاء عديدة مترابطة .</p> <p>٣- تجعل نظرية التوازن عدداً من روابط حاصلين قطاعات الاقتصاد (الزراعية ، الصناعات كبرى)</p> <p>٤- تكاد بزيادة الانتاج الزراعي عن انشاء صناعات كثيرة ترتبط أساساً بالقطاع الزراعي كصناعات التغذية وصناعة السكر والزيوت النباتية والشب</p>	٩

# الاجوبة النموذجية 2018

## الدور التمهيدي



حمل الاجوبة النموذجية لجميع المواد  
عبر الباركود

موقع ملازمنا  
WWW.MLAZEMNA.COM



تمهيد ٢٠١٨

جمهورية العراق - وزارة التربية  
التمهيد ١٤٣٩هـ - ٢٠١٨م  
الوقت : ثلاث ساعات

لجنة الدائمة للامتحانات العامة  
دراسة : الإعدادية / العلمي ( التطبيقية )  
مادة : الاقتصاد

ملاحظة : أجب عن خمسة أسئلة فقط ولكل سؤال ٢٠ درجة .

س١: عرف خمسا مما يأتي :  
العجز المالي ، الإنتاج ، الاستثمار الخاص ، التضخم المستورد ، طريق الحرير ، التنمية البشرية .

س٢: علل خمسا مما يأتي :

- (١) تفرض الحكومة ضريبة التعريف الكمركية على سلع محددة ( معينة ) .
- (٢) يؤثر موقع الفرد في التوزيع الطبقي للمجتمع على ثقافته وإمكاناته في القيام بالادخار .
- (٣) الاستقرار السياسي والأمني للبلد من أهم العوامل المؤثرة على الناتج القومي .
- (٤) تتصف البلدان النامية بارتفاع مستويات الفقر وهي الأعلى عالمياً .
- (٥) تعد الموازنة العامة واحدة من أهم الوثائق الحكومية .
- (٦) تؤدي مرحلة الركود إلى تراكم السلع في الأسواق .

مكتب  
المندوب الاستثنائي  
الكافية - باب السراوة - ٠٧٩٠١٨٨٤١٩٧

س٣: املا الفراغات الآتية :

- (١) الأمان هو ضمان الحفاظ على أموال ..... والتي تقدم على شكل ..... لأصحاب المشاريع .
- (٢) يتحقق التوازن في الاقتصاد بتساوي ..... مع .....
- (٣) الاستهلاك الحكومي هو كل ما تنفقه ..... ومؤسساتها على السلع والخدمات ..... الفردية والجماعية .
- (٤) البطالة الاحتكاكية عبارة عن التوقف المؤقت عن ..... بسبب الانتقال من ..... إلى أخرى .
- (٥) مرحلة الاتحاد النقدي تهدف إلى توحيد ..... من خلال خلق ..... موحدة للدول الأعضاء وإنشاء سلطة نقدية مركزية .

(٨ درجات)  
(١٢ درجة)

س٤: (أ) ارسم نموذج مبسط للتدفق الدوري .

(ب) صحح ما تحته خط :

- (١) التخطيط الإلزامي يذهب إلى تحضير القطاع الخاص للاستثمار في قطاع معين .
- (٢) المصرف الأوربي أنشئ عام ٢٠٠٢ ليكون البنك المركزي لأوروبا .
- (٣) مرحلة النقود السلعية تعني مبادلة سلعة بسلعة أخرى .
- (٤) تتكون دورة الأعمال الواحدة من ستة مراحل متعاقبة .
- (٥) إن مجموع الميل الحدي للاستهلاك والميل الحدي للادخار يساوي أصغر من الواحد الصحيح .
- (٦) سوق عناصر الإنتاج ( الأجر - الربح - الفائدة - الربح ) .

س٥: (أ) كان الدخل المتاح لشخص ما هو مليون دينار شهرياً وكان الميل الحدي للاستهلاك هو ( ٠,٧٥ ) ، جد مقدار الادخار الشهري .

(ب) اختر الإجابة الصحيحة من بين الأقواس :

- (١) الطريقة البيانية في التحليل الاقتصادي هي : استخدام المنطق والتحليل الاقتصادي ، وضع المتغيرات الاقتصادية في شكل معادلات رياضية ، استخدام الرسوم البيانية ) .
- (٢) الإغراق يعني بيع السلعة في بعض الأسواق الخارجية بـ ( أقل من تكلفتها ، أكثر من تكلفتها ، بتكلفتها ) .
- (٣) القروض طويلة الأجل تكون أسعار الفائدة عليها : ( منخفضة ، مرتفعة ، متوسطة ) .
- (٤) النمو مؤشر : ( نوعي ، كمي رقمي ، نوعي كمي ) .
- (٥) شفافية الموازنة تعني : ( سهولة في تنفيذها ، أن تكون موازنة واحدة ، تتسم بالوضوح الكافي ) .

س٦: أجب عما يأتي :

- (أ) في دولة ما كانت قدرة الاقتصاد على خلق الوظائف الجديدة ( فرص العمل ) في عام ٢٠١٥ ( ٢٠٠ ألف ) فرصة عمل وكان معدل نمو قوة العمل ( ١,٢ % ) سنوياً وعدد سكان البلد ( ٢٣ مليون ) نسمة ، احسب حجم البطالة لهذه السنة .

(٨ درجات)  
(١٢ درجة)

(ب) أجب عن واحد مما يأتي :

- (١) عدد مع الشرح أهم عناصر المنظمة الدولية .
- (٢) اشرح نظرية النمو غير المتوازن ، ثم اذكر أهم القطاعات التي ركزت عليها .

الاجوبة النموذجية للدراسة الاعدادية للعام الدراسي ٢٠١٧ / ٢٠١٨  
اسم المادة / الاقتصاد .....  
الفرع / الاقتصاد

جواب السؤال (الاول) ( فرع )		السؤال	الدرجة
٥	٤	١- اشرح ما هي الفرق بين الإيرادات العامة والتفقات العامة وكيف يمكن التغلب على الإيرادات العامة أم لا مع التفقات العامة ؟	٤
٤	٤	٢- اشرح ما هي الإيرادات العامة وكيف يمكن التغلب على الإيرادات العامة أم لا مع التفقات العامة ؟	٤
٤	٤	٣- اشرح ما هي الإيرادات العامة وكيف يمكن التغلب على الإيرادات العامة أم لا مع التفقات العامة ؟	٤
٤	٤	٤- اشرح ما هي الإيرادات العامة وكيف يمكن التغلب على الإيرادات العامة أم لا مع التفقات العامة ؟	٤







مكتب المتداول الاستشاري  
 باب الدوازة ٠٧٩٠١٨٨٤١٩٧  
 مخرج فحص الدراسة الاعلانية  
 جمهورية مصر العربية  
 MINISTER OF EDUCATION

الدور / لبيبي  
 الفرع / اقتصادي

الاجوبة النموذجية للدراسة الاعلانية للعام الدراسي ٢٠١٧ / ٢٠١٨  
 اسم المادة / ..... للاقتصاد

جواب السؤال ( لثاني )		فرع ( )	السؤال	النقطة
كل	١ - بسبب زيادة الإيرادات وبتعدد مجالات المنتجات لطلبها (الاستماع للمخبر) اذ لا يهدف المجتمع او لخدمة او مصلحة		١ -	١
نصف	٢ - لان اهلقت لقصيرة لامتلاك طعنة على الاداء ولا تشبه ثقافتك		٢ -	٢
١١	٣ - لان لديها يوفرات بيئتك محفزة وداعية للشباب الاقتصادي		٣ -	٣
١٢	٤ - بسبب ارتفاع مستويات البطالة وانخفاض الدخل هوك وهو حاشرك آتارة بولوج في تدشع عند المنعكس وتكهور مستويات لعمت العامة		٤ -	٤



الدور / البشهر

جوية النموذجية للدراسة الاعدادية للعام الدراسي ٢٠١٨ / ٢٠١٧

الفرع / التخصص

المادة / التاريخ

جواب السؤال (الوقت)		الدرجة
السؤال	الجواب النموذجي	الدرجة
٥	لازل تعكس سياسات الحكومة في مختلف المجالات الاقتصادية وكذلك ملامحتها	٧
٦	ارت الكسري، طقبات لا تجد لها طلباً ( العرض، الكسري، الطلب الكلي ) وهذا سيدأ ثقتك، متهليله واصحاب الأعمال تتزعزع بالاقصا وتعيد الأرباح بالانخفاض يوماً بمرور وقتك وتختفي ارباح الشركات	٥
	(٢٠) درجات	
	كل نقطة (٤) درجات	
	د الإجابة على (٥) فقط	

مكتب المنصورة للإستشارات  
الكافية - باب الدروازة - ٧٩٠١٨٨٤١٩٧



مركز فحوص الدراسة الاعدادية  
مكتب المنهج والامتحانات  
القطرية بـ بواب الدوازة ١٩٧٤١٨٨٤١٩٧



الدور / التجهيز

الاجوبة النموذجية للدراسة الاعدادية للعام الدراسي ٢٠١٧ / ٢٠١٨

الفرع / البكالوريا

اسم المادة / الإقتصاد.....

جواب السؤال (الثالث) فرع ( )			
السؤال	الصفحة	الجواب النموذجي	الدور
س١	١٦٦	١- <u>الهودجين</u> و <u>قروفا</u> .	٢٠
س٢	١٦٦	٢- <u>الطلب النقدي</u> و <u>العرض النقدي</u> .	١٦٦
س٣	١٦٥	٣- <u>الحكومة</u> و <u>الاستهلاكية</u> .	١٦٥
س٤	١٦٤	٤- <u>العملا</u> و <u>وحيقة</u> .	١٦٤
س٥	١٦٩	٥- <u>السياسة النقدية</u> و <u>عملة</u> .	١٦٩



الدور / التمهيد  
الفرع / الطبقي

جوبة النموذجية للدراسة الإعدادية للعام الدراسي ٢٠١٨ / ٢٠١٧

المادة / الإقتصاد .....

جواب السؤال ( الرابع ) فرع ( ٤ )

السؤال	الجواب النموذجي	الصفحة	رقم
١٦	<p>نموذج تدفق لدوري</p> <pre> graph TD     subgraph "الدورة"         direction TB         M((المستهلكون))         P((المنتجون))         RM[سوق الموارد]         PM[سوق المنتجات]                  M -- "عوامل إنتاج" --&gt; RM         RM -- "مواد إنتاجية" --&gt; P         P -- "سلع وخدمات" --&gt; PM         PM -- "المنتجات" --&gt; M         M -- "نفقات المستهلكين" --&gt; PM         P -- "إيرادات" --&gt; RM     end </pre>	١٢	٥٣٥



الدور / لمهدي

الاجوبة النموذجية للدراسة الإعدادية للعام الدراسي ٢٠١٧ / ٢٠١٨

الفرع / لتطبيع

اسم المادة / ..... الأحياء.....

جواب السؤال ( الرابع ) فرع ( ب )		النسبة	السؤال
الرد	الجواب النموذجي		
	التوجيه	١٠.٥	٤
	١٩٩٨	١٠	١
	المقايسة	٩.٥	٢
	اربع	٨	٣
	باري الواحد لجميع	٥	٥
	العد - الأرض - رأس مال - لتتقيم	٦	٦

١٥٠ ورقة - تلك مقروءة  
٢٠١٧





الدور / البهردي

وزارة النموذجية للدراسة الإعدادية للعام الدراسي ٢٠١٧ / ٢٠١٨

الفرع / البيضي

المادة / البيضا .....

جواب السؤال ( ٥ ) فرع ( ٢ - ب )

السؤال	الجواب النموذجي	الدرجة
٣	<p>..... × ٧٥ ر = ..... الف دينار عقد الإستهلاك</p> <p>الإدخار = الدخل - الإستهلاك</p> <p>الإدخار = ..... - ..... = ..... الف دينار</p> <p>عقد الإدخار = ..... الف دينار</p>	٥
٤	<p>يقدم الرسم البياني</p> <p>أقدم تكلفتنا</p> <p>مرتفعة</p> <p>كمي رخيص</p> <p>تتم بالوضوح الكافية</p>	٥

١١ ر

١٢ ر

مكتب المنحدر للإستشارة  
بناحية باب الدوازة = ٧٩٠١٨٨٤١٩٧



مكتب المنظر الاستراتيجي  
ببواب الدروازة - ٧٩٠١٨٨٤١٩٧



الدور / التمهيد  
الفرع / العلمي

الاجوبة النموذجية للدراسة الاعدادية للعام الدراسي ٢٠١٧ / ٢٠١٨

اسم المادة / ... الاختيار

جواب السؤال ( ا ب )		فرع ( - ا - )	
السؤال	الصفحة	الجواب النموذجي	الدور
٢٤	١٤٥	<p>عدد الوظائف المتاحة = <math>\dots</math> ألف فرصة عمل مختلفة</p> <p>عدد الوظائف المطلوبة = <math>\frac{\text{عدد عمال السكان} \times \text{عدد السكان}}{\dots}</math></p> <p><math>\dots = \frac{\dots \times \dots}{\dots}</math></p> <p><math>\dots = \dots</math> ألف فرصة عمل</p> <p>عدد البطالة = عدد الوظائف المطلوبة - عدد الوظائف المتاحة</p> <p><math>\dots = \dots - \dots</math> عاطل</p>	١٤٥

مكتب المنظر الاستراتيجي  
ببواب الدروازة - ٧٩٠١٨٨٤١٩٧





مكتبة المنهج  
للإستشارات  
للدراسات والبحوث  
بجامعة القاهرة  
٧٩٠١٨٨٤١٩٢



الاجوبة النموذجية للدراسة الاعدادية للعام الدراسي ٢٠١٧ / ٢٠١٨  
اسم المادة / .....  
الفرع (البي بي بي)

جواب السؤال (السؤال)		فرع (ب) رقم ٢	
السؤال	الصفحة	الجواب النموذجي	الدرجة
١٦	١٠٥ ٤٠	<p>تطبيقات الترخيم المتوازن          يجب فيه تحديد الاشتراكات في البلد النامي          وعصوية تحويل محويرة ليرة وقتها من المشاركة          في مختلف القطاعات الاقتصادية فان صف          الاقتصادية مثل البلد هي شركات وهانز سخر          بقرحات التركيز على زرع اتساع محده يتم          شمولها بالاشتمال مثل الدول ومصانع          الصلب ومصان البترول مع اشتراط ان تزداد          هذه في تنفيذ مناسبات وشركات اخرى          واستعانوا ببعض الشواهد التاريخية في مختلف          البلدان التي ركزت على قطاعات معينة هي:          ١- قطاعات المنسوجات في بريطانيا في ثوبه التاسع عشر          ٢- قطاعات الكوك الحديد في الولايات المتحدة لاروكيه          في ثوبه التاسع عشر          ٣- قطاع النحاس الكيماويات والطاقات الالكترونية          في نصف الثاني من القرن العشرين في          اوربا الغربية</p>	١٢ درجتي

# الاجوبة النموذجية 2018

## الدور الاول



حمل الاجوبة النموذجية لجميع المواد  
عبر الباركود

موقع ملازمنا  
WWW.MLAZEMNA.COM



حظة : أجب عن خمسة أسئلة فقط ولكل سؤال ٢٠ درجة .

- 1 : عرف خمسا مما يأتي :  
الاعتمادات المستندية ، الحساب المزدوج ، الإغراق ، النمو ، القوى العاملة ، الميل الحدي للاذخار .
- 2 : علل خمسا مما يأتي :  
1) تعاني الدول المتخلفة من شحة رؤوس الأموال اللازمة لتمويل التنمية .  
2) اندفاع اقتصاديات العالم إلى التخصص .  
3) إن الدخل والإنتاج ما هما إلا وجهان لعملة واحدة .  
4) لا تستطيع الأسعار في ظل التضخم المكبوت أن ترتفع .  
5) تمثل المصارف أحد أهم المؤسسات المالية التي تساهم في تحقيق التنمية الاقتصادية الشاملة .  
6) الاستهلاك له دور أساسي في تركيب البنيان الاقتصادي وفي تحريك العجلة الاقتصادية .
- 3 : (A : يبلغ راتب موظف في إحدى دوائر الدولة ( ١٠٠٠٠٠٠٠ ) دينار شهرياً ويخضع الراتب إلى ضريبة مباشرة قدرها ( ٨ % ) ، وإذا علمت أن ما يخصصه الموظف للاستهلاك يشكل ( ٩٠ % ) من دخله ، احسب مقدار الدخل القابل للتصرف ( المتاح ) ومقدار الادخار . ( ١٢ درجة )  
(B) ارسم مخطط يوضح سعر الصرف التوازني ، ثم عدّد فقط أنواع أسعار الصرف . ( ٨ درجات )
- 4 : املأ الفراغات الآتية :  
1) تأسس البنك الدولي عام ..... في الولايات المتحدة الأمريكية ويتركز نشاطه في ..... في أعقاب النزاعات والحروب .  
2) الاستثمار الأجنبي هو كل استثمار يتم ..... بحثاً عن دولة مضيضة سعياً وراء تحقيق حزمة من الأهداف .....  
3) التوزيع هو توزيع الدخل الناتج عن الإنتاج على ..... أو هو توزيع الدخل القومي على ..... التي ساهمت في خلق الناتج القومي .  
4) أغلب اقتصاديي القرن التاسع عشر كانوا ينطلقون من تعريفهم لدورات الأعمال من منطلق التغييرات في ..... وليس في .....  
5) الفرق بين الإيرادات العامة والنفقات العامة هو ..... والذي يتحقق عندما تكون الإيرادات العامة أكبر من النفقات العامة أو ..... والذي يتحقق في الحالة المعاكسة .
- 5 : (A - : إذا كان لديك الجدول الآتي الذي يوضح الدخل والاستهلاك في اقتصاد دولة ما ، المطلوب حساب كل من الميل الحدي للاستهلاك والميل المتوسط للاستهلاك .

السنة	الدخل (مليار دينار)	الاستهلاك (مليار دينار)
٢٠١٢	١٠٠	٥٠
٢٠١٣	٢٠٠	١٠٠
٢٠١٤	٣٢٠	١٧٢
٢٠١٥	٤٦٠	٢٧٠

(B) ما أهم الأسباب التي جعلت روز انشتاين - رودان وراجنر من أهم مؤيدي إستراتيجية النمو المتوازن ؟ ثم بين الانتقاد الرئيس الذي وجه إلى هذه النظرية .

المنظور الإستراتيجي  
المنظور الإداري  
المنظور الاقتصادي

- 6 : أجب عن أربع مما يأتي :  
1) من أدوات السياسة التجارية هي التعريف الكمركية ، وضح ذلك .  
2) عدّد فقط أهم العوامل المؤثرة على الادخار .  
3) ما التغييرات الأساسية التي تشملها عملية التنمية الاقتصادية في الهيكل الاقتصادي ؟  
4) اشرح مرحلة النقود السلعية .  
5) ميز بين العدالة الاقتصادية والعدالة الاجتماعية .





الاجوية النموذجية للدراسة الإعدادية للعام الدراسي ٢٠١٧/٢٠١٨. الدور / الأول  
اسم المادة / الإقتصاد ..... الفرع / التمهيدية.

الدرجة	الخدمات العمومية	النص	السؤال
٤	١ / الأعمالات المستندية، وهي مستندات المملوك لتغطية أسياد البضائع والسلع من الخارج أو تهديرها وتملك قطاعات قانونية وأمنية تشتغلها فلتوة لبلد القسرا أو بلد الأسياد أو لبلد العيون.	٦٨	١ س
٤	٢ / الحساب المزروع؛ هو اقتناء المنتجات الوسيطة أو تكرار اقتناء المنتجات الوسيطة أو تكرار اقتناء قيمة السلعة مرتين من فلك اقتناء قيمة الكلفة أو الدقيق أكثر من مرة في صناعة الجوز.	١٥	
٤	٣ / الأخرق؛ هو بيع السلعة في بعث الأسياد الخارجية بأقل من تكلفتها أو سعرها في داخل بلد الإنتاج (المنتج).	٨٧	
٤	٤ / العو؛ وهو عملية تلقائية تتم فيها زيادة الدخل الحقيقي زيادة تراكمية مستمرة عبر مرحلة مستمرة من الزمن بحيث تكون هذه الزيادة أكبر من معدل نمو المكان.	١٠٢	
٤	٥ / القوى العاقلة؛ عدد السكان القادرين على العمل والرعي فيه والذين يكونون في لفظة معينة أما عاملين فعليين أو محالين من بداية مرحلة الشباب إلى سن التقاعد ومن المقارنة عليه دولها أن من الملك هو (١٥-٦٤) أو من القدرة على الملك، أي من الدخل والخروج من سوق العمل.	٤٢	
٤	٦ / الملك الكلي للأرض؛ هو النسبة بين مقدار العنبر في الأقطار ومقدار العنبر في الأرض.	٢٤	



الدور / ...  
الفرع / ...

لاجوبة المنهجية للدراسة الإعدادية للعام الدراسي ٢٠١٧ / ٢٠١٨  
تسع من العاريف  
اسم المادة / ...

الدرجة	الاجابات المتوقعة	الصفحة	السؤال
	<p>أو تعريف آبر ( الميل المدي للأطوار ) هو عبارة عن الزيادة في الأطوار النهائية عند الزيادة في الدخل بوحدة واحدة حاففة الأجانب من (هـ) عاريف لكل تعريف (٤) درجات</p> <p>علامت أو قد يكفي باسم لتفسير بالنيك لغلات والميل كمي للأرض</p>		





الدور 1 / الأول

الاجوبة النموذجية للدراسة الاعدادية للعام الدراسي 2018/2017

الفرع / البيشمقي

اسم المادة / الاقتصاد .....  
جواب السؤال (التالي) فرع ( )

السؤال	الدرجة	الجواب النموذجي	الدرجة
س1	3	د- نتيجة لضعف الادارة او نتيجة لقياس السياسات التي توظف زورحة الافعال المحلية للاستثمار في قطاعات الاقتصاد.	4
س2	3	د- ان الاختلاف في تساليف رتقات انتاج السلع المختلفة فهناك دول لديها القدرة على انتاج سلفة ما وليس تساليف عالية مما تستحق دولة اخرى تساليف اقل مما يحتمل اختلاف في الكلفة مع الانتاج.	4
س3	3	3- الانتاج هو سلع وخدمات بينما الدخل هو القيمة النقدية للانتاج فكل دينار يتم اتقاؤه من قبل اية شخص بعد دخلا لشخص اخر.	4
س4	5	4- لوجود الفئود الكفوية اطيا سره للسيطرة على رفع الاسعار مثل التسخير الاصباري ونظام البطاقات القونية.	6
س5	5	5- نظرا للدور الكبير الذي تلعبه اصناف في جميع المدخرات واعادته توريدها وتوظيفها بكفاءة وقا عليه في مشاريع انتاجية واستثمارية مما يزيد من فرص التوظيف الكف الافعال وزيادة مستوى التشغيل بصوره عامه.	6



الدور / الأول

الاجوبة النموذجية للدراسة الاعدادية للعام الدراسي ٢٠١٧ / ٢٠١٨

اسم المادة / ... / ...

الفرع / التقني

جواب السؤال ( الثاني ) فرع ( )

السؤال	الاجابة النموذجية	الدرجة
سؤال	<p>١- اذا ان الاستهلاك علاقة عكسية بالاشباع فما الاستهلاك بواجه دائما اجابا لسلع أو كرفاهة التي تبتع في ذلك الوقت واما بالسلع التي انتجت من قبله والاشتمالات وفرص العمل لها امر ان فتلقان حجم الطلب الكلي على السلع والخدمات</p>	٤

ع  
اربع  
للك  
نقطة







الدور / الأول

لاجوية النموذجية للدراسة الإعدادية للعام الدراسي ٢٠١٧ / ٢٠١٨

الفرع / التمهيني

سم المادة / ..... الاقتصاد .....

جواب السؤال ( الثالث ) فرع ( B )

السؤال	العدد	الجواب النموذجي	الدور
٢٠ ٢١ فرع ٢٢	١٠	<p>الدولة</p> <p>الدينار (تحدد سعر صرف)</p> <p>التوازن</p> <p>١. سعر صرف لعموم او الحر</p> <p>٢. سعر صرف المبادر</p>	٧





الدور / الإجابة

الاجوبية النموذجية للدراسة الاعدادية للعام الدراسي ٢٠١٧ / ٢٠١٨

الفرع / العجائبي

اسم المادة / الإقتصاد .....>

جواب السؤال ( المرجح ) فرع ( )

السؤال	التصحيح	الجواب النموذجي	الدور
سؤال ١	٩	١- المساعدة على الاعمار	
سؤال ٢	٣٨	٢- نماذج حوضته والاقتصادية والمالية	
سؤال ٣	٧	٣- المساهمة في عملية الانتاج وعناصر الانتاج	
سؤال ٤	٥	٤- مستويات الاسعار والانتاج	
سؤال ٥	٤	٥- الفاتحة الماي والحجز الماي	

٥. درجة لكل فراغ درجتان

مكتب المنذري الاستفسار  
الكاظمة - باب الدروازة - ٠٧٩٠١٨٨٤١٩٧



الدور / الإول ...

جوبة النموذجية للدراسة الإعدادية للعام الدراسي ٢٠١٧ / ٢٠١٨

الفرع / البيئي

م المادة / الاستصحاب .....

جواب السؤال ( الخامس ) فرع ( A )

السؤال	النسبة	الجواب النموذجي						الدور
٥٥	٤٧	السنة	الرجل	الاستهلاك	التقني	التقني	APC	
١	٤٧	الرجل	الرجل (رجل)	الاستهلاك (علية)	الاستهلاك	التقني	MPC	
		السنة	الرجل	الاستهلاك	التقني	التقني		
		٤١٤	١٠٠	٥٠	١٠٠	١٠٠	١٠٠	
		٤١٤	٤٠٠	١٠٠	١٠٠	١٠٠	١٠٠	
		٤١٤	٣٤٠	١٧٤	١٤٠	٧٤	١٠٤	
		٤١٥	٤٦٠	٤٧٠	١٤٠	٩٨	١٥٩	

الاجوية النموذجية للدراسة الاعدادية للعام الدراسي ٢٠١٧ / ٢٠١٨  
اسم المادة / ... الأبقصا ...  
الدور ١ / الأول

جواب السؤال (الخاص) فرع (B)			
السؤال	الدرجة	الجواب النموذجي	الدرجة
٥ ر ب	١٠٥ ص	<p>الإجابة أ -</p> <p>٣. إقامة ساعات مختلفة زمنية زمنية متقاربة من ساعة هلو سوف راحة كبيرة تتباين الصاعات المختلفة .</p> <p>ب - يجب التفاعل مع الإنتاج لوضع وحدة واحدة كونه يتألف من أجزاء عديدة مترابطة .</p> <p>ت - تعمل نظرية التوازنات على إيجاد روابط ما بين قطاعات لإقتصاد (الزراعية - الصناعية - الخدمية) .</p> <p>د - تساعد زيادة الإنتاج الزراعي على استحداث صناعات عديدة ترتبط بها بالقطاع الزراعي والصناعات الإغذية وصناعة السكر والزيت النباتية والحليب .</p> <p>الإجابة الى نظرية التوازنات انتقاد رئيسي تتمثل بانها تحتاج الى تعديل كبير قد لا يكون مقدور البلاد توفره بسبب ضعف إدرات المحلية مما يشوب الاستغناء بمصادر خارجية .</p>	

الدور / الدور

جوبة النموذجية للدراسة الإعدادية للعام الدراسي ٢٠١٧ / ٢٠١٨

الفرع / الفرع

المادة / الاقتصاد

الدرجة	الجواب النموذجي	النسبة	سؤال
٥ درجات	<p>١- هي ضريبة تفرضها الحكومة على سلع محددة (معينة) بهدف زيادة الإيرادات أو بهدف حماية المنتجين المحليين (الإنتاج المحلي) أو لهدفين اجتماعيين أو صحتيين أو بيئيين وقد تستهدف أنواعاً من السلع لتعقد رفع سعرها في الأسواق مما يؤدي إلى انخفاض استهلاكها أو تعهدت على التهرب الضريبي للسلع المستوردة ولرعاية ماله أو صحتيه أو أمنه. تفرض ضريبة غير مباشرة تحت ضريبة الإنتاج أو المبيعات (كالشركات - الكائن - الطور - السيارات الفاخرة - الخ) بغية التفرغ من زيادة الإيرادات العامة أو يتم فرضها لفرض الحركية على بعض السلع من فئة المنتجات الزراعية وتبقت المنتجات الصناعية من أجل حماية المنتج المحلي مما يكون الفرض الحركية ترفع أسعارها وهو ما يدفع المنتجين المستوردين إلى السلع المحلية.</p>	٨٦	سؤال
٥ درجات	<p>(٢) أ / مستوى الدخل ب / مستوى الأسعار ج / استقرار العملة د / معدل الفائدة هـ / الموقع الاجتماعي</p>	٢٢	
٥ درجات	<p>(٣) ١- ارتفاع مساهمة الصناعة في الناتج القومي (مع انخفاض أسهم الزراعة) ٢- أن يكون أيضاً رالبلاد الأسهم الأكثر في عملية التخصيص الاقتصادي وتلك للأجانب أفراد وشركات المادة وذلك</p>	١٢	

الدور / الأول  
الفرع / الهندسي

الاجوبة النموذجية للدراسة الإعدادية للعام الدراسي ٢٠١٧ / ٢٠١٨  
اسم المادة / ا.أ. مستقاً.....

جواب السؤال (السادس) فرع ( )

الدور	التصنيف الموضوعي	الصفحة	السؤال
٥ ٧٧	<p>٤) مع تطور النظام الاقتصادي وتوسعه وازدياد الحاصم الى السلع المنتجة والمواد من مجتمعات افقر وتتمتع بتغير نظام المقايضه ظهرت الحاجة لوجود ما يمكن ان يطلق عليه بالنقود السعيه وهي مجموعة من السلع ذات الأستخدام العام والمفيد لك قطاعات المجتمع بحيث يمكن استخدامها كوسيلة لمبادلة كل أنواع السلع والخدمات الأخرى فأصبح الصوف والقمح من أهم البعادت تنتم بكل واحد من لبعدها السلع الأكثر رواجا في المجتمعات الزراعية.</p> <p>مكتب المنذر للإستشارات الكاظمية - باب الدروازة - ٧٩٠١٨٨٤١٩٧</p>	٦٢	
	<p>٥) العدالة الاقتصادية . وتعد لمراتب الفهمه كامله لرفع أفراد المجتمع كامن وتلك مناهج المناهج في النظم الاقتصادي والمناهج كله العوائق التي تحول دون أتمام الفرصه المتاحه وتعد الدول المتقدمه الى الأستقلال عن المردوم لضعف للعدالة الاقتصاديه الى مفهوم ادسج يتضمن عداله توزيع الانفاقت العام او العائد ثابت الاقاليم اذ بين الاصل المساقيه اذ بين الرقاب والتساوي العدالة الاجتماعيه: هي تلك الحاله التي تتفق فيها النظم والاستقلال والفرق والمراتب من التره والعلم او طهرها والتي تفتقر فيها الفقر والرهيق والانفاقت الاجتماعي وتقدم فيها الفرقه عند المقبوله الاجتماعيه لارتفاع والجائعات والاقاليم داخل الدوله وتقتصر فيها الجسوع كصوت اقتصاديه والاجتماعيه وسياسته وسياسيه متساويه ومبررات متكافئه (ملاحظة: كالماتية عن اربعة فقط)</p>	٩ و ٨	



# الاجوبة النموذجية 2018

## الدور الثاني





جمهورية العراق - وزارة التربية  
الدور الثاني ١٤٣٩هـ - ٢٠١٨م  
الوقت : ثلاث ساعات

الثاني ٢٠١٨  
علم



الجنة الدائمة للامتحانات العامة  
دراسة : الإعدادية / العلمي ( التطبيقي )  
المادة : الإقتصاد

ملاحظة : أجب عن خمسة أسئلة فقط ولكل سؤال ٢٠ درجة .

س1 : عرف خمسا مما يأتي :  
الدورة الخبيثة للتضخم ، الميل المتوسط للاستهلاك ، المنظمة الدولية ، سعر الصرف المعوم ، الواقعية ،  
الناتج المحلي الحقيقي .

س2 : علل أربعا مما يأتي :

- (1) ليس كل من لا يعمل يمكن اعتباره عاطلاً عن العمل .
- (2) لعن الإقتصادي ( بيلا بلاسا ) من أكثر الإقتصاديين تنظيراً للتكامل الإقتصادي .
- (3) تعد حلقة تكوين رأس المال أهم الحلقات المفرغة .
- (4) الموازنة العامة تعد من أهم الوثائق الحكومية .
- (5) لا تعد إعانات العاطلين أو التأمينات الاجتماعية أو الدخول التي يحصل عليها المتسولين دخولاً لمستلمها .

س3 : (A) كان الدخل القومي لإحدى الدول لعام ( ٢٠٠٥ ) هو ( ٦٠٠ ) مليار دينار ، وكان الرقم القياسي للأسعار قد

- ( ٦ درجات )  
( ٨ درجات )  
( ٦ درجات )

بلغ مستوى ( ١٢٠ ) ، ما الدخل الحقيقي ؟

- (B) عدد مع الشرح أهم أهداف المصارف .  
(C) تعد مرحلة المعادن النفيسة أحد مراحل تطور النقود ، وضّحها باختصار مبيناً أهم عيوبها .

س4 : املأ الفراغات الآتية :

- (1) يقسم الاستهلاك من حيث النمط إلى قسمين هما ..... و .....
- (2) إن الدخل والإنتاج ، ما هما إلا وجهان لعملة واحدة فالإنتاج هو ..... بينما الدخل هو .....
- (3) يتخذ نظام الحصص شكلين أساسيين هما ..... و .....
- (4) يتحقق التوازن في الإقتصاد بتساوي ..... مع .....
- (5) لكل موازنة عنصرين أساسيين هما ..... و .....

( ٦ درجات )

س5 : (A) ارسم مخططاً يوضح المراحل التي تمر بها دورة أعمال واحدة .

- ( ٨ درجات )  
( ٦ درجات )

(B) كان الدخل المتاح لشخص ما هو مليون دينار شهرياً ، وكان الميل الحدي للإستهلاك هو

( ٠,٧٥ ) ، جد مقدار الادخار الشهري .

(C) أجب عن واحد مما يأتي :

- (1) ما الآثار الاقتصادية للإيرادات العامة ؟
- (2) عدد طرق التحويل الإقتصادي .

س6 : A- في بلد ما كانت قوة العمل تبلغ ( ٢٤٠٠٠٠٠ ) شخص ، وحجم البطالة يبلغ ( ١٥٠٠٠٠ ) شخص

- ( ٦ درجات )  
( ٨ درجات )

احسب معدل البطالة .

(B) أجب عن واحد مما يأتي :

- (1) ما أسباب ظهور البطالة الاحتكاكية ؟ وما الطريقة الكفيلة لمعالجتها ؟
- (2) عدد أهداف التكتلات الإقتصادية .
- (C) ميز بين شمول الموازنة وشيوع الموازنة .

( ٦ درجات )



ص

الدور / الثاني

الإجابة النموذجية للدراسة الإعدادية للعام الدراسي ٢٠١٧/٢٠١٨

الفرع / التطبيقية

اسم المادة / الإقتصاد.....

جواب السؤال ( الأول ) فرع ( / )

السؤال	الاجابة النموذجية	الطاقة
١	<p>الدورة الحسنة للتقويم وهي من أهم أنواع التقويم وتهدف إلى زيادة الاهتمام بالدراسة وتبسيطها وتقليل تكاليفها وتبسيطها وتبسيطها وتبسيطها وتبسيطها وتبسيطها وتبسيطها وتبسيطها وتبسيطها</p>	٥
٢	<p>الميل إلى التورط للاستهلاك وهو النسبة بين حجم الاستهلاك وحجم الدخل الذي يتحقق من الاستهلاك وتكون قيمة الميل للإستهلاك أكبر من إهفر وأهفر من الواحد الصحيح</p>	٥
٣	<p>المتفقت الدولية هي نسبة تقويم مجموع دول التفقت (التصديراً) وقيمة فصاف تهي لتوقع عليك فعاينها يلك من الريع لتفقت أغزاهت وفضالغ مشترك على خود دائم وتتبع هذه الهيئة بالشخص المصنوع والقانونية المستقلة المتبصرة عن الدول لتبضع فقط في المال لدول</p>	٩
٤	<p>سعر الصرف المعوم وهو السعر الذي لا يركب أي تدخل من جانب لدول أو البنك المركزي في كثرية الواقعية وهي من المبادئ الأساسية للتخطيط وتعني عدم اعتماد الهدف كبرى لا تتناسب مع ما هو مقاص من القدرات المالية والمادية والشريفة للبلاد</p>	٧

تقدير لجهودكم



الدور / الثمانية  
الفرع / التلخيصي

بنة النموذجية للدراسة الاعدادية للعام الدراسي ٢٠١٧ / ٢٠١٨

لمادة / ... الامتحان ...

جواب السؤال ( ) فرع ( )

الدرجة

المواضع المخصصة

الاصناف

الناتج الملحق الحقيقي  
وهو الناتج الملحق بالأسعار الثابتة أي بعد  
استبعاد التضخم وكذا بعد مقياساً مناسباً للمقارنة  
مع البيانات الأخرى

ملاحظة (الأمثلة من (هـ) تقاريف  
لك تعريف (ع) درجات





الدور / الثاني

الاجوية النفونجية للدراسة الاعدادية للعام الدراسي ٢٠١٠ / ٢٠٨

الفرع / المحاسبة

اسم المادة / ا.ا. الاقتصادية

جواب السؤال ( الثاني ) فرع ( )

السؤال	الدرجة	الجواب	الدرجة
١	٥	الآن كل من ( التلافيد والمعافين والمستهجن والمقاعد من درجات البتور ، الشجار ، والعافين من العمل الذي لا يبحون عنه عمل ) لا يمكن اعتبارهم عاطلين عن العمل .	٥
٢	٥	الآن قد وضع ابي ومراط التكامل الامتصادي والتي لعمتها معظم تجارب التكامل و أبرزها الاتحاد الأريبي .	٥
٣	٥	الآن أخصاف مستوى لرفض لوري الى أخصاف الأضرار ، وبالتالي أخصاف الأصول لرأسعالية (المكاتب والآلات والمعامل الخ ) مما يسبب أخصاف الأنتاجية والانتاج في المجمع مما يورى الى أخصاف مستوى لرفض وصف ثم أخصاف الأضرار .	٥
٤	٥	لأنها تعكس سياسات الحكومة في مختلف المجالات لقطاعية والأقتصادية والكيفية ، ويرتبط إعمار الموازنة بعدة مجالات علمية ففهمها كالأقتصاد والأدارة والمالية والمالية العامة والتخطيط والقانون والمحاسبة فضلاً عن المجالات البيانية .	٥
٥	٥	لأنها تعد فنونيات كقوليك - ملازمة / الأمانة عن أربعة تعاليل لكل تعليل (٥) درجات	٥

بيل  
بعليل  
(٥)  
درجات

الدور / الثاني  
 الفرع / لغة عربية

التفويضية للدراسة الاعيادية للعام الدراسي ٢٠١٧ / ٢٠١٨

نوع / الاختصاص

نواب السؤال ( الثالث ) فرع ( A )

الدرجة	المواضع المحددة	المسئلة
--------	-----------------	---------

الدخل الحقيقي =  $\frac{\text{الدخل القدي}}{\text{الرقم القياسي للاسعار}}$   $\times 100$

١٥  
نقطة

الدخل الحقيقي =  $\frac{100}{120} \times 100 = 83.33$   
 اي ان التغير قد حصل من سنة ليدخل بمقدار  
 100 مليا وسيا اوان لغته كقيمه للدخل هي  
 83.33 مليا وسيا

( ٦ )  
 حيا  
 حيا  
 حيا





الدور / الثاني

الاجابة النموذجية للدراسة الاعداية للعام الدراسي ٢٠١٧ / ٢٠١٨

الفرع / التمهيد

المادة / الاعتقاد

جواب السؤال ( الثالث ) فرع ( B )

السؤال	الجواب النموذجي	النقاط
١ ٢ ٣ ٤ ٥	<p>١. الأهداف لعامة : هي أهداف يتم السعي الي تحقيقها من قبل المعنى للدولة باعتبارها اهل لقطاعات الاقتصادية الهامة في كل بلد ، والذي سعى الي تحقيق التنمية الاقتصادية والاصناعية وتحقيق استقرار اقتصادي والمال وزيادة مردد التوظيف الكف للأموال وزيادة مردد العمل من خلال ذلك</p> <p>٢. تعظيم الارباح : وهو الهدف لاساسي لمنظمات الأعمال اذ تعمل على تعظيم مستويات ارباحها مما يمكنها من تحليل الاستثمار اذ مثل للمورد لمساعدة في ظل المنافسة الشديدة في الاسواق</p> <p>٣. الاعتقاد بالسيولة : وتتمثل سيولة مديره بطرف على استثمار بالاربعاء بالترافاة طالبة تجاه الموردين والاطراف المختلفة في الوقت المحدد ، اذ تحتفظ بعرف بمشويات من سيولة يرددها السائل كمرزق . كأن تكون ( لا ) من لوردية وهذه تتمثل بتقال لسيات لانتقادية طهنة فاذا كانت الوهمه لانتقادية توأمة فان ( مشع )</p>	٦٦





الدور / .....

تربية النفوس للدراسة الإعدادية للعام الدراسي ٢٠١٧ / ٢٠١٨

الفرع / .....

المادة / .....

جواب السؤال ( الثالث ) فرع ( B ) كلمة

الدرجة	الأسئلة المطلوب	الاجابة
--------	-----------------	---------

كلمة فرع B

البناء تحت حكم لا يتأهل لقانون وهذا يعني  
 مرونه للمصارف بالتمتع بحقوقه الكثر وعلى  
 العكس اذا كانت لبيانات ذات طابع اقل  
 فان لا يتأهل لقانون سيتم رفعه الى مستوى  
 اعلى مما يقبل من مرونه للمصارف

٣- ابحاث : ونفسه فان الحفاظ على احوال  
 المورثين والى تقدم على كل عرض لا يمكن  
 المصارف، وانما كدفن اعطائه لادائها وعدم  
 الاستثمار في المشاريع ذات مستوى مخاطره  
 مرتفعة، وكما هو الحال مع لعله فان لا يمكن  
 بعد قيدا على يعرف الا من كونه ههنا عند ذاته  
 وعلمه احوال يعرفه احمق لتوازن مطلوبين  
 البيانات لذي تعرفها لتظام يعرف الممول به في  
 البلد والذي تعرف عليه ورأيه السن المركزي  
 ومنه متطلبات الصرفة لخاصه لتي تقدم لخدمات باليه  
 عقابله عائلته



الدور / الثاني

سوية التفوقية للدراسة الإعدادية للعام الدراسي ٢٠١٧ / ٢٠١٨

الفرع / التطبيقية

المادة / اللغة العربية

جواب السؤال ( الثالث ) فرع ( ج )

السؤال	الاجابة النموذجية	الدرجة
٤ س ع ٢	<p>رافقت اهتمام السلع كوسيلة للتبادل بعدد من المشاكل من بينها عجزها عن تأمين تطور الحياة الشرية التي تقدرت فحتماً تراجعت كالأ شي هامة الى سلعه خصيه تلتق عتولاً عاماً لا يقدرها كوسيلة في تسهيل عملية لمبادلة فقد الهدى لإنشاء الى المعادن لتفتية من ذهب وفضة ونحاس وكان لتقابل يتم على أساس الوزن وعدت عيوبه : : ندرة المعادن واعطائه عند توزيعه واختلاف اوزانه</p>	١٤



الدور / الثاني  
الفرع / التربية

٢٠١٨ / ٢٠١٧ الدراسي للعام الاعداية للدراسة


لمادة / ١٨١

جواب السؤال ( الرابع ) فرع ( - )

الدرجة	الجواب النموذجي	النقطة	ال
	شاهدا (فردى) عام (مكوفى)	٥	ص
	لغ وهذفات قيمت نقدية	١٠	ص
	كفى (اوران) كفى نقدى	١٧ ٥٨	ص
	الطلب كلى العرشا كلى	٩	ص
	التقعات لغات الابرادات لغات	٧٤ ٥٧	ص

(٢٠) درهم وثلث غرام (٩) درهم  
وكل نقطة (٤) درهم

٩  
رقم الصفحة



الدور / الثاني  
الفرع / الرياضيات

الاجوبة النموذجية للدراسة الاعدادية للعام الدراسي ٢٠١٧/١٨  
اسم المادة / الاحصاء

جواب السؤال ( ٥ ) فرع ( A )

السؤال	الجواب	الدرجة
٥٦	<p>العمق</p> <p>الزمن</p> <p>المقر</p> <p>فترة الإنجاب</p> <p>فترة التوت</p>	٥٦



الدور / الثاني

٢٠١٨ / ٢٠١٧

الفرع / الرياضيات

بنة التفويضية للدراسة الاعدادية للعام الدراسي

امادة / الاحتمالات

فرع ( B )

جواب السؤال ( ٥ )

الدرجة	الجواب المطلوب	الاصح	ال
--------	----------------	-------	----

$$\text{الادفان} = \frac{\text{عدد الاحتمالات}}{\text{عدد النتائج}}$$

$$\text{الادفان} = \frac{\text{عدد الاحتمالات}}{\text{عدد النتائج}}$$

$$\text{مقدار الاحتمال} = \frac{\text{عدد الاحتمالات}}{\text{عدد النتائج}}$$

٢٢





الدور / الثاني  
الفرع / البيئي

الإجابة النموذجية للدراسة الإعدادية للعام الدراسي ٢٠١٧ / ٢٠١٨

اسم المادة / ... ١. إحصاء

جواب السؤال ( ٥ ) فرع ( ٢ )

الدرجة	الجواب النموذجي	الصفحة	السؤال
	<p>٤- تعريف المجتمع - توزيعه يتم بالأخذ من وصول الإختيار وتوزيعها إلى مستويات تخدم الفقار وهذا يتم إعادة توزيع الدخل القومي لصالح تحقيق مبدأ العدالة</p> <p>ب- تعريف البطالة يحدث ال تحويل مشروعات عدم الأعداد القومي مثل النيل الحثية وإقامة مشروعات لا يخدم القطاع العام على العلم في. أما ارتفاع الخاطرة أو لعدم قدرته على التوظيف.</p> <p>ج- تعريف نقدي تتمثل خفض القدرة الشرائية المكافئة للأفراد أو نقص الطلب الكلي نتيجة بيع التوقعات الشخصية والتعامل بالمصلحة الشخصية</p>	٦٦	٥



الدور / الثاني

٢٠١٨ / ٢٠١٧ للعام الدراسي

الفرع / البيولوجيا

مادة / ...

فرع ( C )

جواب السؤال ( س )

الدرجة	الملاحظات	الرقم
١٠	٢ - الطريقة الوصفية : استخدام الصلح والتحليل الاقتصادي ٣ - الطريقة البائية : استخدام الرسوم البيانية ٤ - الطريقة الاليفية : وضع المقدمات الاقتصادية في شكل معادلات رياضية  ملاحظة / الإجابة عن نقطة واحدة مع صنع C	١٠





الدور / الثاني

٢٠ / ٢٠

اجوية النموذجية للدراسة الاعدادية للعام الدراسي

الفرع / العلمي

المادة / الاقتصاد

فرع ( A )

جواب السؤال ( ا ب د )

الدور	الجواب المطلوب	النسبة
	<p>عدد البطالة = <math>\frac{\text{عدد العاطلين عن العمل}}{\text{اجمالي قوة العمل}} \times 100</math></p> <p><math>\frac{150}{1000} \times 100 = 15\%</math></p> <p><math>100 - 15 = 85\%</math></p>	<p>٦ ١ A</p>
<p>٦ خريف ١٤٤٤ و د س</p>	<p>اجيب عن واحد فقط :</p> <p>١- اجاب في ظهور البطالة الاقتصادية</p> <p>٢- الاقتصا - الى المراهة والخبرة اللازمة لتأديه</p> <p>٣- العمل المتناقص</p> <p>٤- صعوبة اتكيت الوظيفة انما عن</p> <p>تقسيم العمل والتخصص الرفيق</p> <p>٥- التغير المستمر في بيئه الاعمال والمهن</p> <p>المختلفة الامر الذي يتطلب اتساع</p> <p>مهارات فتوفه وعموده بأ حتم</p> <p>المعالجة : توفير المعلومات الكامله في جدول</p> <p>تترك معلومات الوظائف المرتبطه بأ عمده</p> <p>كمبيوتر مركزه ( كما في بعض البلدان المتقدمه )</p>	<p>B</p>

الدور / الثاني

٢٠٠ / ٢٠

ة النموذجية للدراسة الإعدادية للعام الدراسي

الفرع / العلوم

مادة / ..... الأيقاع

فرع ( B )

جواب السؤال ( السادس )

الدرجة	الاجابات النموذجية	النقطة	العلامة
١ درجات	<p>أهداف التكتلات الاقتصادية :</p> <p>١- تعزيز القدرات التنافسية لقطاع التكتل بشكل موحد</p> <p>٢- تبادل المزايا والخبرات في الأعمار</p> <p>٣- تقسيم العمل والتخصص على أساس القدرات التنافسية</p> <p>٤- توسيع الأسواق بإزالة الحواجز لكل دولة</p>	٤٠ ٤٠	١ ٢
٢ درجات	<p><u>شمول الموازنة</u> : أي أن الموازنة العامة يجب أن تشمل جميع إيرادات الحكومة ونفقاتها فلا يتم أي صرف للحكومة خارج الموازنة العامة ولا يتحقق أي إيراد لا إلا وبدء ضمن الموازنة ويتطلب ذلك الإقناع والتخفيف من قبل اللجنة الحكومية</p> <p><u>شموع الموازنة</u> : أي أن لا يخصص إيراد معين لحكومة معينة أو نشاط بالذات إذ تكون الإيرادات في جهات والكهرومفات في جهات الخ</p>	٤٠ ٤٠	٣

# الاجوبة النموذجية 2019

## الدور التمهيدي



حمل الاجوبة النموذجية لجميع المواد  
عبر الباركود

موقع ملازمنا  
WWW.MLAZEMNA.COM





ملاحظة : أجب عن خمسة أسئلة فقط ولكل سؤال ٢٠ درجة .

س١: عرف خمسا مما يأتي :

الواقعية ، الفجوة التضخمية ، الادخار الاختياري ، الوديعة ، التكامل الاقتصادي ، مرحلة الكساد .

( ١٢ درجة )

س٢: أ) علل ثلاثاً مما يأتي :

١- سُمي الدخل الفردي بالدخل المتاح .

٢) عانت مرحلة النقود المعدنية النفيسة من بعض العيوب .

٣) تفرض الحكومة ضريبة التعريفية الجمركية على سلع معينة .

٤) يصعب إعطاء تعريف ( للتخلف ) يحظى بالقبول العام .

ب) في اقتصاد دولة ما كانت قيم إنتاج السلع والخدمات المنتجة والتي بيّنتها حسابات الدخل خلال سنة واحدة

( ٨ درجات )

كما مدونة في أدناه ، المطلوب حساب قيمة الناتج القومي الإجمالي بطريقة الإنفاق :

المبلغ ( مليون دينار )	البند
٢٠٠	إنفاق العائلات
٢٠٠	نفقات الحكومة
١٨٠	الإنفاق الاستثماري
١٢٠	الصادرات
١٠٠	الواردات

س٣: املأ الفراغات الآتية :

(١) تنشأ البطالة المقنعة في الحالات التي يكون فيها عدد العمال المشتغلين ..... للعمل مما يعني وجود

..... لا تنتج شيئاً تقريباً .

(٢) الفرق بين الإيرادات العامة والنفقات العامة هو ..... والذي يتحقق عندما تكون الإيرادات العامة أكبر

من النفقات العامة أو ..... والذي يتحقق في الحالة المعاكسة .

(٣) من مشكلات التخطيط المركزي ، وجود جهاز إداري كبير يتسم ..... تجاه المستويات .....

(٤) الموازنة العامة تقدير مفصل ومعتمد ..... لفترة زمنية لاحقة عادة ما تكون .....

(٥) كلما زاد معدل الفائدة الممنوحة من قبل ..... كلما حفّز ذلك الأفراد على .....

س٤: أجب عن أربعة مما يأتي :

(١) من صفات المجتمع المتخلف ، الفقر ، وضّح ذلك .

(٢) الاستخدام ( التشغيل ) من أهم الآثار الاقتصادية للنفقات العامة ، بيّن ذلك .

(٣) عدّد خمس فقط من أنواع المصارف .

(٤) ما المقصود بقوة العمل ( القوى العاملة ) ؟

(٥) اشرح طريقة القيمة المضافة لقياس الدخل القومي .

س٥: أ) كان الدخل المتاح لشخص ما هو ( ٢٠٠٠٠٠٠٠ ) دينار شهرياً ، وكان الميل الحدي للإستهلاك لديه

( ٨ درجات )

هو ( ٨٠ ، ٠ ) ، جد مقدار الادخار الشهري .

( ٦ درجات )

ب) الاستثمار يؤدي دورين مهمين في الاقتصاد ، اذكرهما .

( ٦ درجات )

ج) ما أهم المفاصل الجوهرية لخيارات التنمية البشرية ؟

س٦: أ) اختر الإجابة الصحيحة من بين القوسين لكل مما يأتي :

(١) مكافأة عنصر رأس المال هو ( الربح ، الفائدة ، الربح ) .

(٢) كل ما تنفقه الحكومة ومؤسساتها على السلع والخدمات هو استهلاك ( عام ، تابع ، تلقائي ) .

(٣) تتكون دورة الأعمال الواحدة من ( ست مراحل ، خمس مراحل ، أربع مراحل ) .

(٤) الدومين هو ( ضرائب ، رسوم ، عائدات ممتلكات الدولة ) .

(٥) المصرف الأوروبي أنشئ عام ( ١٩٩٨ ، ٢٠٠٢ ، ١٩٥٨ ) م .

ب) ما مسببات قيام التجارة الخارجية ؟









الدور / المسمى  
الفرع / المسمى

الاجوبة النموذجية للدراسة الاعدادية للعام الدراسي ٢٠١٩/٢٠١٨

اسم المادة / .....

جواب السؤال ( / الأول ) فرع ( )

السؤال	الصفحة	الجواب النموذجي	الدرجة
١	٥٧	<p>٦ / مرحلة الكسار : وهي أصعب مرحلة من مراحل دورة الأعمال ويكون فيها (قوى) الدورة وتتميز بسهولة نسبية الطالب التي لها الأمضى وانخفاض الطلب الاستراتيجي وتراعى أرباح المشروعات أو تكبيرها الخ اثر وتعد هذه المرحلة مرحلة زيادة كبيرة في المعروفه السلعي أكثر كثيرا من الطلب لكك وبذلك تهول ثقت المتك بالامتقار الخ أدنى مستوى لها .</p> <p>علامته ( الأبواب من خمسة تعاريف لكل تعريف ٤ درجات )</p>	





الدور / البعثية

الاجوبة النموذجية للدراسة الاعدادية للعام الدراسي ٢٠١٨ / ٢٠١٩

الفرع / البيئية

اسم المادة / الاقتصاد

جواب السؤال ( الثاني ) فرع ( ٢ )

السؤال	الصفحة	الجواب النموذجي	الدرجة
١٣	١٦	لأنَّ الغد يمكنه التصرف التام به لشراء السلع والخدمات اللازمة لاستيعاب حاجاته وتوجيه الفائض منه (الريادة) نحو الادخار.	
٢	١٦	ثروة المعادن وامكانية عشر نوعيتها واهتلاف اوزانها	
٢	١٦	وذلك بهدف زيادة الإيرادات او بقصد حماية المنتجات الوطنية او لاهداف اجتماعية او صحية او سياسية او تستهدف انواعاً من السلع بقصد رفع سعرها في الاسواق مما يؤدي الى انخفاض استهلاكها	
٤	١٩	لكونه مشكلة التلوث بقدم عقدة مركزية وذات بعد تاريخي وتنقل عوامل عديدة (اقتصادية واجتماعية وسياسية وثقافية) تفاعلت فيما بينها لتساهم بظهور سمات البلد التلوث	
		علامته [الاهلية على ٣ فروع مقفلة]	

١٦  
١٦  
١٩







الاجوبة النموذجية للدراسة الاعيادية للعام الدراسي ٢٠١٨/٢٠١٩

الدور / التصديري

الفرع / اليتيميقي

اسم المادة / الجغيا.....

جواب السؤال ( الثالث ) فرع ( )

السؤال	الصفحة	الجواب النموذجي	الدرجة
س٣	٤٥	١- <u>يقوقا الحاجة الفعلية للعمل و عمالة خائمتة</u>	
	٤٦	٢- <u>الفاكص الماي أو العجز الماي</u>	
	١٩	٣- <u>بالبيروقراطية العالية و الأقتصادية الأدنى</u>	
	٧١	٤- <u>لتفقات الدولة و إيراداتها و منه واحدة</u>	
	٣٤	٥- <u>البنوك و المصارف و الأذخار</u>	
(٢٠) درجة لكل فرع درجتان .			



الدور / البتة هيدري  
الفرع / التمهيني

الاجوبة النموذجية للدراسة الاعداية للعام الدراسي ٢٠١٨/٢٠١٩

اسم المادة / البراقبها .....  
جواب السؤال ( الرابع ) فرع ( )

السؤال	الصفحة	الجواب النموذجي	الدرجة
س٤٦	١٠٦	١- تتصف البلدان النامية بارتفاع مستويات الفقر وهي الأعلى عالمياً وغالباً ما تتركز نسبة الفقر في الأرياف تبيية ارتفاع مستويات البطالة وانخفاض الدخل، وهو ما يترك آثاره بوضوح في تدهور عدد المبحس وتدهور مستويات الصحة العامة.	٥ درجات
س٤٧	٧٨	٢- يساعد الاتفاق العام على توفير فرص عمل جديدة مما يرفع من مستوى الاستخدام في الاقتصاد تبعاً لحجم هذا الاتفاق، إذا ما نال هذا الاتفاق سوق يترتب عليه تنشغيل الافراد بصورة مباشرة، كما في سياسات التشغيل العامة، او بصورة غير مباشرة عن طريق الطلب الحكومي على بعض السلع وخدمات القطاع الخاص، وهو ما يترتب عليه زيادة الطلب على عناصر الانتاج فيرداد استخداماً.	٥ درجات

الدور / التمهيدية

الاجوبة النموذجية للدراسة الاعدادية للعام الدراسي ٢٠١٨/٢٠١٩

الفرع / التمهيدية

اسم المادة / اللغة العربية.....

جواب السؤال (الرابع) فرع ( )

السؤال	الصفحة	الجواب النموذجي	الدرجة
س٤٣	٦٨-٦٩	٣- السبوك المركزية ، المهارق لتجارية المهارق المتخصصة ، المهارق لتفاعل المهارق الاسلافية ، المهارق الالكترونية .	٥ درجات
س٤٣	٤٣	٤- قوة العمل لجنوع فالحي عدد السكان القادرين على العمل والراغبين في العمل والذين يكونون في كفة فحيتهم إما عاطلين قلمين أو عاطلين عن العمل فدايدية مرحلة الشباب الكاسن التقاعد .	٥ درجات
س٤٣	١٥	٥- لفه فاعدم امتساب المنتجات لو سيرة او تكرار امتساب قيمة السلعة مرتين (الحساب المزدوج) فقل امتساب قيمة الكلفة او الدفق الكثر فرة في صناعة الكثر ثم الاعتماد على طريقة القيمة المضافة التي تهتم بالزيادة التي يصنفها كل قطاع خلال العملية الانتاجية على قيمة المدخلات التي يتسلمها اي ان	٥ درجات





الدور / البجيد

الاجوبة النموذجية للدراسة الاعدادية للعام الدراسي ٢٠١٨ / ٢٠١٩

الفرع / البجيد

اسم المادة / البجيد .....

جواب السؤال ( اربع )		فرع ( )	
السؤال	الصفحة	الجواب النموذجي	الدرجة
س٥	٥٧	٥- القيمة المضافة هي الفرق بين (قيمة الانتاج وبين قيمة المنتجات الوسيطة) خلال كل مرحلة من مراحل إنتاج السلعة.  (٥) درجة لكل نقطة ٥ درجات.	٥ درجات





الدور / التمهيدى  
الفرع / المتخصص

الاجوبة النموذجية للدراسة الاعدادية للعام الدراسي ٢٠١٨/٢٠١٩

اسم المادة / ..... لا يمتح بها .....

جواب السؤال ( الخامس ) فرع ( آ )

السؤال	الصفحة	الجواب النموذجي	الدرجة
٥٥	٢٢ هر	..... الأضرار والدخل - الأستلاك الأضرار - ..... مقدار الأضرار	٨ درجات
	٢٦ هر	جوابه فرع (ب) من ٥ الدور الأول : أنه يؤدي الى زيادة الطلب الكلي في الاقتصاد في المدة القصيرة كونها تؤثر على زيادة الانفاق العام الدور الثاني : أنه يؤدي الى زيادة ثروة البلب والانفاقه يسلع رأسمالية هدية مما يؤدي الى زيادة انتاجية البلب ويعزز التنمية الاقتصادية على المدة البعيدة	٦ درجات
	١٠٦ هر	جوابه فرع (ب) من ٥ ١- فهار ان يعيش المرء حياة طويلة وصحية . ٢- فهار ان يجهل على المعارف والتدريب الجود التمثلي . ٣- فهار ان يملك على الموارد الضرورية لتوفير مستوى عيشة لاقت وكريمة له ولعائلته .	٦ درجات





الدور / الشهر / سنة

الاجوبة النموذجية للدراسة الاعدادية للعام الدراسي ٢٠١٨ / ٢٠١٩

الفرع / التخصص

اسم المادة / ... / ... / ...

جواب السؤال (الاربعى) فرع (٦)

السؤال	الصفحة	الجواب النموذجي	الدرجة
٦ سؤال	١١ ٢٥ ٣٥ ٤٥ ٥٥	١- الظاهرة ٢- عام ٣- اربع مراحل ٤- عائدات ممتلكات الدول ٥- ٢١٩٩٨	١٠ درجات لكل نقطة درجتان
٦ سؤال	٣٧	جواب فرع (ب) ١- عدم قدرة أي دولة مهما بلغت من امكانيات تكنولوجياية ٢- الاختلاف في التوزيع الجغرافي للموارد على الارض ٣- الاختلاف في تكاليف (يفقات) انتاج السلع المتكيفة فيهاك دولة لديها القدرة على انتاج سلعة ما ولها بتكاليف عالية فيما تنتجها دولة اخرى بتكاليف اقل وهو ما يعنى اختلاف الكفاءة في الانتاج وهو ما دفع اقتصادات العالم للتخصص وتقييم العمل ٤- هامة الدول الى اذاعة العلاقات الاقتصادية فيما بينها لا اعتبارات سياسية اذ افضت السياسات صرفة الاقتصاد ٥- لم تعد مكنات الدولة وقوتها تقتصر على حجم الجيش والسلح فقط او القدرات البحرية (عبدالكان) بل تجاوز ذلك الى الامكانيات الاقتصادية والعلمية والتكنولوجية	١٠ درجات لكل نقطة درجتان

# الاجوبة النموذجية 2019

## الدور الاول



حمل الاجوبة النموذجية لجميع المواد  
عبر الباركود

موقع ملازمنا  
WWW.MLAZEMNA.COM





ملاحظة : أجب عن خمسة أسئلة فقط ولكل سؤال ٢٠ درجة .

( ١٢ درجة )

س١: أ) عرف أربعاً ممّا يأتي :

المرابين ، العدالة الاقتصادية ، البطالة الهيكلية ، المصارف المتخصصة ، الرقم القياسي للأسعار .

ب) أحمد مهندس يعمل في إحدى شركات القطاع الخاص ويحصل على دخل شهري مقداره ( ٢٠٠٠٠٠٠ )

ديناراً ، أي دخل سنوي مقداره ( ٢٤٠٠٠٠٠٠ ) ديناراً ، ويستهلك أفراد أسرته سنوياً ( ١٨٠٠٠٠٠٠ )

( ٨ درجات )

ديناراً ، فما مقدار الاستهلاك شهرياً ؟ وما مقدار الادخار شهرياً وسنوياً ؟

( ١٢ درجة )

س٢: أ- علل أربعاً ممّا يأتي :

(١) فشل معظم تجارب التنمية في العديد من الدول النامية ووصولها إلى طريق مسدود .

(٢) الاستثمار في رأس المال البشري أصبح عنصراً مهماً في عملية الإنتاج .

(٣) إنّ الأساس هو أن تكون نفقات الحكومة مساوية تماماً لإيراداتها إلا أنه من الصعب جداً الالتزام بهذا المبدأ .

(٤) يتوسع النشاط الاقتصادي في مرحلة الرواج .

(٥) الناتج المحلي بالأسعار الثابتة يعد مقياساً مناسباً للمقارنة مع البلدان الأخرى .

( ٨ درجات )

ب) أجب عن واحدٍ ممّا يأتي :

(١) ما آثار التضخم ؟

(٢) عدّد خصائص النقود .

س٣: أ) في دولة ما كانت قدرة الاقتصاد على خلق الوظائف الجديدة ( فرص العمل ) في عام ٢٠١٥ ( ٢٠٠ ) ألف

فرصة عمل وكان معدل نمو قوة العمل ( ١,٢ % ) سنوياً ، وعدد سكان البلد ( ٢٣ ) مليون نسمة ،

( ٨ درجات )

احسب حجم البطالة لهذه السنة .

ب) ما مكونات المثلث الاقتصادي للاتحاد الأوروبي ؟

( ٦ درجات )

ج) ما مفهوم الإغراق ؟ وما أهم مسبباته ؟

( ٦ درجات )

س٤: أ) أكمل ما يأتي :

(١) تنطلق نظرية الدفع القوية من أنّ الاقتصاد المتخلف بطبيعته هو .....

(٢) تأسست منظمة العمل الدولية سنة .....

(٣) اختلاف الكلفة في الإنتاج دفع اقتصاديات العالم إلى .....

(٤) القروض المتوسطة الأجل أمدها خمس سنوات وفائدتها .....

(٥) الميل الحدي للادخار ( MPS ) هو النسبة بين مقدار التغير في الادخار ومقدار التغير في .....

ب) عدّد مع الشرح أهم أسس ومراحل التكامل الاقتصادي .

س٥: أجب عن أربعٍ ممّا يأتي :

(١) ما مفهوم الميل المتوسط للإستهلاك ؟ وما قيمته ومعادلته ؟

(٢) طريقة الدخل إحدى طرق قياس الدخل القومي ، وضّح ذلك .

(٣) عدّد أهم مشكلات التخطيط المركزي .

(٤) ما الحلقة المفرّغة للتخلف ؟

(٥) الموارد الطبيعية والتعدين من أهم مصادر الإيرادات العامة ، وضّح ذلك .

( ٦ درجات )

س٦: أ) عرّف سعر الصرف ، ثمّ ارسم مخططاً بيانياً يوضّح سعر الصرف التوازني .

( ٨ درجات )

ب) عدّد مع الشرح العناصر الأساسية للمنظمة الدولية .

( ٦ درجات )

ج) ما أهم الطرق التي يذهب الاقتصاد الكلي لدراستها ؟



الدور / الأول

الاجوبة النموذجية للدراسة الإعدادية للعام الدراسي ٢٠١٨ / ٢٠١٩

الفرع / التطبيق

اسم المادة / الإقتصاد .....  
جواب السؤال (الأول) فرع (٢ - )

الدرجة	الجواب النموذجي	الصفحة	السؤال
١٢ درجة الإجابة على أربعة تعاريف فقط لكل تعريف درجات	<p>المرايين : وهم الذين كانوا يقرضون الأموال لمن يحتاج لقاء أرباح معينة ، وتبنيته للحاجة إلى أسئلة أكبر بدأوا يقولون بالإبداعات من إعمار الذين يمتلكون أموالاً فأنهت لقاءهم ثروة جديدة.</p>	٦٥ ص	١
	<p>العدالة الاقتصادية : وتعني إتاحة الفرصة كاملة إزاء أفراد المجتمع كافة وبشكل متساوٍ للمساهمة في نشاط الإقتصاد ، وإزالة كل العوائق التي تحول دون اغتنام الفرصة المتاحة .</p>	٨	
	<p>المصارف المتخصصة : وهي مجموعة كبيرة من المصارف التي تركز على قطاع معين أو نشاط معين ، وتعمل للأغراض تشجيع التنمية الإقتصادية في الدول النامية والناشئة ، ومن الأمثلة على ذلك المصارف الزراعية والصناعية والقارية ، حيث تعمل كل مجموعة على تمويل القطاع المحدد وتحتضر نشاطاتها ضمن هذا القطاع .</p>	٧٠	٧٠
	<p>الرقم القياسي للأسعار : وهو أداة إحصائية تستخدم لقياس التغير النسبي في الأسعار من فترة زمنية لأخرى . ويعبر عنه بالقانون الآتي :</p> <p>الرقم القياسي البسيط = <math>\frac{\text{مجموع الأسعار في سنة المقارنة} \times 100}{\text{مجموع الأسعار في سنة الأساس}}</math></p> <p>ملاحظة : (عدم ذكر القانون لا يحد فلاً في الإجابة ، وذكر القانون بدون الشرح يكفي للإجابة الكاملة)</p>	١٥	

الدور / الأول

الاجوية النموذجية للدراسة الاعدادية للعام الدراسي ٢٠١٨ / ٢٠١٩

الفرع / الجبر

اسم المادة / الجبر

جواب السؤال ( الأول ) فرع ( ب )

الدرجة	الجواب النموذجي	الصفحة	السؤال
٨ درجتي	<p>المدفلة = الاستهلاك + الادخار</p> <p>الاستهلاك الشهري = الاستهلاك السنوي ÷ عدد الشهور (١٢)</p> <p>..... = ١٨ ÷ ١٢ = ١.٥</p> <p>الادخار = المدفلة - الاستهلاك</p> <p>الادخار الشهري = ..... = ..... = ١.٥</p> <p>الادخار السنوي = ..... = ..... = ١٨</p> <p>..... =</p>	٢٩	١



الدور / الأول

الاجوبة النموذجية للدراسة الإعدادية للعام الدراسي ٢٠١٨ / ٢٠١٩

الفرع / التطبيق

اسم المادة / الاقتصاد.....

جواب السؤال ( الثاني ) فرع ( ٩ )

الدرجة	الجواب النموذجي	الصفحة	السؤال
١٢ درجة الإجابة على أربعة تعاليم لكل تعاليم ٣ درجات	١- نيتية الالتحاق بملئ القطاع العام (المكومي) وعدم تحفيز القطاع الخاص لأداء دوره، والاقتصاد المولد لغرضه لهذا الإضائية . ٢- لكونه يعد على زيادتها ورض كفاءتها . ٣- لأنه غالباً ما يكون هناك، أما محز في الموازنة ناجية من زيادة النفقات على الإيرادات أوقامت ناجية من زيادة الإيرادات على النفقات . ٤- نيتية توسع المشروعات القائمة وإقامة مشروعات جديدة ويزداد الطلب على المواد الأولية وترتفع أثمانها، فضلاً عن توسع حركة الاقتراض من المصارف وترتفع بذلك أسعار القادة . ٥- لأنه يستبعد مستويات التعليم، المتحققة خلال السنة .	٤٦ ٣٧ ٧٣ ٥٧ ١٣	س١

الدور / الأول

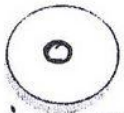
الاجوبة النموذجية للدراسة الإعدادية للعام الدراسي ٢٠١٨ / ٢٠١٩

الفرع / تطبيقي

اسم المادة / الاجتماعيات.....

الدرجة	الجواب النموذجي	الصفحة	السؤال
٨ درجات لكل نقطة درجتان	<p>١- آثار التضخم</p> <p>٢- تأثير التضخم على القدرة التنافسية لعمارة البلد الخارجية أي ضعف تنافسية السلع المصدرة مما يؤدي إلى انخفاض الصادرات ، يصاحبه ارتفاع قيمة الواردات .</p> <p>٣- يؤدي التضخم إلى ارتفاع تكاليف المعيشة مما يؤدي إلى ضعف الادخارات المملية للبلد .</p> <p>٤- يساهم التضخم بحدوث توزيع الدخل بين أفراد المجتمع ، مما يؤدي إلى افقار الفقراء وازدياد الأعباء ، وهذا ما يخلق تبايناً طبقي واضح في المجتمع .</p> <p>٥- يشكل التضخم مشكلة كبيرة في المعاملات المالية وبخاصة الديون ، ففي ظل التضخم يصبح الإيفاء بالديون أقل كلفة ، لأن النقود تنسحق من قيمتها .</p>	٥٣	س٦





رقم الصفحة



مركز فحس الدراسة الإعدادية

الدور / الأول ...

الاجوبة النموذجية للدراسة الاعدادية للعام الدراسي ٢٠١٨ / ٢٠١٩

الفرع / التطبيق

اسم المادة / ...

جواب السؤال ( الثاني ) فرع ( ب )

الدرجة	الجواب النموذجي	الصفحة	السؤال
٨ درجات لكل نقطة درجة	<p>٢- خصائصه تنقسم إلى:</p> <p>١- لقبول العام من الجمهور باعتبارها أداة لتبادل السلع والخدمات في السوق.</p> <p>٢- قدرتها على تربية قيمة السلع والخدمات التي تربية نقدية.</p> <p>٣- سهولة فرزها وإعادة استخدامها لاحقاً.</p> <p>٤- تميزها بسهولة الحمل وعدم القابلية للتلف بسهولة، فضلاً عن قابليتها تميزتها ومبادلتها.</p>	٦١	س١





الدور / الأول

الاجوية النموذجية للدراسة الاعدادية للعام الدراسي ٢٠١٨ / ٢٠١٩

الفرع / لتطبيعي

اسم المادة / ... الإحصاء ...

جواب السؤال ( الثالث ) فرع ( م )

الدرجة	الجواب النموذجي	الصفحة	السؤال
	<p>عدد لوظائف المتاحة = ...</p> <p>عدد لوظائف مطلوبة = <math>\frac{\text{مجم السكان} \times \text{عدد مؤقوه العمل}}{100}</math></p> <p><math>\frac{100 \times 30}{100} =</math></p> <p><math>30 =</math> فرصة عمل</p> <p>مجم لبطالة = عدد لوظائف مطلوبة - عدد لوظائف المتاحة</p> <p><math>30 - 30 = 0</math></p>	٤٧ ٤٨	٣ فرع م



الدور / الأول...  
الفرع / الطبيعي

الاجوبة النموذجية للدراسة الإعدادية للعام الدراسي ٢٠١٨ / ٢٠١٩

اسم المادة / ... الإقتصاد...

جواب السؤال ( الثالث ) فرع ( ب )

الدرجة	الجواب النموذجي	الصفحة	السؤال
١	١- عمله لإوربية موهبة (ليورو) ٢- طعرف لإوزني ٣- مجلس إقتصاد ملاحظ (التابع مرفوع بالشرح)	٩٥ من	٣ ١ فرع ٠٠





٩

رقم الصفحة



الدور / الأول...

الفرع / تربية

الاجوبة النموذجية للدراسة الإعدادية للعام الدراسي ٢٠١٨ / ٢٠١٩

اسم المادة / الإقتصاد.....

جواب السؤال ( ١٠ ) فرع ( ٢ )

الدرجة	الجواب النموذجي	الصفحة	السؤال
١٠	١- اقتصاد راكم	١٠٤ ص	٤ ٥٢
١٠	٢- ١٩١٩	٩٢ ص	
١٠	٣- التخصيص وتقسيم العمل	١٢٠ ص	
١٠	٤- متوسطه	٦٧ ص	
١٠	٥- الدخل	٢٤ ص	

١٠ دوريات لكل فرع و١٠ جبات





الاجوبة النموذجية للدراسة الاعدادية للعام الدراسي ٢٠١٨ / ٢٠١٩

اسم المادة / الاجتهاد.....

الدور / الاول....

الفرع / الالبيتي

جواب السؤال ( ع ) فرع ( ب )

الدرجة	الجواب النموذجي	الصفحة	السؤال
(١٠) درجته نصف نقطة درميان	<p>المرحلة الاولى: اذ تم فتح التجارة الحرة . وهي اولى مراحل التفاعل وترهدف الى حرية انتقال السلع والخدمات بين الدول من خلال تخفيض أو القضاء التفرقات التركبية على انتقال السلع عبر الحدود الوطنية للدول .</p> <p>المرحلة الثانية : الاتحاد التركبي . يستهدف الى توحيد التفرقة التركبية لواردات الدول الاعضاء في الاتحاد عند معدل معين ، بالاضافة الى إنشاء صندوق مركزي تلايرادات التركبية يهدف إعادة توزيع هذه الايرادات بينا بهدف تقويض الدول التي قد تتعرض عجزها من الايرادات التركبية نتيجة لانشاء الاتحاد .</p> <p>المرحلة الثالثة : اسوق مشتركة . يتطلب إنشاء اسوق المشتركة على حرية انتقال عناصر الانتاج ( العمالة ورؤوس الاموال ) بين الدول الاعضاء ويتم مفاعلتها ثانيا و هيبة وحصل على الحقوق والاختيارات لتقسيمها</p>	١٩	ع



الاجوبة النموذجية للدراسة الاعدادية للعام الدراسي ٢٠١٨ / ٢٠١٩

اسم المادة / الاقتصاد .....  
 ( ك ) ( ب )

الدور / ا. ا. اول ..  
 الفرع / السهمي

الدرجة	الجواب النموذجي	الصفحة	السؤال
١٠ درجاة للس تقوية درميان	<p>المرحلة الرابعة: الاتحاد التقدي،          تهدف الى توحيد السياسة التقديية عن خلال          خلق حملة موحدة للدول الاعضاء وانشاء سلطة          تقديية مركزية.</p> <p>المرحلة الخامسة: الاتحاد الاقتصادي الفاعل.          وهي قمة التفاعل وقيرايتم انشاء سلطة          اقتصادية تهيمن على كافة النواحي الاقتصادية          للدول الاعضاء كالمالية العامة، والتجارة          الدولية وأسواق العمل.</p>	٨٩	٤

الاجوبة النموذجية للدراسة الاعدادية للعام الدراسي ٢٠١٨ / ٢٠١٩

الدور / الاول  
الفرع / العلمي

اسم المادة / الاقتصاد .....  
رقم السؤال ( الخامس )

جواب السؤال ( الخامس ) فرع ( )

الدرجة	الجواب النموذجي	السؤال	الصفحة
٥ درجات	<p>الميل المتوسط للاستهلاك APC : هو النسبة بين حجم الاستهلاك وحجم الدخل قيمة الميل المتوسط للاستهلاك أكبر من الصفر وأصغر من الواحد الصحيح <math>0 &lt; APC &lt; 1</math></p> $APC = \frac{C}{Y}$	س٥	٢٦
٥ درجات	<p><u>طريقة الدخل</u> تعتمد هذه الطريقة على احتساب جميع دخول عناصر الإنتاج خلال سنة معينة غالباً ما تكون سنة واحدة .. سواء كانت دخول الأفراد أو المروقات الوطنية ( الخاصة والعامة ) ودخل الحكومة .. بموجب هذه الطريقة يتم حساب دخل كل من أسهم بنشاط انتاجي وحصل على أجر أو راتب بصورة تقديمه أو عينية ، وتتبعه الاعمال المقدمة لأمانات العاطلين أو التأمينات الإصطناعية أو الدفول التي يحصل عليها المتولون فهذه لاتعد دخول مستلمين</p>	س٦	٢٧



الدور / الدور  
الفرع / الفرع

الاجوبة النموذجية للدراسة الإعدادية للعام الدراسي ٢٠١٨ / ٢٠١٩

اسم المادة / ...

جواب السؤال ( الخ ) فرع ( )

الدرجة	الجواب النموذجي	الصفحة	السؤال
	لأنها تعد مدقونات تحويلية وتتطلب هذه الطريقة جهازاً إحصائياً كبيراً ومقدماتاً وهو غير متوافر في معظم الدول النامية ومنها العراق	ص ٧٤	س ٥
٥ دع	أهم مشكلات التطوير المركزي ١) وجود جهاز إداري كبير يتم باليسوقراطية العالية تجاه المستويات الاقتصادية الأدنى. ٢) التعقيد الذي يرافق عمليات التطوير وتوسع مراحله في مختلف المجالات ٣) صعوبة التنسيق بين مستويات مختلفة للتطوير والمؤسسات الأخرى ٤) الحاجة إلى كم كبير من المعلومات والبيانات الإحصائية الدقيقة. ٥) أدنى تركيز المؤسسات الإنتاجية على تنفيذ عمليات الخطة الاقتصادية التي عدم الاتفاقية تنوع السلع المنتجة وتلخيصها.	ص ٧٥	س ٥

الاجوبة النموذجية للدراسة الاعدادية للعام الدراسي ٢٠١٨ / ٢٠١٩

الدور / ... لاجابات  
الفرع X لاجابات

اسم المادة / الاقتصاد

جواب السؤال ( الى ص ) فرع ( )

الدرجة	الجواب النموذجي	الصفحة	السؤال
	<p><u>الكلقة المفترقة للمتلف</u>: هي حلقات في شبكة ذات حمة دائرية تبعه اتباع تسلسل مستمر وهاريز صوفايت وبعقات عمليه التمه فكل عفة تعديباً وتتيه لقرها عن الصبات وهو تنظم معاً في حلقات متابعه وقراطة تؤكد المتلف .</p>	١٠١ ص	٥٠ ٤
	<p>الموارد الطبيعيه والتدين : تتمثل بما تحصل عليه الحكومه من موارد عالية من المصادر الجيصة ذات الملكيه العامه ومن أهمها الغاز والمعادن النفيسه كالذهب والنفط والنحاس وغيرها من الموارد كالنعم الخمرج وفي العرف تأتي فقطم الإيرادات العامه من انتاج وبيع النفط وهذا فهو مصدر التمويل الرئيس للموازنة العامه للدرلة .</p>	١٠٥ ص	٥٠ ٤

x x x



الدور / الأول  
الفرع / الطبيعي

الاجوبة النموذجية للدراسة الإعدادية للعام الدراسي ٢٠١٨ / ٢٠١٩

اسم المادة / الاقتصاد

جواب السؤال ( الأول ) فرع ( م )

الدرجة	الجواب النموذجي	الصفحة	السؤال
٣	<p>معروف :- هو تبادلية لعملة بالعملة الأخرى أو من عمله بوحدة من عملة أخرى</p>	٨٥ ٧٧	٦ فرع ٣

الاجوبة النموذجية للدراسة الإعدادية للعام الدراسي ٢٠١٨/٢٠١٩

اسم المادة / .....  
الإعدادية.....

الدور / .....  
الإولى.....

الفرع / .....  
التطبيقي.....

جواب السؤال ( ا ل ا ر س ) فرع ( ب )

الدرجة	الجواب النموذجي	الصفحة	السؤال
١٠	<p>١- لإختيارية : وتبقى اختيار الدولة للانضمام في الهيئات والمنظمات الدولية من دون اختيار</p> <p>٢- لإرادة لذاته : فالميز المنظمة الدولية اثرها تتمد قوتها بالترعة عند ارادة الدول المنظورة تحت لوادها عندما تتخذ المنظمة قراراتها بالاغلبية .</p> <p>٣- الاستمرار : تستمر منظمة بممارسة نشاطها بموجب الاهداف التي انشئت من اجلها بمضد عن ارادة الدول المكونة لها .</p> <p>٤- لاتفاق لدولي : يرتكز وجود منظمة الدولية على وجود اتفاق دولي باشتراط</p>	٩١ ص	٦ فرع ٠



الاجوبة النموذجية للدراسة الإعدادية للعام الدراسي ٢٠١٨ / ٢٠١٩

اسم المادة / ... (الاسم هنا) ...

الدور / الأول ...  
الفرع / الاقتصادي

جواب السؤال (الاسم) فرع (ج)

الدرجة	الجواب النموذجي	الصفحة	السؤال
١	١- دراسة دور الدولة في إنتاج الاقتصاد عن طريق السياسات النقدية والمالية والمتمثلة بتحقيق الاستقرار الاقتصادي. ٢- تحليل ودراسة المشكلات المتعلقة بالنظام والبطالة ومحاولة تقديم حلول خاصة به كما يدرس المشكلات المتعلقة بالموارد الاقتصادية وعزائنها مدفوعات. ٣- تناول لطلب الكلي في المجتمع والمتمثل في الإنفاق الكلي وتناول عرض الكلي والمتمثل في إنتاج الكلي من السلع والخدمات وبالتالي كيفية تحديد الدخل لتوازني. ٤- دراسة وتحليل المتغيرات الاقتصادية الكلية كما يتأثر الكلي في الدولة ما يدخل القوى العاملة بمستوى العام للأسعار والمستوى العام للاجور	٥ ٧	٦ فرع ٧

١- (الاسم هنا) (الاسم هنا) (الاسم هنا)

# الاجوبة النموذجية 2019

## الدور الثاني



حمل الاجوبة النموذجية لجميع المواد  
عبر الباركود

موقع ملازمنا  
WWW.MLAZEMNA.COM





ملاحظة : أجب عن خمسة أسئلة فقط ولكل سؤال ٢٠ درجة .

( ١٢ درجة )

س ١ : أ) عرف أربعاً ممّا يأتي :

نظرية الدفع القوية ، الناتج القومي الإجمالي ، التغيير في المخزون ، التضخم ، المقايضة .

( ٨ درجات )

ب- ارسم مع الشرح مخططاً يوضّح الحلقة الدائرية المفرغة .

س ٢ : علل خمساً ممّا يأتي :

(١) لا تعد الأموال المقدمة لإعانات العاطلين أو التأمينات الاجتماعية أو الدخول التي يحصل عليها المتسولين دخولاً لمستلمها .

(٢) لعل الاقتصاد ( بيلا بلاسا ) هو من أكثر الاقتصاديين تنظيراً للتكامل الاقتصادي .

(٣) تعاني الدول المتخلفة من شحّة رؤوس الأموال اللازمة لتمويل التنمية .

(٤) تمثل المصارف أحد أهم المؤسسات المالية التي تساهم في تحقيق التنمية الاقتصادية الشاملة .

(٥) يشكل التضخم مشكلة كبيرة في المعاملات المالية وبشكل خاص الديون .

(٦) يتسم الاستثمار القصير الأجل بانخفاض المخاطرة والعائد عليها .

س ٣ : أ) املأ الفراغات الآتية بما يناسبها :

(١) وجد في آثار مملكة تدمر في سوريا ، ما هو أقرب الآن إلى ما نطلق عليه ..... الذي يبين

حجم الصادرات والواردات .

(٢) من أدوات السياسة المالية الإنفاق الحكومي والمدفوعات التحويلية فضلاً عن .....

(٣) يعرف معدل البطالة بأنه عدد الأفراد العاطلين لكل ..... القوى العاملة .

(٤) تختلف مجالات الإنفاق في مختلف الدول تبعاً ..... فيها .

(٥) تهدف مرحلة الاتحاد النقدي إلى توحيد السياسات النقدية من خلال خلق ..... للدول الأعضاء

وإنشاء سلطة نقدية مركزية .

ب) ما العوامل المؤثرة على الناتج القومي ؟

س ٤ : أجب عن أربعٍ ممّا يأتي :

(١) ما الأدوار الأساسية التي يؤديها الاستثمار في الاقتصاد ؟

(٢) ماذا نعني بـ ( البطالة الدورية ) ؟ وما طرق معالجتها ؟

(٣) الضرائب والرسوم من أهم مصادر الإيرادات العامة ، وضّح ذلك .

(٤) ميّز بين التخطيط الشامل والتخطيط الجزئي .

(٥) ما مفهوم التعريف الجمركية ؟

( ٩ درجات )

س ٥ : أ) ممّن يتكوّن المثلث الإداري للإتحاد الأوروبي ؟

ب) كان الدخل القومي لإحدى الدول لعام ٢٠٠٥ هو ( ٦٠٠ ) مليار دينار وكان الرقم القياسي للأسعار

( ٥ درجات )

قد بلغ مستوى ( ١٢٠ ) ، ما هو الدخل الحقيقي ؟

( ٦ درجات )

ج) أجب عن واحدٍ ممّا يأتي :

(١) وضّح العبارة التالية : ( إنّ الدخل والإنتاج ، ما هما إلا وجهان لعملة واحدة ) .

(٢) ما الفرق بين الموازنة العامة والميزانية العامة في مجال التحقق والفترة والغرض ؟

( ٨ درجات )

س ٦ : أ) كان الدخل المتاح لشخص ما هو ( ٢٠٠٠٠٠٠ ) دينار شهرياً وكان الميل الحدي للإستهلاك لديه

( ٦ درجات )

( ٠ , ٩٠ ) ، جد مقدار الادخار الشهري والإستهلاك .

( ٦ درجات )

ب) ما أهم جوانب التنمية البشرية ؟

( ٦ درجات )

ج) ميّز بين مفهوم الميزان التجاري وميزان المدفوعات .



الدور / الثاني  
الفرع / التطبيقية


الاجوبة النموذجية للدراسة الإعدادية للعام الدراسي ٢٠١٨ / ٢٠١٩

اسم المادة / الاقتصاد.....

جواب السؤال ( الأول ) فرع ( ٢ )

السؤال	الصفحة	الجواب النموذجي	الدرجة
١	١٠٤ ص	نظرية الدفع القوية : وهي اهدى نظريات واستراتيجيات التنمية تنطلق من ان الاقتصاد المتكف بطبيعته هو اقتصاد راكد والمخرج من هذا الركود لابد من دفعة قوية او سلسلة دفعات بسيطة استثمارات ضخمة تحفز جميع القطاعات الاقتصادية وتحدث النمو فيها سوية .	١٢ درجة لكل تعريف
٢	١٢ ص	الناتج القومي الاجمالي : هو مجموع قيم السلع والخدمات التي تنتجها عناصر الانتاج الوطنية ، سواء اكان ذلك داخل لبلد ارقاره ، في مدة زمنية معينة عادة ما تكون سنة ، متضمنة قيمة الانتاج (استهلاك رأس المال الثابت كالمكانت والآلات والمباني ... الخ) .	٢ درجة والكوابل من الية نقطا
٣	٣٧ ص	التغير في المخزون : هو نوع من انواع الاستثمار يعني ان الزيادة في الموجودات الجارية في المواد الخام ومنتجات الانتاج في العنصر هي استثمارات ايجابية بينما تعد نقصها استثمارات سلبية فالمستلزمات التي يقوم المشرع بشرائها لغرض الاستفادة منها وليس بغرض بيعها تختلف عن الاصول التي يشتريها بقصد البيع وليس لاستخدامها في الإنتاج .	٢ درجة





الدور / الثاني

الاجوبة النموذجية للدراسة الاعدادية للعام الدراسي ٢٠١٨ / ٢٠١٩

الفرع / التطبيقي

اسم المادة / .....  
الإحصاء

جواب السؤال ( الأول ) فرع ( ٢ )

السؤال	الصفحة	الجواب النموذجي	الدرجة
٤	٤٨ ص	التضخم : هو فتور كثيرة (مخضه كبيره النفوذ) تطارد سلعا قليلة أرهي الزيادة المستمرة في المستوى العام للأسعار الناجمة عن الزيادة في مخضه النفوذ بمعدل أكبر من الزيادة في حجم الإنتاج السلعي والخدمات .	
٥	٦٢ ص	المقايضة : وهي تبادل سلعة بسلعة أخرى ، إذ يتم تبادل القمح مثلا بوزن معين بالموشي والألبسة أو تقديمه كإهور للعل ، وهي المرحلة الأولى من مراحل تطور النفوذ .	
		ملاحظة : (١٢) درجة لكل تعريف (٣) درجة والإجابة على (٤) فقط	

الدور / الثاني  
الفرع / الهندسة

الاجوية النموذجية للدراسة الإعدادية للعام الدراسي ٢٠١٨ / ٢٠١٩

اسم المادة / .....  
الإحصاء

جواب السؤال (الاول) فرع (ب)

السؤال	الصفحة	الجواب النموذجي	الدرجة
ب ١	١٥ ١٦	<p>تعتبر مملكة تكوينه راسد كماله اهمه كملقات طفرى (١)</p> <p>ما تحفاها مستوى لدرقل ادم لدرقل يودي كى ا تحفاها الاصول الراسماليه (١٥) اثار اثار و لمعامله مما يسيب ا تحفاها الراسماليه و لا يتابع في المجتمع مما يودي الى ا تحفاها مستوى لدرقل و معه ثم الار تحفاها في ا لادفا و هدى مهر اكثر منه (١٦) مملكة دائريه للقلف</p>	١٥ ١٦
<p>تعتبر تكوينه راسد كماله ا تحفاها ا لادفا ا تحفاها مستوى لدرقل ا تحفاها ا تحفاها مستوى لدرقل ا تحفاها ا كملقات دائريه للمفرقة</p>			



الدور / الثاني


الاجوية النموذجية للدراسة الإعدادية للعام الدراسي ٢٠١٨ / ٢٠١٩

الفرع / الاقتصاد

اسم المادة / الاقتصاد

جواب السؤال ( الثاني ) فرع ( )

الدرجة	الجواب النموذجي	الصفحة	السؤال
(٢٠) درجة لكل نقطة (٤) درجات	١٧ لازماً لقد مدفوعات تحويلية	١ -	٤ ١
(٤) درجة	١٩ لأنه وضع اموالها لتعمل اقتصادي ولبي ثقتها مفاتيح تجاري لتعمل وبرزها الاتحاد الإقليمي	٢ -	
(٥) درجة	٢٠ وذلك نشيخ لضعف الادفارات اذ سببت لعناب السيارات التي توطن رؤوس الاموال العملية للاقتصاد في قطاعات الاقتصاد	٣ -	
(٥) درجة	٢٥ نظراً للدور الكبير الذي تلعبه في تجميع المدخرات واعادة توزيعها وتوحيدها بكفاءة وفعالية في مشاريع انتاجية واسهل اكتب عنك	٤ -	
(٥) درجة	٢٥ لأنه في ظل التضخم يصبح الإيفاء باليورو أقل كلفت له النقود مخدراً في حينه	٥ -	
(٥) درجة	٢١ عادة تكون دونه من يبيع اقل منه عاده تكون دونه من يبيع اقل منه	٦ -	



الاجوبة النموذجية للدراسة الاعدادية للعام الدراسي ٢٠١٩/٢٠٢٠

الدور / الثاني

اسم المادة / الاقتصاد.....

الفرع / التجاري

جواب السؤال ( ٣ ) فرع ( ٤ )

الدرجة	الجواب النموذجي	الصفحة	السؤال
(١٠) درجات سلك فراغ درجات	١- <u>الميزان التجاري</u>	٨٤	س٣
	٢- <u>الضرائب والرسوم</u>	٨٦	س٣
	٣- <u>١٠٠ من أفراد</u>	٤٣	س٣
	٤- <u>لفلسفة النظام الاقتصادي قيرا</u>	٧٦	س٣
	٥- <u>عملة موحدة</u>	٩٠	س٣





الاجوبة النموذجية للدراسة الإعدادية للعام الدراسي ٢٠١٧/٢٠١٨


الدور / الثاني

الفرع / البيئي

اسم المادة / الإقتصاد .....  
جواب السؤال ( س٣ ) فرع ( با )

الدرجة	الاجابات النموذجية	الصفحة	السؤال
(١٠) درجان ٥ نل نقده ٦ رمان	<p>٢- الاستقرار السياسي والاقتصادي للبلد، لأن كليهما يوقران بيئته محفزه و(داعمة) للنشاط الاقتصادي</p> <p>٣- كحكمة وتوعية احوار الاقتصادية المتماهة للمجتمع والتي كند كحكمة وتوعية امتحانات التي يكون با فنانة آتتاجها .</p> <p>٤- قدرة المجتمع على توظيف الامكانيات المتنامية له، فن موارد مادية وبشرية فضلا عن التكنولوجيا وفتح الانتاج الحديثة للوصول الى الاستخدام الاقل لهذه الامكانيات .</p> <p>٥- القدرات البشرية المتوافرة في المجتمع من حيث التعليم والتدريب .</p> <p>٦- الظروف الطبيعية التي لن يكون بمقدور البشر السيطرة عليها وتقصد بها الكوارث الطبيعية من مثل الاجاهير والزلازل والفيضانات وهذه تؤثر على مستوى النشاط الاقتصادي .</p>	١٣	س٣





الدور / الثاني

الاجوية النموذجية للدراسة الاعدادية للعام الدراسي ٢٠١٨ / ٢٠١٩

الفرع / البيضي

اسم المادة / الاقتصاد .....

جواب السؤال ( لتعبر ) فرع ( )

الدرجة	الجواب النموذجي	الصفحة	السؤال
١٧٥	<p>د- الدور الأول: يؤدي الى زيادة الطلب السلي في الاقتصاد في المدى القصير كونه يوش على زيادة الاتفاق العام.</p> <p>الدور الثاني: يؤدي الى زيادة ثروة البلد وازداده سطح رأسمالية جديدة، مما يؤدي الى زيادة إنتاجية البلد ويعزز التنمية الاقتصادية على المدى البعيد.</p>	٣٦	س٤
١٧٥	<p>ج- البطالة: الدورية: هي البطالة الناتجة عن دورة الاعمال ففيا فترة الركود الاقتصادي وانخفاض الانتاج يتخفف التوظيف فتزداد عدد البطالة، في قطاعي الصناعة والبناء وتتأثر العمالة ذات المهارات الاقل اكثر من العمالة المحاهرة.</p> <p>المحكمة: يتصلب تدخل الدولة القوي لاعادة التوازن الى الاقتصاد فخلال النشاط الاقتصادي او التعقير الاقتصادي.</p>	٤٥	س٤



الاجوبة النموذجية للدراسة الإعدادية للعام الدراسي ٢٠١٩ / ٢٠١٨

الدور / الثاني

اسم المادة / الاقتصاد.....

الفرع / البيئي

جواب السؤال ( ٤٥ ) فرع ( )

السؤال	الصفحة	الجواب النموذجي	الدرجة
عس	٣٧	٣- هي الإيرادات التي تحصل عليها الدولة من ضرائب وفروضه على إيرادات محددة مثل ضريبة الدخل وضريبة الطابع والبيوعات التي جانب الرسوم المفروضة على مجموعة من النشاطات الاقتصادية مثل رسوم الطابع والضرائب الكمركية وغيرها، وبما يفرضه الدول تفرضها الرسوم على استخدام الطرق السريعة والجسور والرافة أو زيارة الحدائق والمتاحف العامة وغيرها ويكون الهدف من ذلك الرعاية في تنعيم استهلاك الأفراد لها بجانب ما تشكله من مصدر للإيرادات وحماية المنتجات المحلية.	(٥) درجتان
عس	٣٨	٤- التخطيط السافل هو التخطيط الذي يجرى على مستوى المجتمع ببل مفاصله وقطاعاته (٥) التخطيط الجزئي هو التخطيط على قطاع معين او صناعة معينة، لأهميتها للاقتصاد القومي بحيثية السهول من به.	درجتان



الاجوية النموذجية للدراسة الإعدادية للعام الدراسي ٢٠١٨ / ٢٠١٩

الدور / البتائي

اسم المادة / (البرقيد جاد) .....

الفرع / البتائي

جواب السؤال ( ٤٤ ) فرع ( )

الدرجة	الاجابات النموذجية	السؤال	الصفحة
(٥١) ١٠	٥- التعريف المرحية التي خريبة بقرضا الحكومة على سلط محددة (فصية) بهدف زيارة الابدات او يقصد حماية المنتجات لوحيته (الانتاج المحلي) او لاهداف اجتماعية او صحية او سياسية او قد تستهدف انواعاً هذا السلط يقصد رفع سعرها في الاسواق مما يؤدي الى انخفاض استهلاكها او يتم فرض الضرائب المرحية على بعض هذا السلط من مثل المنتجات الزراعية وبعض المنتجات لصاغية عن اجل حماية المنتج المحلي فراحون لضراب المرحية ترفع اسعارها في لسوق وهو ما يدفع المنتجين الى ائتائها لذلك يقول الكيس هذا المستهلكين عن السلط الطسورة الى لسع المحلية.	٤٤	١٦



الاجوية النموذجية للدراسة الاعدادية للعام الدراسي ٢٠١٨ / ٢٠١٩

الدور / الثاني

الفرع / تطبيق

اسم المادة / الاقتصاد.....

جواب السؤال ( الخامس ) فرع ( ٢ )

السؤال	الصفحة	الاجابات المتوقعة	الدرجة
٥٠ ٢	٩٥	<p>يتكون المثلث الاتحادي للاتحاد الأردني من:</p> <p>١- مجلس الاتحاد الأردني : وهو الهيئة الرئيسية في اتخاذ القرارات واقتراح القوانين الى البرلمان الأردني .</p> <p>٢- المفوضية الأردنية : هي الهيئة التنفيذية للاتحاد وتتولى تقديم مسودة القوانين الجديدة الى البرلمان والمجلس . وهي الجهة التي تتولى مراقبة ما تم تطبيقه معاهدات الاتحاد .</p> <p>٣- البرلمان الأردني : ويتم انتخابه كل خمس سنوات من قبل شعوب الاتحاد الأردني لتمثيل مصالحهم .</p>	٩
ب	١٥	<p>الدقل الحقيقي = <math>600 \div 120 \times 100 = 500</math></p> <p>أي أنه لتعظيم قد حفظت من قيمة الدقل بمقدار ١٠٠ مليار دينار ، أو أنه لغت الحقيقة للدقل هي ٥٠٠ مليار دينار .</p>	٥



الدور / الثاني  
الفرع / التخطيط

الاجوية النموذجية للدراسة الاعداية للعام الدراسي ٢٠١٨ / ٢٠١٩

اسم المادة / ... للاقتصاد .....

جواب السؤال ( الخامس ) فرع ( ج )

الدرجة	الاجابات النموذجية	الصفحة	السؤال
٦	<p>ان الدخل والانتاج ما هما الا وجهات لعملة واحدة فالانتاج هو سلع وخدمات بينما الدخل هو لقيمة النقدية للانتاج ، اذ ان كل دينار يتم انفاقه من قبل ابي شخص بعد دفلا لشخص آخر ، فنفاقات الانتاج التي يتم دفعها للأفراد لقاء عتار كتم في العملية الانتاجية تمثل دفولا لهم يتم انفاقها في شراء السلع والخدمات من الأسواق ، وهكذا تستمر عملية توليد الانتاج والدخل ، مما يعني وجود تيارين مستمرين هما تيار (السلع والخدمات) وتيار الدفول ، أو تيار السلعي والتيار النقدي .</p>	١٠	س٥ ج (١)
٦	<p>الفرق بين الموازنة العامة والميزانية العامة</p>	٧٣	س٥ ج (٢)
	الميزانية العامة	الموازنة العامة	الميزان
	ارقام فعلية	ارقام تقديرية	التحقق
	لفترة ماضية	لفترة مستقبلية	الفترة
	تعد لأخرافه قياسية	تعد لأخرافه تطبيعية	العرض





الدور / الثاني  
الفرع / التطبيق

الاجوبة النموذجية للدراسة الاعدادية للعام الدراسي ٢٠١٨ / ٢٠١٩

اسم المادة / الاقتصاد.....

جواب السؤال ( السادس ) فرع ( ٢ )

السؤال	الصفحة	الجواب النموذجي	الدرجة
٢٤	٣٣	$2000000 \times 90\% = 1,800,000$ <p>مقدار الاستهلاك</p> $\text{الدخل} = \text{الاستهلاك} + \text{الادفء}$ $\text{الادفء} = \text{الدخل} - \text{الاستهلاك}$ $2000000 = 1,800,000 + \text{الادفء}$ <p>الادفء = 200,000</p> $\text{الاستهلاك} = \text{الدخل} - \text{الادفء}$ $1,800,000 = 2000000 - \text{الاستهلاك}$ <p>مقدار الاستهلاك</p>	٧





الدور / ١٤٥  
الفرع / اقتصادي

الاجوية النموذجية للدراسة الاعدادية للعام الدراسي ٢٠١٨ / ٢٠١٩

اسم المادة / الاقتصاد .....

جواب السؤال ( ١٥ ) فرع ( ٥ ) + ٥

الدرجة	الجواب النموذجي	السؤال	الصفحة
٦ درجات	<p>١٣</p> <p>بجانب الاداء، تشكيل اقدار البشر مثل اهمة والمعرفة والمهارات .</p> <p>بجانب بناء المجتمع لتأسيس اقتصاد الملكيت في المجالات الشخصية والاجتماعية والمهنية، لتفادي الفساد والبطالة .</p>	<p>١٣</p> <p>١٣</p>	
٦ درجات	<p>١٤</p> <p>الميزان التجاري، هو سجل نظامي للصققات المتوقعة بالسلع المستدلة من طرف بلد معين مع جهة او طرفين في تقارير لبيانات في العالم من جهة اخرى في مدة معينة عادة تكون سنة .</p> <p>ميزان مدفوعات، هو سجل يخبر المعاملات المتبادلة في جوانبها التجارية و نقدية و بلائتي بين الاقتصاد الوطني و العالم الخارجي سواء اكانت مدفوعات افراد شركات خلال سنة . وبعد معرفة مؤشر للتفرغ بالمركز الاقتصادي للبلد في الاقتصاد العالمي .</p>	<p>١٤</p> <p>ب</p>	

# الاجوبة النموذجية 2019

## الدور الثالث



حمل الاجوبة النموذجية لجميع المواد  
عبر الباركود

موقع ملازمنا  
WWW.MLAZEMNA.COM





ملاحظة : أجب عن خمسة أسئلة فقط ولكل سؤال ٢٠ درجة .

س١: عرف خمسا مما يأتي :  
ميزان المدفوعات ، الرصيد ، المصارف الإسلامية ، الاستهلاك التابع ، التضخم ، التخطيط الشامل .  
س٢: أ) علل أربعاً مما يأتي :  
(١٢ درجة)

(١) الاستقرار السياسي والأمني للبلد من أهم العوامل المؤثرة على الناتج القومي .  
(٢) تمثل البطالة أحد التحديات الكبرى التي تواجه بلدان العالم سواء نامية أكانت أم متقدمة .  
(٣) تعد الموازنة العامة واحدة من أهم الوثائق الحكومية .  
(٤) تتصف البلدان النامية بارتفاع مستويات الفقر وهي الأعلى عالمياً .  
(٥) لا تستطيع الأسعار في ظل التضخم المكبوت أن ترتفع .  
ب) أجب عن واحد مما يأتي :

(١) هناك مجموعة من التعريفات للاستثمار ، اذكرها بالتفصيل .  
(٢) عدد أهداف السياسة الاقتصادية .

س٣: أ) موظف يحصل على راتب صافي بعد الاستقطاعات الضريبية ، أي أن الدخل المتاح له ( ٦٠٠٠٠٠٠ ) دينار شهرياً ، وكان ميله الحدي للاستهلاك ( ٨ ، ٠ ) ، فما مقدار الاستهلاك ؟ وما مقدار الادخار ؟ ( ٥ درجات )  
ب) عدد مع الشرح أنواع القروض حسب مدتها الزمنية .  
ج) ارسم مخططاً يوضح اشتقاق دالة الادخار من دالة الاستهلاك .  
س٤: أ) املأ الفراغات الآتية بما يناسبها :

(١) هناك ثلاث طرق رئيسية لقياس الدخل هي طريقة القيمة المضافة و ..... و .....  
(٢) تقسم دورة أعمال واحدة إلى مدتين ، المدة الأولى ..... والمدة الثانية .....  
(٣) هناك عدة أنواع من أسعار الصرف منها سعر الصرف ..... وسعر الصرف .....  
(٤) أن ..... و ..... ما هما إلا وجهان لعملة واحدة .  
(٥) تقوم عملية الادخار على دعمتين أساسيتين هما ..... الادخارية و ..... الادخارية .  
ب- عدد فقط خمسة من أهداف الموازنة العامة .

س٥: أ) بافتراض وجود مجتمع بسيط ينتج ثلاثة أصناف من السلع فقط بحيث كانت أسعار تلك السلع في العامين ( ٢٠١٤ ) و ( ٢٠١٥ ) كما موضح في الجدول أدناه :

نوع السلعة	أسعار عام ٢٠١٤ (دينار)	أسعار عام ٢٠١٥ (دينار)
المواد الغذائية	٠,٤	٠,٨
الملابس	٢	٢,٥
الخدمات	١,٥	٢,١

المطلوب حساب الرقم القياسي التجميعي البسيط للأسعار موضحاً معدل التضخم في اقتصاد هذا المجتمع .

ب) عدد مع الشرح وظائف النقود .  
ج) أجب بكلمة ( صح ) أمام العبارة الصحيحة وكلمة ( خطأ ) أمام العبارة غير الصحيحة لكل مما يأتي :

(١) وجّه إلى نظرية النمو غير المتوازن انتقاد رئيسي .  
(٢) تأسست منظمة العمل الدولية سنة ١٩١٩ م .  
(٣) استمرت النقود المعدنية المسكوكة فترة طويلة من الزمن .  
(٤) البطالة المقنعة هي التي يكون فيها عدد العمال المشتغلين اقل من الحاجة الفعلية للعمل .  
(٥) من الممكن الحصول على الميل الحدي للاستهلاك من خلال المعادلة الآتية :  $MPC = \frac{\Delta C}{\Delta y}$

س٦: أجب عن أربع مما يأتي :

(١) عدد فقط مراحل التكامل الاقتصادي .  
(٢) الدومين من أهم مصادر الإيرادات العامة ، وضح ذلك .  
(٣) شحة رؤوس الأموال وانخفاض التكوين الرأسمالي من أهم مؤشرات التخلف ، وضح ذلك .  
(٤) لماذا تكون مرحلة الكساد أصعب مرحلة من مراحل دورة الأعمال ؟  
(٥) ما عيوب احتساب الدخل القومي ؟



الدور / الثالث

الاجوبة النموذجية للدراسة الإعدادية للعام الدراسي ٢٠١٨ / ٢٠١٩

الفرع / القبطيين

اسم المادة / الاقتصاد

جواب السؤال ( ١ ) فرع ( )

الدرجة	الجواب النموذجي	الصفحة	السؤال
الإجابة عند حسن تعاريف تكل تعريف	ميزان المدفوعات : هو سجل يفتقر المعاملات الاقتصادية في جوانبها التجارية والنقدية والمالية ، بين الاقتصاد الوطني والعالم الخارجي سواء كانوا حكومات - أفراد - شركات خلال سنة ، وبعد مرآة ومؤشر للتعريف بالمركز الاقتصادي للبلد في الاقتصاد العالمي .	٨٤	١
٤ درجة	الرصيد : وهو كمية ثابتة يمكن قياسها في لحظة زمنية معينة ، مثل : الآلات ، المخزون السلعي ، رأس المال ، الثروة (كمية الذهب - الرصيد في البنك - الأسهم) . ومادة ما يذكر مع الرصيد تاريخي الممدد قليلاً في تاريخي ١٣-١٤-٢٠١٤ كان رصيد (شركة الخطوط الجوية العراقية) (١٥٠) مليار دينار عراقي .	٩	٢
	المصارف الإسلامية : وهي المصارف التي لا تعاطل بالفائدة باعتبارها ربا محرماً وفقاً للشريعة الإسلامية ، وتحتصر كل تعاملاتها ضمن إطار الشرعي الإسلامي الذي يقوم على مبدأ (الغنم بالغرم) ، أي أن كل ربح قد يقابل بخسارة ولا وجود لأرباح ممنونة بنسبة معينة من رأس المال .	٧٠	٣
	الاستهلاك التابع : وهو الاستهلاك الذي يتغير بتغير الدخل ، أي أنه يتبع الدخل ، فإن الفرد عند ارتفاع دخله يميل إلى تحسين مستوى حياته من خلال زيادة إنفاقه على شراء السلع والخدمات الأفضل (السلع والخدمات الكاللية التي لا تعد من السلع الأساسية) .	٢٥	٤

الدور / الثالث

الاجوبة النموذجية للدراسة الاعدادية للعام الدراسي ٢٠١٨ / ٢٠١٩

الفرع / التخطيط

اسم المادة / الاقتصاد

جواب السؤال ( ١ ) فرع ( )

الدرجة	الجواب النموذجي	الصفحة	السؤال
	التفخيم : هو نقود كثيرة (عرضة كبيرة النقود) تطارد سعياً قليلة. أوهي الزيادة المستمرة في المستوى العام للأسعار الناتجة عن الزيادة في عرضة النقود بمعدل أكبر من الزيادة في حجم الانتاج السلع والخدمات .	٤٨	٥
	التخطيط الشامل : هو التخطيط الذي يجريه ملك مستوى المجتمع بكل فاصله وقطاعاته .	١٠٨	٦
	علاوة : الاجابة من ضمنه تعاريف لكل تعريف ٤ درجة		



الدور / الثاني

الاجوبة النموذجية للدراسة الإعدادية للعام الدراسي ٢٠١٨ / ٢٠١٩

الفرع / اللغة

اسم المادة / الاقتصاد

جواب السؤال ( الثاني ) فرع ( ٤ - )

الدرجة	الجواب النموذجي	الصفحة	السؤال
	<p>١- لأن كليهما يوفران بيئة محفزة (داعمة) لنشاط الاقتصاد</p>	٤٢	١
	<p>٢- وذلك نتيجة لتأثيرها الاقتصادي والعمالية والتعبئة السياسية والأمنية الحضرية.</p>	٤٦	
	<p>٣- لأنها تعكس سياسات الحكومة في مختلف المجالات الاقتصادية والاجتماعية والتعليمية.</p>	٤٧	
	<p>٤- نتيجة ارتفاع مستويات البطالة وانخفاض الدخل وهو ما يترك آثاره في تدني عدد المتعلمين وتدهور مستويات تعليمهم.</p>	٤٨	
	<p>٥- لوجود الصناديق الحكومية المباشرة للسيطرة على نفق الأعمار من التجهيزات الإحصائية ونظام البطالة التحويلية.</p>	٥٤	
	<p>( لكل نقطة ٣ درجات ) والإجابة على ( أربعة فقط )</p>		



الدور / .....

٢٠ / ٢٠

الاجوبة النموذجية للدراسة الإعدادية للعام الدراسي

الفرع / .....

اسم المادة / .....

جواب السؤال ( الثاني ) فرع ( ب )

الدرجة	الجواب النموذجي	الصفحة	السؤال
	<p>معرفة ترغبات الأثما</p> <p>* التقييم بمنفعة حاله على تحقيق من الجماع استهلاك حاله و ذلك بعد الحصول على منفعه مستقلة البر يمكن تحقيقه من استهلاك مستقلة</p> <p>* الاتفاق على السلع الأساسية (الات والمعدات والماكينات) من قبل القطاع العام (الحكومة) والقطاع الخاص (الشركات) بغرض زيادة انتاج السلع الأساسية والخدمات في قترات حرجية مستقلة</p> <p>* اقامة طاقات انتاجية جديدة الى الطاقات الانتاجية الموجودة في المجتمع من خلال اثار مستويات جديدة أو التوسع في المستويات القائمة أو اعلان أو تجديد مستويات انتاج عمرها الافتراضي</p> <p>* أي استخدام للوارد بهدف ان زيادة الدخل أو زيادة كمي الانتاج في المنقل</p> <p>( ٨ درجات )</p>	٢٦	١١





رقم الصفحة



الدور / ... الثالث

الاجوبة النموذجية للدراسة الاعدادية للعام الدراسي ٢٠١٨ / ٢٠١٩

الفرع / ... العلمي

اسم المادة / ... الاقتصاد

جواب السؤال ( الثاني ) فرع ( ٥ - ٢ )

الدرجة	الجواب النموذجي	الصفحة	السؤال
	<p><u>أهداف السياسة الاقتصادية</u></p> <p>١- تحقيق الاستخدام (المشغل) الكامل للعمالة الاقتصادية المتاحة ..</p> <p>٢- تحقيق الاستقرار في الاسعار .</p> <p>٣- تحقيق النمو الاقتصادي</p> <p>٤- تحقيق التوازن في ميزان المدفوعات (أي معاملات البلد الاقتصادية مع العالم الخارجي )</p>	٦	٦

ملاحظة : الاجابة عن ١ أو

٢ وبكل فرع ١ درجة .

الدور / الثاني

الاجوبة النموذجية للدراسة الاعلانية للعام الدراسي ٢٠١٨ / ٢٠١٩

الفرع / التطبيق

اسم المادة / ...

جواب السؤال ( ٣ ) فرع ( ٢ )

الدرجة	الجواب النموذجي	الصفحة	السؤال
	<p>يمكن الحصول على مقدار الاستهلاك من خلال ضرب (الميل اليومي للاستهلاك) في الدخل وكما يلي :</p> $60000 \times 8 = 480000 \text{ دينار}$ <p>مقدار الاستهلاك</p> <p>أي أن الموظف خصص (٤٨٠٠٠٠) دينار من دخله للاستهلاك .</p> <p>وبما أن الادفار = الدخل - الاستهلاك</p> $120000 - 480000 = -360000$ <p>اذن الادفار = -٣٦٠٠٠٠ دينار مقدار الادفار</p> <p>فلا مفرط</p> <p>٥ درجات</p>	٣٠	س ٢



الدور / المات... ..

الاجوبة النموذجية للدراسة الاعدادية للعام الدراسي ٢٠١٨ / ٢٠١٩

الفرع / التطبيق...

اسم المادة / ..... الاجتصاص...

جواب السؤال ( ٣ ) فرع ( ب )

الدرجة	الجواب النموذجي	الصفحة	السؤال
	<p>٢- قروض قصيرة الأجل: وأمدها سنة فأقل ويكون أسعار الفائدة عليها منخفضة .</p> <p>ب- قروض متوسطة الأجل: وأمدها خمسة سنوات وقائدتها متوسطة .</p> <p>ج- قروض طويلة الأجل: وهي القروض التي يتطلب سدادها عدة زمنية أكثر من خمسة سنوات ، وعادة ما تكون أسعار الفائدة عليها مرتفعة .</p> <p>ملاحظة</p> <p>٩ درجات لكل نقطة ٣ درجات</p>	٦٧	س١ ب

الاجوبة النموذجية للدراسة الاعدادية للعام الدراسي ٢٠١٨/٢٠١٩

اسم المادة / ...

الدور / ...  
الفرع / ...

جواب السؤال ( س ) فرع ( ج )

الدرجة	الجواب النموذجي	الصفحة	السؤال
	<p>اشتقاق دالة الادفار عن دالة الاستدلال</p> <p>دالة الاستدلال</p> <p>دالة الادفار</p> <p>خطا لفظ</p> <p>خطا الادفار</p> <p>ن1</p> <p>الادفار</p> <p>الاستدلال</p>	٣٢	س ج

٦ درجيات



الدور / الثالث  
الفرع / العالجي

الاجوبة النموذجية للدراسة الاعدادية للعام الدراسي ٢٠١٨ / ٢٠١٩  
اسم المادة / الاجبة

جواب السؤال ( الرابع ) فرع ( ٣ )

الدرجة	الجواب النموذجي	الصفحة	السؤال
(١٠)	١- <u>طريقة الاتفاق</u> و <u>طريقة الدخل</u> .	١٦٠	س٤
درجتان	٢- <u>المدة الاولى المقسح</u> و <u>المدة الثانية الاتمام</u>	١٦٥	س٤
س٤	٣- <u>سحر الحرف المهور</u> أو <u>الحرف</u> و <u>سحر الحرف</u>	١٦٦	س٤
س٤	<u>المذار</u>		
درجتان	٤- <u>الدخل</u> و <u>الانتاج</u> .	١٦٦	س٤
	٥- <u>القدرة</u> و <u>الرغبة</u> .	١٦٦	س٤



الدور / الثالث

الاجوية النموذجية للدراسة الاعداية للعام الدراسي ٢٠١٩ / ٢٠١٨

الفرع / العاجم

اسم المادة / الالفباجار .....

جواب السؤال ( الرابع ) فرع ( ب )

الدرجة	الجواب النموذجي	الصفحة	السؤال
(١٠) درجات لكل نقطة درجتان	<p>١- تقليل أو سد العجز في الموارد .</p> <p>٢- تشجيع الصناعات المحلية وتكوين البنية الأساسية للهيكلة الاقتصادية .</p> <p>٣- زيادة الرفاهية لأفراد المجتمع ككل .</p> <p>٤- هبط وترشيد الاتفاقات العام .</p> <p>٥- تحقيق آثار التفهم .</p> <p>٦- تنمية موارد الدولة الذاتية .</p> <p>٧- تحديد أنواع البرامج او الخدمات ذات الاولوية .</p> <p><u>ملاحظة</u> :- المطلوب ليس تقاط فقط .</p>	٧٤	٤٤



الدور / الثاني / الثاني  
الفرع / الرياضيات

الاجوبة النموذجية للدراسة الإعدادية للعام الدراسي ٢٠ / ٢٠

اسم المادة / الاقتصاد .....

جواب السؤال ( الخامس ) فرع ( ٩ )

الدرجة	الجواب النموذجي	الصفحة	السؤال																
	<table border="1"> <tr> <td>موزع السنة</td> <td>١٤ (معارف) (١٤ (معارف) (١٥ (معارف)</td> <td></td> <td></td> </tr> <tr> <td>المواد لعدائيت</td> <td>٤ و ٨</td> <td></td> <td></td> </tr> <tr> <td>العلامات</td> <td>٢ و ٤٥</td> <td></td> <td></td> </tr> <tr> <td>المجمعات</td> <td>١٥ و ٤١</td> <td></td> <td></td> </tr> </table> <p>الحل الرقم لقياس بسيط = مجموع المعارف سنة لثلاث سنوات مجموع المعارف سنة لثلاث سنوات</p> <p>الرقم لقياس بسيط = <math>\frac{١٤ + ١٥ + ١٨}{٤ + ٢ + ١٥}</math> <math>\frac{٤٧}{٢١} = ٢,٢٤</math></p> <p>عدد لثلاث سنوات = الرقم لقياس لثلاث سنوات <math>٢,٢٤ \times ١٤ = ٣١,٣٦</math></p> <p>(٦) درجات</p>	موزع السنة	١٤ (معارف) (١٤ (معارف) (١٥ (معارف)			المواد لعدائيت	٤ و ٨			العلامات	٢ و ٤٥			المجمعات	١٥ و ٤١			٤٩ - ٥٠	٥٥
موزع السنة	١٤ (معارف) (١٤ (معارف) (١٥ (معارف)																		
المواد لعدائيت	٤ و ٨																		
العلامات	٢ و ٤٥																		
المجمعات	١٥ و ٤١																		

الدور / بنائك لبيلد  
الفرع / النهائي

الاجوبة النموذجية للدراسة الاعدادية للعام الدراسي ٢٠١٨ / ٢٠١٩

اسم المادة / الاقتصاد

جواب السؤال ( الخامس ) فرع ( ب )

الدرجة	الجواب النموذجي	الصفحة	السؤال
	<p>١- هم وظائف العقود :-</p> <p>١- وسيلة للتبادل ٢- اي ان العقود تتم اتماماً لاصرار المتبادلين التي يبيع المختلفون فيها فتم تدبيرها لتلبيح السلع التي تشتريها كخدمات التي تحصل عليها بواسطة العقود</p> <p>٢- مقياس للقيمة، يمكن التمييز بين العقود كمقياس مقبول للعقود من خلال عرض الاسعار المشابهة لكل سلعة او خدمة من طرف واحد مقابل بيعها، لتقود التي تشمل سعرها اي لتقود تشمل وهدية كما ان سهولة الحصول لقياس قيمة السلع وخدمات، لمختلفة.</p> <p>٣- مخزن للقيمة، يتغير قيمتها باعتبارها مخزناً للقيمة بالوقت اي انه يمكن الاحتفاظها بالتقود وتمريرها الآن لغزنها ايمتدادها في المستقبل للحصول على السلع وخدمات المطلوبة.</p>	٦٤	٥



الدور / ١. بي بي سي  
الفرع / ١. لغتي

الاجوبة النموذجية للدراسة الاعدادية للعام الدراسي ٢٠١٨ / ٢٠١٩

اسم المادة / الإحصاء .....

جواب السؤال ( ١٠١ ص ) فرع ( ٢ )

الدرجة	الجواب النموذجي	الصفحة	السؤال
	١٠٥ خطاً	١ -	٢
	٩٢ ص	٢ -	
	٦٤ ص	٢ -	
	٤٥ خطاً	٤ -	
	٢٦ ص	٥ -	
	(٥) ورقات		

الدور / الثالث  
الفرع / العلمي

الاجوبة النموذجية للدراسة الإعدادية للعام الدراسي ٢٠١٨ / ٢٠١٩

اسم المادة / الاقتصاد

جواب السؤال ( الثاني ) فرع ( ١ - )

الدرجة	الجواب النموذجي	الصفحة	السؤال
٥ درجة	١- مراحل التكامل الاقتصادي ١- منطقة التجارة الحرة ٢- الاتحاد الكركي ٣- سوق مشتركة ٤- الاتحاد النقدي ٥- الاتحاد الاقتصادي الكامل	٧٥	١
٥ درجة	الدومين : هو عبارة عن حوائد الاصول المنقولة والعقارية التي تملكها الدولة ملكية عامة وتقوم بتأجيرها الى الافراد والمؤسسات مثل الاراضي سواك اكلات اراضي زراعية او ترفيهية او الابنية والساعات الخ	٧٥	٢
٥ درجة	مشحة رؤوس الاصول والمخاض التكويني الرأسمالي تعاني الدول المتخلفة من مشحة رؤوس الاصول اللازمة لتمويل التنمية نتيجة لضعف الادوات او نتيجة لغياب السياسات التي تولد رؤوس	٧٥	٣



الاجوبة النموذجية للدراسة الإعدادية للعام الدراسي ٢٠١٨ / ٢٠١٩

الدور / الثالث  
الفرع / العام

اسم المادة / .....  
الإقتصاد

جواب السؤال ( الثاني ) فرع ( ٢ )

السؤال	الصفحة	الجواب النموذجي	الدرجة
١	٥٧	الأموال المحلية مستثمرة في قطاعات الاقتصاد لهذا ظل لتكوين الرأسمالي في البلدان المتخلفة يتم بالانخفاض الشديد ويقضي مستوى التكوين الرأسمالي من خلال حجم القطاع الصناعي والبنية التحتية في الاقتصاد حيث يكون فيها (فقر) الدورة وتتميز بوصول نسبة البطالة الى أعلى الأقران وانخفاض الطلب الاستهلاكي وتراجع أرباح المشروعات أو تكيدها للخسائر، وتعد هذه المرحلة مرحلة زيادة كبيرة في المعروضات أكثر كثيراً من الطلب الكلي وبذلك تقل ثقة المستهلكين بالإقتصاد، ك أدنى مستوى لها	٥ درجات





# الاجوبة النموذجية 2020

## الدور التمهيدي



حمل الاجوبة النموذجية لجميع المواد  
عبر الباركود

موقع ملازمنا  
WWW.MLAZEMNA.COM



ملاحظة : أجب عن خمسة أسئلة فقط ولكل سؤال ٢٠ درجة .

س١: عرف خمسا مما يأتي :

النظرية الاقتصادية ، القدرة الادخارية ، قوة العمل ، الوديعة ، الدخل الفردي المتاح ، الإنتاج .

س٢: أ) علل ثلاثا مما يأتي :

( ١٢ درجة )

١) إعانات العاطلين أو التأمينات الاجتماعية أو الدخول التي يحصل عليها المتسولون لا تعد دخول لمستلميها .

٢) تقدم المصارف مجموعة من الخدمات المالية لزيانها مقابل الحصول على عمولات قليلة نسبيا .

٣) يشكل التضخم مشكلة كبيرة في المعاملات المالية وبخاصة الديون .

٤) للإستهلاك علاقة عضوية بالإنتاج .

ب) محمد هو أحد طلاب الصف السادس العلمي ، والده يحصل على دخل شهري مقداره ( ٢٠٠٠٠٠٠ ) دينار

شهريا وكان الميل الحدي لادخار الأسرة هو ( ٠,٤ ) فما مقدار الادخار الشهري؟ ومقدار الاستهلاك؟ ( ٨ درجات )

س٣: أ) املأ الفراغات الآتية :

١) يؤدي زيادة الطلب الكلي عن العرض الكلي إلى حدوث .....

٢) يعتمد الاقتصاد الكلي على دراسة دور الدولة في النشاط الاقتصادي عن طريق السياسات .....

المتعلقة بتحقيق الاستقرار الاقتصادي .

٣) تعرف البطالة الهيكلية على أنها البطالة التي تنشأ بسبب .....

٤) من أهداف الموازنة تشجيع الصناعات المحلية وتكوين البنية الأساسية .....

٥) التضخم عبارة عن نقود كثيرة تطارد سلعا' .....

ب) عدد خمسة فقط من مبادئ الموازنة العامة .

س٤: أجب عن أربع مما يأتي :

١) من مراحل تطور النقود مرحلة النقود السلعية ، كيف ظهرت هذه المرحلة ؟

٢) ما مفهوم البطالة المقنعة ؟ وما طرق معالجتها ؟

٣) الاستخدام ( التشغيل ) من الآثار الاقتصادية للنفقات العامة ، وضّح ذلك .

٤) تعظيم الأرباح من أهم الأهداف العامة للمصارف ، وضّح ذلك .

٥) ما مفهوم الاستهلاك التابع ؟

( ٦ درجات )

س٥: أ) أجب عن واحد مما يأتي :

١) عدد الوظائف الأساسية للنقود .

٢) ما الآثار الاقتصادية للإيرادات العامة ؟

( ٨ درجات )

ب) ارسم مع الشرح المراحل التي تمر بها دورة أعمال واحدة .

( ٦ درجات )

ج) أجب عن واحد مما يأتي :

١) ما معادلة الطلب الكلي ؟ وضّح عناصرها .

٢) ما مفهوم التوازن الكلي ؟ وكيف يتحقق ؟

س٦: أ) كان سعر سيارة نيسان ( ٨٠٠٠٠٠٠ ) دينار عام ٢٠٠٩ ، وأصبح سعرها بحدود ( ١٢٠٠٠٠٠٠ )

( ٧ درجات )

دينار عام ٢٠١٧ ، احسب الرقم القياسي للأسعار .

( ٧ درجات )

ب) عدد طرق قياس الدخل القومي ، ثم اشرح طريقة القيمة المضافة .

( ٦ درجات )

ج) أجب عن واحد مما يأتي :

١) ما هي طرق التحليل الاقتصادي ؟ وضّح ذلك

٢) عدد فقط أنواع الاستثمار من حيث الأجل .



الدور / التمهيدي

الاجوبية النموذجية للدراسة الإعدادية للعام الدراسي ٢٠١٩ / ٢٠٢٠

الفرع / المتخصص

اسم المادة / الاقتصاد

جواب السؤال ( الأول ) فرع ( )

الدرجة	الجواب النموذجي	الصفحة	السؤال
	١ / الفطرية الاقتصادية : مجموعة قوائم ومبادئ اقتصادية تكون بمثابة مبادئ في اتخاذ القرارات في تلك مجموعة من الظروف	٣٦	السؤال الأول
	٢ / القدرة الأضرارية : هي قدرة الفرد على تخصيص مفرغ من دخله من أجل المستقبل وهي تحدد بالفوتة بين حجم الدخل وحجم الأنفاق أو بثوقفة أنفاق الفرد على أسلوبه وعيشته .	٣٦	
	٣ / قوة العمل ! هي عدد السكان القادرين على العمل والراغبين فيه والذين يكونون في كفاية وعينه أعمال فعليين أو عاطلين عن العمل من مرحلة الشبان الى سن التقاعد ومنه المقارن عليه دولياً أنه سن العمل هو ( ١٥ - ٦٤ ) أو سن القدرة على العمل منه الدخول والخروج من سوق العمل .	٤٣	
	٤ / المورد هي المبلغ المخرج به في أي عمل كانت والمورد لدى المصروف والواجبية التأدية عند الطلب أو بعد انذار أو في تاريخ استحقاقه وفي	٣٧	
	٥ / الدخل الفردي المتاح ! هو الدخل القابل للتصرف وهو الدخل الشخصي مطروفاً منه الضرائب المباشرة ونسبي بالمتاح	٣٨	





الدور 1 / التمهيدية  
الفرع 1 / التمهيدية

الإجوبة النموذجية للدراسة الإعدادية للعام الدراسي ٢٠١٩ / ٢٠٢٠

اسم المادة / ... الإمتحان ...

جواب السؤال ( الأول ) فرع ( )

الدرجة	الجواب النموذجي	الصفحة	السؤال
	<p>أني أن الفرد يمكن له التعرف التام به لشراء السلع والخدمات اللازمة لأشباعها واستودعهم الفاصل منه (الزيادة) نحو الأضرار .</p> <p>٦ / الإنتاج هو تلف المنفعة أو زيادتها وكل منفعة تتألم لصورة مباشرة أو غير مباشرة في إشباعها باست تعد إنتاجها .</p> <p>ملاحظة ( ) الأهمية عن خمسة تعاريف لكل تعريف (٤ درجات)</p>	٧	السؤال الأول





الدور / التمهيدية  
الفرع / التمهيدية

الاجوبة النموذجية للدراسة الاعدادية للعام الدراسي ٢٠١٩ / ٢٠٢٠

اسم المادة / الامتحان.....

جواب السؤال ( الخاف ) فرع ( / / )

الدرجة	الجواب النموذجي	الصفحة	السؤال
١٢	التقابل ! ١ / الأفعال مدفوعات تحويلية . ٢ / لفرفت هذب الزبائن والمفاظ عليهم . ٣ / ففنى فذل التفعيم يهيم الأفعال بالديون أقل كلفه لأن النفور تحسرتي من قبتها . ٤ / اذا الانتاج يواجب دائما أما بالسلع أو الكفبات التي تنتج في ذلك الوقت وأما بالسلع التي أنتجت من قبل . (ملاحظة الاجابة عن ( ٣ ) تعاليل ولكل تعليل ٤ درجات )	١٧ ١٨ ١٩ ٢٠	١٢
٢٩	هوايب فرع ب		
	الأضرار الشري = الدخل المتاح X الميل كبرى للأضرار = ١٠٠٠٠٠ X ١٤ = ١٤٠٠٠٠ = ٨٠٠٠٠٠ X ١٤ = ١١٢٠٠٠٠ الأضرار = الدخل - الأضرار = ١٠٠٠٠٠٠ - ١١٢٠٠٠٠ = ٨٠٠٠٠٠ = ١٠٠٠٠٠٠ - ١١٢٠٠٠٠ = ٨٠٠٠٠٠		





٤

لأم الصفحات



الإجوبة النموذجية للدراسة الإعدادية للعام الدراسي ٢٠١٩ / ٢٠٢٠

الدور / الشهدي

الفرع / المتخصص

اسم المادة / الأقتصاد .....

جواب السؤال ( الثالث ) فرع ( )

الدرجة	الجواب النموذجي	الصفحة	السؤال
لكل فرع درجتان	الفراغات ١ / فحوه تصفحة ٢ / النقدية والمالية ٣ / التغيرات الديناميكية للأقتصاد ٤ / للميكلا الأقتصادي ٥ / قلبية	٤٥ ٤٤ ٤٤ ٤٨	٢ / ك
	جواب فرع ب ١ / مغوية الموازنة ٢ / أصول الموازنة ٣ / مجموع الموازنة ٤ / اذوية الموازنة ٥ / شفافية الموازنة ٦ / اذوية الموازنة ٧ / مرونة الموازنة ٨ / توازن الموازنة	٤٧	٣ / ب



طلابكم  
يكثفون الطلاب  
بذكرهم آمين  
وكلنا تفضل درجتان



الدور / التمهيدية  
الفرع / المتخصصي

الاجوبة النموذجية للدراسة الاعدادية للعام الدراسي ٢٠٢٠ / ٢٠٢١

اسم المادة / ا.ا. لأقتصاد.....

جواب السؤال ( الرابع ) فرع ( / )

الدرجة	الجواب النموذجي	الصفحة	السؤال
٥ درجات	<p>١. مع تطور النظام الاقتصادي وتوسعه وازدياد اواجهه اى السلع المنتجة والمواد من مجتمعات اخرى وتغييره تغير نظام المقايضة فصره اى الوجود ما يمكن ان يطلق عليها بالتقود السليمة.</p>	٦٣ ٧٧	س ١
٥ درجات	<p>٢. تنشأ البطالة المقننة في اى لاسه التي يكون فيها عدد العمال المتقنين يتوقه اواجهه الفعلي للمحل كما يعني وجود كماله خائفة لا تنتج شيئا تقريبا حيث ايضا اذا ما احييت من أماكن عملها كان حجم الانتاج يتخفنا</p>	٤٥ ٧٧	س ٢
	<p><u>الحماية</u> اعتماد معيار الحماية الحقيقية للقوة العاملة دربط الأير بالعمالة وتأهيل العمال القائفة للعمل في اعمال اخرى.</p>		
	<p>يتبع ←</p>		





الدور / التمهيد  
الفرع / التمهيدي

الاجوبة النموذجية للدراسة الإعدادية للعام الدراسي ٢٠١٩ / ٢٠٢٠

اسم المادة / الاقتصاد.....

جواب السؤال (الرابع) فرع ( )

الدرجة	الجواب النموذجي	الصفحة	السؤال
٥ درجات	<p>جواب نقطة رقم (٣)</p> <p>تساعد الأنظمة العام على توفير فرص عمل جديدة مما يرفع من مستوى الاستخدام في الاقتصاد تبعاً للحجم لهذا الأنظمة إذ أن لهذا الأنظمة سوف تترتب عليه تشغيل الأفراد بصورة مباشرة كما في سياسات التشغيل القاب أو بصورة غير مباشرة عن طريق طلب الكوادر على بعض السلع وخدمات القطاع الخاص وذلك ما تترتب عليه زيادة الطلب على عناصر الإنتاج فزيادة استهلاكها.</p>	٧٨	٣٣/٣
٥ درجات	<p>جواب نقطة رقم (٤)</p> <p>وهو الصرف الأجنبي لمنظمات الأعمال إذ يعتمد على تقويم مستويات الأرباح ما أمكن من خلال الاستخدام الأمثل للموارد المتاحة في تلك المنظمات الشديدة في الأسواق.</p>	٧٦	
٥ درجات	<p>جواب نقطة رقم (٥)</p> <p>وهو الأستلاك الذي يتغير بتغير الدخل أي أنه ينبع الدخل فأن الفرد عند ارتفاع دخله يميل إلى كسبه مستول جهاته من خلال زيادة أنفاقه على سلع والخدمات الأفضل (السلع والخدمات الكمالية التي لا تعد من السلع الأساسية ملائمة للأجاليات من أربعة فروع).</p>	٢٥	




الدور / المصهري

الاجوبة النموذجية للدراسة الاعدادية للعام الدراسي ٢٠١٩ / ٢٠٢٠

الفرع / التطبيق

اسم المادة / الاقتصاد .....  
جواب السؤال ( الخامس ) فرع ( م )

الدرجة	الجواب النموذجي	الصفحة	السؤال
٦ درجتي لكل نقطة ٤ درجة	 <p>الوظائف الأساسية للتقود هي ١- وسيلة للتبادل ٢- مخزن للقيمة ٣- مقياس للقيمة</p>	٦٢	١/٢/٥
٦ درجتي لكل نقطة ٤ درجة	<p>الاثار الاقتصادية للإيرادات ٢- خفض اقيام - توزيع : والذي يتمثل بالاذن من دفول الاغنياء وتوجيهها الى مشروعات تخدم الفقراء ، وهذا يتم اعادة توزيع الدخل القوي لصالح تحقيق شيأ من العدالة.</p> <p>ب- خفض اقتصادي : ويهدف الى تمويل مشروعات تخدم الاقتصاد القوي كمشروعات البنية التحتية ، أو إقامة مشروعات للإيتم القطاع الخاص من القيام بها ، إما للإرتفاع المناظرة فيها أو لعدم قدرته على تمويلها .</p> <p>ج- خفض نقدي : ويتمثل بخفض القدرة الشرائية المتاحة للأفراد أي ففقت الطلب الكلي بغية كبح التوجهات التضخمية والمحافظة على قيمة التقود .</p> <p>ملاحظة : الإجابة على نقطة واحدة من فرع م</p>	٧٦	٢/٢/٥

الدور / التجديدي  
 الفرع / لتطبيق

الإجوبة النموذجية للدراسة الإعدادية للعام الدراسي ٢٠١٩ / ٢٠٢٠

اسم المادة / ...

جواب السؤال ( الخامس ) فرع ( ب )

الدرجة	الصفات النموذجية	الصفحة	السؤال
٨ درجة	<p>النتائج المعلى لإجمالي</p>  <p>المرحلة التي تمر بها دورة أعمال واحدة :</p> <p>١- مرحلة الركود                  في هذه المرحلة يمان الكثير من المنتجات لا تجد لها طلباً والعرض الكلي أكبر من الطلب الكلي، مما يؤدي إلى تراكم السلع في الأسواق، وهنا تبدأ ثقة المستهلكين وأصحاب الأعمال تتزعزع بالاعتقاد، فبدأ الأمصار بالانخفاض بونائر سريعة وتنخفض أرباح الشركات وتبدأ العديد من الشركات بإعلان إفلاسها وهو ما يفاقم حالة البطالة في الاقتصاد وتنخفض مستويات الدخل وجميع ذلك يؤثر في قلة الطلب على السلع والخدمات.</p>	٥٧ - ٥٦	٥٥ ٥٦





الدور / الـبَحْثِي  
الفرع / التَّبْطِيقِي

الاجوبة النموذجية للدراسة الإعدادية للعام الدراسي ٢٠١٩ / ٢٠٢٠

اسم المادة / الاقتصاد.....

جواب السؤال ( الخامس ) فرع ( ب )

الدرجة	الجواب النموذجي	السؤال	الصفحة
	<p>٢- مرحلة الكساد : وهي أصعب مرحلة من مراحل دورة الأعمال ويكون فيها (عمر) الدورة ، وتتميز بوصول نسب البطالة التي عددها الأعلى وانخفاض الطلب الاستهلاكي ، وتراجع أرباح المشروعات أو تكديدها للمخازن ، وتعد هذه المرحلة مرحلة زيادة كبيرة في المعروض السلعي أكثر كثيراً من الطلب الكلي ، وبذلك تقل نسبة المستهلك بالاقتماد على أدنى مستوى لها .</p> <p>٣- مرحلة الانتعاش : في هذه المرحلة يبدأ الاقتصاد بالنمو، لبطيء نتيجة انخفاض سعر الفائدة وتنازل الميزنون السلفي وتزايد الاستثمارات ، والنتيجة هي زيارة حجم لتسجيل (الاستخدام) ببطء وانخفاض مستوى البطالة ووصول زيادة في الإنتاج وارتفاع ضئيل في الأسعار وتوسع في حركة الاقتراف .</p> <p>٤- مرحلة الازدهار : يتوسع النشاط الاقتصادي في هذه المرحلة نتيجة توسع المشروعات القائمة وإقامة مشروعات جديدة ويزداد الطلب على المواد الأولية وترتفع أثمانها، فنتجاً عن ذلك توسع حركة الاقتراف من المصارف وترتفع بذلك أسعار الفائدة ويصل الاقتصاد إلى مستويات التسجيل الكامل مما يؤدي إلى زيادة ضخمة للتركة .</p>	٥٦-٥٧	٥٧





الدور / ١. ليعتمدك

الإجابة النموذجية للدراسة الإعدادية للعام الدراسي ٢٠١٩ / ٢٠٢٠

الفرع / ١. لتطيق

اسم المادة / ... الإقتصاد ...

جواب السؤال ( الخامس ) فرع ( ج )

الدرجة	الجواب النموذجي	السؤال	الصفحة
٦ درجة الإجابة على نقطة واحدة	<p>مادونة الطلب الكلي هي :</p> $Y = C + I + G + (X - M)$ <p>حيث أن :</p> <ul style="list-style-type: none"> <li>Y : الطلب الكلي</li> <li>C : الاستهلاك</li> <li>I : الاستثمار</li> <li>G : الإنفاق الحكومي</li> <li>X : الصادرات</li> <li>M : الواردات</li> </ul>	سؤال ١	٢٨
	<p>التوازن الكلي ، يتحقق التوازن الكلي في الإقتصاد يتساوى الطلب الكلي مع العرض الكلي ، فإذا زاد الطلب عند العرض عند مستوى التوظيف الكامل ، أدت ذلك إلى حدوث ضخمة تضخمية ، أما إذا حدث قصور في الطلب عند عرض التوظيف الكامل فيؤدي ذلك إلى حدوث ضخمة انكماشية .</p>	سؤال ٢	٩









الدور / المصروفين

الإجوبة النموذجية للدراسة الإعدادية للعام الدراسي ٢٠١٩ / ٢٠٢٠

الفرع / التسمية

اسم المادة / الامتحان

جواب السؤال ( الك ر ) فرع ( ل )

الدرجة	الجواب النموذجي	الصفحة	السؤال
--------	-----------------	--------	--------

المصناعات التي تهتم بالزيادة التي يضرها كل قطاع  
فلك العلية الانتاجية على فئة المدفلات التي  
لست لها أي من الفوائد المضافة هذه الفوائد  
بمئة قيمة الانتاج ويتم قيمة المنتجات لوجوه  
خلال كل مرحلة من مراحل انتاج القطن  
مثال :

سليم معك الابتكار للفرد القطنية لجبات  
القطنية من أشهر المزارع لانتاج القطن ورفع  
لها مبلغ (٢٠) مليون دينار وقام ببيع الفرد  
المنتج الى شركة معينة لتسويق القطنية بمبلغ (٤٠)  
مليون دينار والتي بدورها باعت المصنوعات القطنية  
الى شركة أخرى لانتاج الالبسة القطنية الجاهزة  
بمبلغ (٦٠) مليون دينار والتي قامت بتسويق  
مختلف الملابس منها وباعتها في كل جهات بمبلغ  
(٨٥) مليون دينار وعرفني



المرحلة	مرحلة الانتاج	قيمة البيع	القيمة المضافة
الأولى	انتاج القطن	٢٠	٢٠
الثانية	التصنيع والفرد	٤٠	١٠
الثالثة	التسويق	٦٠	٢٠
الرابعة	الملابس	٨٥	٢٥
الأجمالي		٢١٥	٨٥

طريقة القيمة المضافة

طريقة لزيادة



الدور / التمهيد

الاجوبة النموذجية للدراسة الإعدادية للعام الدراسي ٢٠١٩ / ٢٠٢٠

الفرع / التطبيق

اسم المادة / الاقتصاد.....

جواب السؤال ( ا ل ا ر ا ) فرع ( ج )

الدرجة	الجواب النموذجي	الصفحة	السؤال
٦ درجتي كل نقطة درجتي	<p>طرق التمثيل الاقتصادي هي :</p> <p>١- الطريقة الوصفية : استخدام المنطق والتمثيل لتعداد ٢- الطريقة البيانية : استخدام رسوم بيانية . ٣- الطريقة الرياضية : وضع المتغيرات المتعادلة في شكل معادلات رياضية</p>	٨	تسارح ١
٦ درجتي كل نقطة درجتي	<p>٢- الاستثمار - طريق الأجل :</p> <p>هي الاستثمارات التي تمتد لأكثر من ثلاث سنوات في الغالب كالاستثمار في المشروعات الصناعية والزراعية أو المشروعات التي يمتد الاستثمار فيها لفترة زمنية طويلة مثل المصانع والاتصالات ومادة مايسم هذا النوع بارتفاع المناظرة والعائد .</p> <p>ب- الاستثمار متوسط الأجل :</p> <p>هي الاستثمارات التي تمتد خلال مدة زمنية تتراوح بين السنة إلى ثلاث سنوات ، ومن أمثلتها ، استثمار في سوق العقارات .</p> <p>ج- استثمار قصير الأجل :</p> <p>هي الاستثمارات التي تعد لمدة زمنية مادة تكونت قصيرة من يوم إلى أقل من سنة ، ومن أمثلتها الاستثمار في الودائع المصرفية وأذونات الخزانه والأوراق التجارية ، وعادة مايسم هذا النوع بانخفاض المناظرة والعائد عليها .</p> <p>ملاحظة : الاجابة على نقطة واحدة من فرع ج</p>	٢٨	تسارح ٢



# الاجوبة النموذجية 2020

## الدور الاول



حمل الاجوبة النموذجية لجميع المواد  
عبر الباركود

موقع ملازمنا  
[WWW.MLAZEMNA.COM](http://WWW.MLAZEMNA.COM)



ملاحظة : أجب عن خمسة أسئلة فقط ولكل سؤال ٢٠ درجة .  
س ١ : أ- اختر الإجابة الصحيحة من بين الأقواس :

( ٨ درجات )

- (١) الأجر هو نوع المكافئة لعنصر ( الموارد الطبيعية والأرض ، التنظيم ، العمل ) .
- (٢) الاستهلاك الذي لا يتغير بتغير الدخل هو ( الاستهلاك الثابت ، الاستهلاك الحكومي ، الاستهلاك التابع ) .
- (٣) يُعد التوقف المؤقت عن العمل بطلاة ( مقنعة ، هيكلية ، احتكاكية ) .
- (٤) تتوسط المصارف ما بين ( الأفراد والمؤسسات ، التجار والحكومة ، الأفراد والتجار ) .
- (ب) يبلغ راتب موظف في إحدى دوائر الدولة ( ٧٠٠٠٠٠ ) دينار شهرياً ويخضع الراتب إلى ضريبة مباشرة قدرها ( ٣٥٠٠٠ ) دينار ، وإذا ما علمت أن ما يخصه الموظف للاستهلاك يشكل ( ٨٥ % ) من دخله ، احسب مقدار الدخل الصافي القابل للتصرف ( المتاح ) ومقدار الادخار .

( ٦ درجات )

( ٦ درجات )

- (ج) أجب عن واحد مما يأتي :
- (١) الدومين من أهم مصادر الإيرادات العامة ، وضّح ذلك . (٢) ما مفهوم المصارف الإلكترونية ؟
- س ٢ : (أ) عدّد فقط مع الرسم المراحل التي تمر بها دورة أعمال واحدة . (٨ درجات)
- (ب) إذا كان لديك الجدول أدناه الذي يوضّح الدخل والاستهلاك في اقتصاد دولة ما ، احسب كل من الميل الحدي للاستهلاك والميل المتوسط للاستهلاك . (٦ درجات)

السنة	الدخل (مليار دينار)	الاستهلاك (مليار دينار)
٢٠١٦	١٠٠	٥٠
٢٠١٧	٢٠٠	١٠٠
٢٠١٨	٣٢٠	١٧٢
٢٠١٩	٤٦٠	٢٧٠

( ٦ درجات )

- (ج) أجب عن واحد مما يأتي :
- (١) عدّد طرق قياس الدخل القومي ، ثم اشرح طريقة القيمة المضافة .
- (٢) اذكر ثلاثة من أهداف السياسة الاقتصادية .
- س ٣ : (أ) عرف ثلاثاً مما يأتي : الموازنة العامة ، العاطل عن العمل ، دخل الدولة ، الرصيد . (٩ درجات)
- (ب) عدّد فقط العوامل المؤثرة على الناتج القومي . (٥ درجات)
- (ج) أجب عن واحد مما يأتي :
- (١) عدّد فقط أنواع الاستثمار من حيث الأجل . (٢) وضّح مفهوم البطالة الدورية . (٨ درجات)
- (٤) أكمل العبارات الآتية بما يناسبها :

( ٨ درجات )

- (١) توازن الموازنة هو أن تكون نفقات الحكومة مساوية تماماً .....
- (٢) الاقتصاد الجزئي يهتم بدراسة الاقتصاد على مستوى القضايا .....
- (٣) مجموع الميل الحدي للاستهلاك والميل الحدي للادخار يساوي .....
- (٤) التضخم هو نقود كثيرة تطارد .....
- (ب) اكتب معادلة حساب معدل التضخم .
- (ج) أجب عن واحد مما يأتي :

( ٦ درجات )

( ٦ درجات )

- (١) مرحلة النقود السلعية من أهم مراحل تطور النقود ، وضّح ذلك .
- (٢) وضّح مفهوم العبارة الآتية : ( إنَّ الدخل والإنتاج ، ما هما إلا وجهان لعملة واحدة ) .
- س ٥ : (أ) علل ثلاثاً مما يأتي :

( ٩ درجات )

- (١) تختلف مجالات الإنفاق في مختلف الدول .
- (٢) التضخم الجامح يعد من أصعب أنواع التضخم .
- (٣) يُعد الاستثمار ذا أهمية كبيرة في تنمية الاقتصاد الوطني .
- (٤) الاستهلاك هو غاية النشاط الاقتصادي والهدف النهائي من العملية الإنتاجية .
- (ب) في بلد ما كانت قوة العمل تبلغ ( ٢٤٠٠٠٠٠ ) شخص وحجم البطالة يبلغ ( ١٥٠٠٠٠ ) شخص ، احسب معدل البطالة .
- (ج) أجب عن واحد مما يأتي :

( ٥ درجات )

( ٦ درجات )

- (١) عدّد فقط ستة من أهداف الموازنة العامة .
- (٢) من أهداف المصارف العامة الاحتفاظ بالسيولة ، وضّح ذلك .
- س ٦ : (أ) أجب عن واحد مما يأتي : (١) ما هي آثار التضخم ؟ (٢) عدّد خصائص النقود . (٨ درجات)
- (ب) من الآثار الاقتصادية للنفقات العامة ، الاستخدام ( التشغيل ) ، وضّح ذلك . (٦ درجات)
- (ج) عدّد مع الشرح دوافع الادخار . (٦ درجات)

( ٨ درجات )

( ٦ درجات )

( ٦ درجات )





الأجوبة النموذجية للدراسة الإعدادية الفرع العلمي التطبيقي للعام الدراسي (١٩٠١ / ٢٠٠٠)

اسم المادة / ... الاقتصاد ..... الدور الأول .....

جواب السؤال (الأول) الفرع (٢) ( ٢ )

الدرجة	الجواب النموذجي	الصفحة	السؤال
(٨) - ١٠	١- العمل ٢- الاستهلاك الثابت ٣- اجتناك كية ٤- أفراد والمؤسسات	٧٥ ٧٥ ٧٤ ٧٥	السؤال (٣) فرع (٢)
١٠ - ١١	إدخال إفترضه (مقابل للفرع) = إدخال الخصم - إخراج (إفترضه) ٦٦٥٠٠٠ - ٧٥٠٠٠ = ٦٦٥٠٠٠ اذن إدخال مقابل للفرع هو ٦٦٥٠٠٠ تقدير مقدار لإدخال من إدخال حجم الاستهلاك = إدخال مقابل للفرع (مبلغ) $\times \frac{١٠٠}{٨٥}$ $٦٦٥٠٠٠ \times \frac{١٠٠}{(٨٥)} =$ $= ٥٦٥٠٠٠$ حجم الاستهلاك الإدخال = إدخال - الاستهلاك $٥٦٥٠٠٠ - ٦٦٥٠٠٠ =$ $= - ١٠٠٠٠٠$ وسيدخل المخصص للإدخال	١٨-١٩	السؤال (٥) فرع (٢)



الأجوبة النموذجية للدراسة الإعدادية الفرع العلمي التطبيقي للعام الدراسي ( ٢٠١٩ / ٢٠٢٠ )  
الدور / الأول

اسم المادة / الأقتصاد

الفرع ( )

جواب السؤال ( الأول )

الدرجة	الجواب النموذجي	الصفحة	السؤال
٧ درجات	<p>١- الدوفين : هي عبارة عن عوارض الكحول المسفولة والفقرية التي تملكها لدولة تملك عامة ، وتقوم بتأجيرها في الأفراد والمؤسسات مثل لإراضي سوا كانت أرض زراعية أو مزرعة أو الأبنية والساحات .. الخ</p> <p>٢- بصارف الإلكترونيّة : تقرأ للتطور الطائل في تقنيات لإصالات والإستراتيجيات قد عملت أغلب لمصارف على تقديم خدماتها عبر شبكات لإصالات لدولته كما وصبغة حزايره عن تقديم لخدمات مخصصة بالقروض حلا ، والإطلاع على حسابات الزبائن التي تدفع الإلكترونيّة ، أو أصبح من سهل لإن إحتج عن رصيد لودائع أو صرف القروض عن طريق حيا على تدفع الإلكترونيّة وتقدمه عن كل الأداة لحوالهم</p>	٧٥ ص ٧٦ ص	١٧ ١٨





الأجوبة النموذجية للدراسة الإعدادية الفرع العلمي التطبيقي للعام الدراسي (٢٠١٨ / ٢٠٢٠)  
اسم المادة / الإختصار .....  
الدور الأول / تطبيقي .....

جواب السؤال ( الثاني ) الفرع ( ٢ - )

الدرجة	الجواب النموذجي	الصفحة	السؤال
درجات مقبولة	<p>فرع ٢ - ٥٦ - ٥٧</p> <p>١- مرحلة الكود ٥ مرحلة الكا ٤ مرحلة الانتعاش</p> <p>٢- مرحلة التوسع</p> <p>الناتج المحلي الإجمالي</p> <p>فترة الانتعاش</p> <p>فترة التوسع</p>	٥٦ ٥٧	٢ -





الأجوبة النموذجية للدراسة الإعدادية الفرع العلمي التطبيقي للعام الدراسي ( ٢٠١٩ / ٢٠٢٠ )

الدور الأول / الثاني / الثالث

اسم المادة / الرصاص

جواب السؤال ( ١ ) ( ب )

الدرجة	الجواب النموذجي						الصفحة	السؤال	
درجات معدل	APC	MPC	التغير في الاستهلاك	التغير في الادخار	الاستهلاك بمليار دينار	الادخار بمليار دينار	٥٧	١ - ثانياً - ج -	
	الادخار الوطني	(التغير في الاستهلاك) التغير في الادخار	الاستهلاك بمليار دينار	الادخار بمليار دينار	الاستهلاك بمليار دينار	الادخار بمليار دينار			
	.....	.....	.....	.....	٥٠	١٠			٢٠١٦
	١٠	٥٥	٥٠	١٠٠	١٠٠	٢٠٠			٢٠١٧
	١٠٥	٥٦	٧٢	١٢٠	١٧٢	٢٢٠			٢٠١٨
١٥١	٥٧	٩٨	١٤٠	٢٧٠	٤٦٠	٢٠١٩			



جواب السؤال ( الثاني ) الفرع ( ح )

الدرجة	الجواب النموذجي	الصفحة	السؤال
٦ درجات معدل	<p>اهم طرق قياس الدخل القومي :-                      ١- طريقة القيمة المضافة :- طريقة ارتفاع                      ٢- طريقة الدخل .                      شرح طريقة القيمة المضافة :-                      لفرضنا علم امتحان بالقياس البسيط او تكرار امتحان                      قيمة اللفة مرتين راجع الموضوع من مثل امتحان                      تربية الخنزة او لرقعة كثر من مرة في سنوات                      الخنز . تم الاعقاد مع طريقة القيمة المضافة ل                      تهتم بالزيادة التي يحصلها كل قطاع فذلك لعلمية                      الانتاج مع قيمة المدفوعات التي يتسببها                      ان القيمة المضافة هي الفرق بين قيمة                      الانتاج وبين قيمة المدفوعات المدفوعة فذلك                      كل مرحلة من مراحل انتاج اللفة .</p>	١٥ ادلا	١- ٢-
	<p>(٦) درجاً والإجابة مع نغمة واهدك قهلاً</p>		



الأجوبة النموذجية للدراسة الإعدادية الفرع العلمي التطبيقي للعام الدراسي ( ٢٠١٩ - ٢٠٢٠ )

الدور الأول / تطبيق

اسم المادة / الاقتصاد

جواب السؤال ( الثاني ) الفرع ( ٥ )

الدرجة	الجواب النموذجي	الصفحة	السؤال
٦ درجات	<p>١- تهدف لبعث الاقتصاد، كتحسين ااهداف البلد</p> <p>٢- تحفيز الاستثمار والتفيل، تأمل موارد الاقتصادية المتاحة</p> <p>٣- تحفيز الاستثمار في الامهار</p> <p>٤- تحفيز النمو الاقتصادي</p> <p>٥- تحفيز التوازن في ميزان المدفوعات عبر المعاملات للبلد الاقتصادية مع العالم الخارجي</p> <p>(٦) درجات</p> <p><u>ملاحظة</u> : المطلوب ثلاث اهداف مقبولة</p>	٦	٥





الأجوبة النموذجية للدراسة الإعدادية الفرع العلمي التطبيقي للعام الدراسي (٢٠١٩ / ٢٠٢٠)

الدور الأول / الأول

اسم المادة / الإقتصاد

جواب السؤال (الثالث) الفرع (١)

الدرجة	الجواب النموذجي	الصفحة	السؤال
٤ درجات لكل تعريفة ثلاث درجات	الموازنة العامة / تقدير مفضل وعمق لنفقات الدولة وإيراداتها لفترة زمنية لاحقة عادة " فالتكون منه واحد وتحتاج إلى الإقتراف من الجهة المخولة في الدولة لتصبح قابله للتنفيذ.	٧١ صفحة	٣ سؤال
الأطباء عند إزالته حفظ	العامل عن العمل / أنه ذلك العنصر الذي يكون في بين العمل (فيه عمدة ١٨-٦٤) وهو قادر على العمل ورغب فيه ويبحث عنه عند مستوى الأجر السائد لكنه لا يجده.	٤٢ صفحة	
	دخل الدولة / وهو مجموع القيم المنتجة من السلع والخدمات المتحققة في البلد خلال سنة من خلال عناية عوامل الإنتاج (الأرض - العمل - رأس المال - التنظيم) ويسمى أيضا الناتج المحلي.	٤٨ صفحة	
	الرهيد / وهي كمية ثابتة يمكن قياسها في لحظة زمنية معينة مثل الآلات، المخزون الطيب، رأس المال، الثروة، كمية الذهب - الرهيد في البنك - الأسهم (وعمادة قائمته مع الرهيد تاريخه المحدد. مثلا في تاريخ ١٢-١٥-٢٠١٤ كان رهيد (شركة الخطوط الجوية العراقية (١٥٠) مليا رهيد	٩ صفحة	



الأجوبة النموذجية للدراسة الإعدادية الفرع العلمي التطبيقي للعام الدراسي (٢٠١٤ / ٢٠١٥)

الدور / الأول .....

اسم المادة / الاقتصاد .....

جواب السؤال ( الثالث ) الفرع ( ب )

الدرجة	الجواب النموذجي	الصفحة	السؤال
٥ درجات	<p>أ- الأستقرار السياسي والأمني للبلد .</p> <p>ب- كمية ونوعية الموارد الاقتصادية المتاحة للمجتمع .</p> <p>ج- قدرة المجتمع على توفير الإمكانيات المتاحة له .</p> <p>د- القدرات البشرية المتوافرة في المجتمع .</p> <p>هـ- الظروف الطبيعية .</p>	٧٦	سؤال مزغ ب
١٦ درجات الإجابات عن واحد فقط	<p>أ- الأستثمار طويل الأجل .</p> <p>ب- الأستثمار متقوطة الأجل .</p> <p>ج- الأستثمار قصير الأجل .</p> <p>البطالة الدورية / وهي البطالة الناتجة عن دور الأزمات ففي فترات الركود الاقتصادي وانخفاض الإنتاج ينخفض التوظيف فتزداد معدلات البطالة في قطاعي الصناعة والبناء وتتأثر العمالة ذات المهارات الأقل أكثر من العمالة الماهرة .</p>	٧٨ -١ -٢	مزغ ج






الأجوبة النموذجية للدراسة الإعدادية الفرع العلمي التطبيقي للعام الدراسي (٢٠١٩ / ٢٠٢٠)

اسم المادة / الإقتصاد ..... الدور / الأول .....

جواب السؤال (الرابع) الفرع (٢ + ٣)

السؤال	الصفحة	الجواب النموذجي	الدرجة
سؤال ٣	٧٣	١- لا يرا داترا . ٢- الجزئية او الفردية . ٣- الواحد الصحيح . ٤- سلما أقليلة .	(١١) درجات شكل قرن درجات
سؤال ٤	٤٩	وهذا ل التخمم = الرقم إقتاسي للاسعار في تلك السنة - برقم إقتاسي في	سؤال ٤
		الرقم إقتاسي للاسعار في السنة لتي	١١ X قبها
			(٦) درجات





الأجوبة النموذجية للدراسة الإعدادية الفرع العلمي التطبيقي للعام الدراسي (٢٠١٩/٢٠٢٠)

اسم المادة / الإقتصاد

الدور / الأول

جواب السؤال (الرابع) الفرع (أ-)

الدرجة	الجواب النموذجي	الصفحة	السؤال
(٩) درجات	<p>١- هو تطور النظام الاقتصادي وتوسعه وازدياد الحاجة إلى السلع المنتجة والمواد من مخرجات أخرى، ونتيجة تضرر نظام المقايضة ظهرت إلى وجود ما يمكن أن يطلق عليه بالنقود السلعية، وهي مجموعة من السلع ذات الاستخدام العام والمقبول لدى قطاعات المجتمع، بحيث يمكن استخدامها كوسيلة لمبادلة كل أنواع السلع والخدمات الأخرى فأصبح الصوف والقمح وبعض المعادن تستخدم بديلًا عن السلع الأكثر شيوعًا في المجتمعات الزراعية.</p>	٣٣	سؤال ٢-



مركز فحص الدراسة

الإعدادية

النموذجية للدراسة الإعدادية الفرع العلمي التطبيقي للعام الدراسي (٢٠١٩/٢٠٢٠)

المادة / الاقتصاد .....  
الدور / الأول

جواب السؤال (الرابع) الفرع (٥ - ٦)

السؤال	الصفحة	الجواب النموذجي	الدرجة
سؤال ٥-٦	٥٦	<p>٢- فالاحتياج هو سلعة وخدمات بينما الدخل هو القيمة المقدرة للإنتاج، إذا كان كل دينار يتم إنتاجه من قبل أي شخص بعد دخلا للشخص أو غيره فننقده الإنتاج التي يتم دفعها للأفراد لقاء مشاركتهم في العملية الإنتاجية، تمثل دخولهم، يتم إنفاقها في شراء السلع والخدمات عن الأسواق وهكذا تستمر عملية توليد الإنتاج والدخل مما يعني وجود تيارين مستمرين هما تيار (السلع والخدمات) و تيار (الدخول) أو (التيار السلبي) والتيار (البقوي)</p>	(٩) ٥ درجات



الأجوبة النموذجية للدراسة الإعدادية الفرع العلمي التطبيقي للعام الدراسي (٢٠١٩/٢٠٢٠)

الدور / الأول .....

اسم المادة / الاقتصاد .....

جواب السؤال (الرابع) الفرع (٥ - ٥)

الدرجة	الجواب النموذجي	الصفحة	السؤال
(٩) / ٦ زيارات	<p>٢- الوجه الأول :- لسلع والخدمات المنتجة خلال سنة واحدة، وهي متنوعة ومختلفة في سيارات، الآلات، البسة، والإقسطه، إلخ. العم، الحفر والته، والخدمات المنتجة، وهو الناتج القومي وهذه جميعها سلع غير مقياسه مما يهدر قياسها.</p> <p>الوجه الآخر: استخدام النقود كوحدة قياس للتجسير عن قيم السلع والخدمات المنتجة مقابل المجتمع خلال سنة واحدة أيه الدخل القومي ضرورياً منه الانتشار.</p> <p>(ولافضته: يُخبر الطالب بين إحدى الأبيات)</p>	٥٤١	٥- ٥





الأجوبة النموذجية للدراسة الإعدادية الفرع العلمي التطبيقي للعام الدراسي (١٤٠١٤ . ١٤٠٢)   
 علم المادة / الأقتصاد .....

الدور الأول .....


جواب السؤال (الخامس) الفرع ( ٢ )

السؤال	الصفحة	الجواب النموذجي	الدرجة	
١ / تبعاً لفلسفة النظام الاقتصادي فيها ٢ / لصعوبة السيطرة عليه ٣ / لما تشكلت من زيادة في الطاقة الإنتاجية وهو ما تدرى الى زيادة الدخل القومي وارتفاع متوسط نصيب الفرد منه وبالتالي تحسن مستوى معيشة المواطنين فضلاً عن توفير فرص عمل وتفعيل نسبة إعمال وزيادة معدلات التلويح الرأسمالي للدولة وتوفير النفقات المتعلقة مع الفيزياء والأدبيات والعمالة الماهرة وانتاج السلع والخدمات التي تشجعها مبادرات المواطنين والهدى الفعالة من الخارجه وهو ما يوفر العائد الأفضله للآزم لشراء الآلات والمعدات اللازمة لزيادة الانتاج من جديد.	٧٦ ص	١ / تبعاً لفلسفة النظام الاقتصادي فيها ٢ / لصعوبة السيطرة عليه ٣ / لما تشكلت من زيادة في الطاقة الإنتاجية وهو ما تدرى الى زيادة الدخل القومي وارتفاع متوسط نصيب الفرد منه وبالتالي تحسن مستوى معيشة المواطنين فضلاً عن توفير فرص عمل وتفعيل نسبة إعمال وزيادة معدلات التلويح الرأسمالي للدولة وتوفير النفقات المتعلقة مع الفيزياء والأدبيات والعمالة الماهرة وانتاج السلع والخدمات التي تشجعها مبادرات المواطنين والهدى الفعالة من الخارجه وهو ما يوفر العائد الأفضله للآزم لشراء الآلات والمعدات اللازمة لزيادة الانتاج من جديد.	٥ ٣ ١	
	٤ / لفرضه انتفاع الأثريان مع السلع والخدمات لأنتاجها تسري وتوقفت الطلب على السلع والخدمات لأغراض الاستهلاك على القدرة الشرائية التي يتمتع بها المستهلكين والمعب عنظ بالدخل ومستوى المعيار			٧٥ ص
				٧٣ ص
				٧٤ ص

الأجابة النموذجية  
عن تمام فهم تلك المفاهيم (١٠٠ درجات)








جواب السؤال ( الخامس ) الفرع ( م )

الدرجة	الجواب النموذجي	الصفحة	سؤال
	<p>في- تحديد أنواع البرامج والمهام ذات الأولوية ملائمة / اكتفى الطالب بذكر ستة من أهداف الموازنة العام .</p> <p>٢) الضيول :</p> <p>تعني الضيول قدرة المهرض على الأستمرار بالأيقاظ بإنجازاته المالية تجاه الموردين والأطراف المختلفة في الوقت المحدد أن يحتفظ المهرض بمستويات من الضيول يردده البنك المركزي كأن تكون (٠.٧٠) من الوديع وهذه تتغير تبعاً للبيانات الأقتصادية المقعدة، فأذا كانت الوصل الأقتصادية توصفه بأن البنك يخفف حجم الأقتصاد القانوي وهذا يعطى مرونة للمصارف بالتمتع بحجم ضيول أكثر، وعلى العكس أذا كانت البيانات ذات طابع أنماهي غات الأقتصاد القانوي يتم رفض الـضويات ألك مما يقلل من مرونة المصارف</p>	٦٦	تكملة السؤال (٥)





الأجوبة النموذجية للدراسة الإعدادية الفرع العلمي التطبيقي للعام الدراسي ٢٠١٩/٢٠٢٠ م

اسم المادة / ..... الأقتصاد .....  
الدور / ..... الأول .....

جواب السؤال ( الأول ) الفرع ( ٢ )

السؤال	الصفحة	الجواب النموذجي	الدرجة
٦٧ فرع ٢	٥٧	<p>١- آثار التضخم</p> <p>أ- كما سرت تضخم على إقدرة لتنافسية لتجارة البلد تجاربه. أي ضعف تنافسية بلع بمصدرة مما يؤدي إلى انخفاض لصادرات، وبها صبه ارتفاع عتبه لإواردات.</p> <p>ب- يؤدي لتضخم إلى ارتفاع تكاليف لمستهة مما يؤدي إلى ضعف لإدخارات لمجالية للبلد.</p> <p>ج- كما سرت تضخم بسور توزيع لرغل بين أفراد المجتمع، مما يؤدي إلى اختفاء لفضراء وانخفاض الأعباء، وهذا ما يحلفا تباين طبعي واضح في المجتمع.</p> <p>د- بكل لتضخم مثله كبرن بالمعاملات المالية وقياسه بالديون، فمن كل لتضخم يصبح لإيقار بالديون أقل مكلفه، لأن لتضخم تحسرس لحي من قيمتها.</p>	( ٢ )



أجوبة النموذجية للدراسة الإعدادية الفرع العلمي التطبيقي للعام الدراسي ( ٢٠١٩ / ٢٠٢٠ )

اسم المادة / ..... الاقتصاد

الدور / ..... الأول

جواب السؤال ( الكرس ) الفرع ( ٠٦٢ )

السؤال	الصفحة	الجواب النموذجي	الدرجة
سؤال ٦ نوع ٢	٦١	<p>١- خصائص لتعود</p> <p>٢- الصبولة لعام من تجرود باعتبارها اوم لتبادل السلع والخدمات في السوق</p> <p>٣- قدرتها على ترجمة قيم السلع والخدمات الى مئة نقدية</p> <p>٤- سهوله خزنها واعادة استخدامها للاحقا</p> <p>٥- مئتها بسهوله الحمل وعدم لقلبية للتلف بسهوله نقلا عن قابلية تجزئتها وعبادتها</p>	٨ درجات ( اجبي من واحد )
سؤال ٦ نوع ٦	٦٨	<p>الاستخدام ( لتشفيل )</p> <p>ليأخذ لانفاق لعام على تومر ضرره عمل هدمه مما يرفع من مستوى الاستخدام في الاقتصاد</p> <p>تبعاً لحجم هذا الانفاق ، اذا ان هذا الانفاق سوف يترتب عليه تشغيل افراد بصورة مستمرة كما في سياسات التشغيل العامة ، او بصورة غير مباشرة عن طريق طلب الحكومة على بعض السلع والخدمات ، لتولع الخاضع له كونهما يترتب عليه زيادة الطلب على هذا الإنتاج غير ( استغنى )</p>	( ٨ درجات )





الأجوبة النموذجية للدراسة الإعدادية الفرع العلمي التطبيقي للعام الدراسي ( ٢٠١٩ / ٢٠٢٠ )

الدور / الأول

اسم المادة / الاقتصاد

جواب السؤال ( الأول ) الفرع ( )

السؤال	الصفحة	الجواب النموذجي	الدرجة
١٠ ١٠٠	٢٢	<p>دوافع لإدخار</p> <p>الذميمة الأولى</p> <p>القدرة لإدخارية: هي قدرة الفرد على توفير جزء من دخله من أجل المستقبل كما هو متدد بالفرد بين حكم الفرد وحكم الإنفاق كما أنه يتوقف أنفاق الفرد على أسلوب عيشه.</p> <p>الذميمة الثانية</p> <p>الرغبة لإدخارية: هي ما له نفسه تربية تقوى وتضعف تبعاً للدوافع التي تدعو للإدخار، ومقدار تأثير الفرد والضغوط الاجتماعية بهذه الدوافع، التي قد أهمها الرغبة في تنظيم إنفاقه والرغبة في تغيير مستوى عيشه.</p>	٢



# الاجوبة النموذجية 2020

## الدور الثاني



حمل الاجوبة النموذجية لجميع المواد  
عبر الباركود

موقع ملازمنا  
[WWW.MLAZEMNA.COM](http://WWW.MLAZEMNA.COM)



ملاحظة : أجب عن خمسة أسئلة فقط ولكل سؤال ٢٠ درجة .

( ٨ درجات )

س ١ : أ) اختر الإجابة الصحيحة من بين الأقواس :

- ١) الربح هو نوع المكافئة لعنصر ( العمل ، رأس المال ، الموارد الطبيعية والأرض ) .
  - ٢) السلع الأساسية والضرورية للحياة هي ( الغذاء والملبس ، الأثاث والسيارة ، التعليم والصحة ) .
  - ٣) البطالة التي تنشأ بسبب التغيرات الديناميكية للاقتصاد هي البطالة ( الاحتكاكية ، الهيكلية ، المتنعة ) .
  - ٤) المقايضة تعني مبادلة ( سلعة بنقود ، سلعة بسلعة ، قمح بنقود ) .
- ب) في اقتصاد دولة ما كانت قيم إنتاج السلع والخدمات المنتجة والتي بينها حسابات الدخل خلال سنة واحدة كما مدون أدناه ، احسب قيمة الناتج القومي الإجمالي بطريقة الإنفاق .

( ٦ درجات )

البند	المبلغ ( مليون دينار )
إنفاق العائلات	٢٠٠
نفقات الحكومة	٢٠٠
الإنفاق الاستثماري	١٨٠
الصادرات	١٢٠
الواردات	١٠٠

( ٦ درجات )

ج) أجب عن واحد مما يأتي :

- ١) عائدات الموارد الطبيعية والتعدين من أهم مصادر الإيرادات العامة ، وضح ذلك .
- ٢) وضح مفهوم : ( المصارف الإسلامية ) .

( ٨ درجات )

س ٢ : أ) ارسم نموذج مبسط للتدفق الدوري .

- ب) موظف يحصل على راتب صافي بعد الاستقطاعات الضريبية ، أي أن الدخل المتاح له ( ٦٠٠٠٠٠ ) ستمائة ألف دينار شهرياً ، وكان ميله الحدي للإستهلاك هو ( ٨ ، ٠ ) ، فما مقدار الاستهلاك والإدخار ؟

( ٦ درجات )

( ٦ درجات )

ج) أجب عن واحد مما يأتي :

- ١) عدد طرق التحليل الاقتصادي
- ٢) اذكر ثلاثة فقط من العوامل المؤثرة على الناتج القومي .

( ٩ درجات )

( ٦ درجات )

( ٥ درجات )

- س ٣ : أ) عرف ثلاثاً مما يأتي : البطالة ، الدخل السنوي للأسرة ، المالية العامة ، الحساب المزدوج .
- ب) ميز بين أدوات السياسة المالية وأدوات السياسة النقدية .

ج) أجب عن واحد مما يأتي :

- ١) عدد فقط أنواع الاستثمار من حيث الهدف .
- ٢) ما مفهوم البطالة المقنعة ؟ وما طرق معالجتها ؟

( ٨ درجات )

س ٤ : أ) أكمل العبارات الآتية بما يناسبها :

- ١) لكل موازنة عنصرين أساسيين هما الإيرادات العامة و .....
- ٢) من أمثلة دراسة الاقتصاد على المستوى الكلي والتي تهتم المجتمع الطالب الكلي و ..... الكلي .
- ٣) الدخل يمكن تقسيمه إلى قسمين هما الدخل الشخصي و .....
- ٤) يؤدي الارتفاع في المستوى العام للأسعار إلى انخفاض .....

( ٦ درجات )

( ٦ درجات )

- ب) هناك تيارين أحدهما للسلع والخدمات والآخر تيار نقدي وبمرحلتين ، وضح ذلك .

ج) أجب عن واحد مما يأتي :

- ١) ما مفهوم مرحلة النقود المعدنية المسكوكة .
- ٢) وضح مفهوم قوة العمل ( القوى العاملة ) .

( ٩ درجات )

س ٥ : أ) علل ثلاثاً مما يأتي :

- ١) تمثل البطالة أحد التحديات الكبرى التي تواجه بلدان العالم .
- ٢) في مرحلة الانتعاش ، يبدأ الاقتصاد بالنمو البطيء .
- ٣) لا تستطيع الأسعار في ظل التضخم المكبوت أن ترتفع .
- ٤) يُعد الإدخار الداعم الأساسي لدفع عملية التنمية الاقتصادية .

- ب) في دولة ما ، كانت قدرة الاقتصاد على خلق الوظائف الجديدة ( فرص العمل ) في عام ٢٠١٥ ( ٢٠٠ ) ألف فرصة عمل ، وكان معدل نمو قوة العمل ٢ ، ١ / ٪ سنوياً ، وعدد سكان البلد ( ٢٣ ) مليون نسمة ، احسب حجم البطالة لهذه السنة .

( ٦ درجات )

( ٥ درجات )

ج) أجب عن واحد مما يأتي :

- ١) البنوك المركزية من أهم أنواع المصارف ، وضح ذلك ..
- ٢) ما مفهوم الأمان ؟


( ٨ درجات )

س ٦ : أ) أجب عن واحد مما يأتي :

- ١) ما طرق معالجة التضخم ؟
- ٢) هناك مجموعة من التعريفات للاستثمار ، اذكرها بالتفصيل .

( ٧ درجات )

ب) الإنتاج من أهم الآثار الاقتصادية للتنمية ، وضح ذلك .



الأجوبة النموذجية للدراسة الإعدادية الفرع العلمي التطبيقي للعام الدراسي (١٩٠٩ / ١٩٠٩)

اسم المادة / الإختصار ..... الدور / الشاخصب .....

جواب السؤال ( الأول ) الفرع ( آ )

الدرجة	الجواب النموذجي	الصفحة	السؤال
لكل نقط درجتان المجموع (١٧) درجات	١ / الموارد الطبيعية والأرض ٢ / الغذاء والملابس ٣ / الهيكلية ٤ / سلعة بساعة	٧٥ ٧٤ ٧٤ ٧٤	
٦ درجات	فرع / ب / س الدخل القومي الأجمالي = الأتفاق الأستهلاكي + الأتفاق الأستثماري + الأتفاق الحكومي + صافي المعاملات الخارجية (الموارد - الواردات) الدخل القومي الأجمالي = ٢٠٠ + ١٨٠ + ٢٠٠ = (١٠٠ - ١٢٠) = ٦٠٠ مليون دينار	٧٤	١ -
٧ درجات	فرع / ب / أ / أجيب عن واحد : موايب (١) تتمثل بما تحصل عليه الحكومة من موارد مالية من المصادر الطبيعية ذات الملكية العامة ومن أهمها النفط والغاز والمعادن الثمينة كالذهب والفضة والبحاس وغيرها من الموارد كما الفحم الحجري وفي العراق تأتي معظم الأيرادات العامة من إنتاج وبيع النفط وهذا هو مصدر التمويل الرئيس للموازنة العامة للدولة.	٧٥	






الأجوبة النموذجية للدراسة الإعدادية الفرع العلمي التطبيقي للعام الدراسي ( / )

اسم المادة / ... الأقتصاد ..... الدور / الشاخص .....

جواب السؤال ( الأول ) الفرع ( ج )

الدرجة	الجواب النموذجي	الصفحة	السؤال
7 درجات	<p>جواب (٢) فرع / د / المصارف الإسلامية ! وهي المصارف التي لا تتعامل بالفائدة بأعبارها ربا محرّم وفقاً للشريعة الإسلامية وتخصّر تعاملاً لها صنفت الأطوار الشرعية الإسلامية الذي يعوم على مبدأ ( الغنم بالغرم ) أي أن كل ربح قد يقابل بخسارة ، ولا وجود لأرباح مضمونة بنسبة معينة من رأس المال</p>	٧	3

الأستاذ  
أحمد محمد بن لادن




الأجوبة النموذجية للدراسة الإعدادية الفرع العلمي التطبيقي للعام الدراسي ( ١٩٠١٩ / ٢٠٠٢ )

اسم المادة / الأمتصاص ..... الدور / الخائب .....

جواب السؤال ( الخائب ) الفرع ( آ + ب )

السؤال	الصفحة	الجواب النموذجي	الدرجة
١١	١١	<p> <p>(نموذج مبسط للتدفق الدوري).</p> <p>جواب فرع آ / ب / ج</p> <p>الاستهلاك = الدخل × الميل الحدي للاستهلاك</p> <p>الاستهلاك = ٦٠٠ / ١٨</p> <p>الاستهلاك = ٤٨</p> <p>بما أن الدخل = الأضرار + الاستهلاك</p> <p>الأضرار = الدخل - الاستهلاك</p> <p>الأضرار = ٦٠٠ - ٤٨</p> <p>الأضرار = ١٢٠</p> </p>	٨ درجات
١٢	١١	<p> <p>(نموذج مبسط للتدفق الدوري).</p> <p>جواب فرع آ / ب / ج</p> <p>الاستهلاك = الدخل × الميل الحدي للاستهلاك</p> <p>الاستهلاك = ٦٠٠ / ١٨</p> <p>الاستهلاك = ٤٨</p> <p>بما أن الدخل = الأضرار + الاستهلاك</p> <p>الأضرار = الدخل - الاستهلاك</p> <p>الأضرار = ٦٠٠ - ٤٨</p> <p>الأضرار = ١٢٠</p> </p>	٨ درجات





الأجوبة النموذجية للدراسة الإعدادية الفرع العلمي التطبيقي للعام الدراسي (١٩٠٩/٢٠٠٢)


اسم المادة / الإختصاص ..... الدور / الشاخص .....

جواب السؤال ( الثاني ) الفرع ( ج )

الدرجة	الجواب النموذجي	الصفحة	السؤال
١	١ / الطريقة الوصفية ، الطريقة البيانية ٣ / الطريقة الرياضية .	٨	٢ ٣ ٤ ٥
٢	١ / الأستقرار السياسي والأمني للبلد لأن كلهما يؤمنان بيئة محفزة وداعمة للنشاط الأقتصادي ٢ / قدرة المجتمع على توفير الأماكن المقامة لسرعة موارد وافية وبشرية فعالة عن التكنولوجيا وفنون الإنتاج المرتبطة للوصول الى الأستخدام الأمثل لهذه الأماكن ٣ / القدرة البشرية المتوفرة في المجتمع ، من حيث التعليم والتدريب ٤ / الظروف الطبيعية ، التي لن يكون بمقدور البشر السيطرة عليها وتهددها التوارث الطبيعية من مثل الأعاصير والزلازل والفيضانات - الخ وهذه تؤثر على مستوى النشاط الأقتصادي ،	٩	١ ٢ ٣ ٤ ٥

الدرجة  
١  
٢  
٣  
٤  
٥






الأجوبة النموذجية للدراسة الإعدادية الفرع العلمي التطبيقي للعام الدراسي ( ١٩ / ٢٠٠٠ )

الدور / ..... المدة

اسم المادة / الاقتصاد

جواب السؤال ( ٣ ) الفرع ( ٢ )


الدرجة	الجواب النموذجي	الصفحة	السؤال
١٩ درجات لكل تعريف	البطالة التوقف الاعياري بجزء من القوى العاملة الاقتصاد عن العمل مع جهود الرقابة لعدة اشهر.	٤٤	٢ ٣
(٢) درج	او ذلك الفرد الذي يكون في سن العمل (فئة عمرية عاشه ١٨-٦٤) وهو قادر على العمل واثبت فيه يجب عنه عند مستوى الاجر لانه لانه لا يوجد له	٤٧	
الإجابة ٣ ٢ ٤	المدخل السنوي للائحة هو المبلغ التقديري الذي تقدر الفرد او العائلة من تأميمه من خلال بأنشطة معينة خلال مدة منه مادة.	٤٧	
	هالوية إمامة هو علم الذي يدرس النشاطات المالية، مكنونته المطلقة تقديرهم الاموال المطلوب اتفاق الايجاب كحاجات العامة او كيفية المصرفية واتقارها بكفاءة وناملية.	٧١	
	الحساب المزدوج هو حساب المعتمات بواسطة وتكرارها مرتين مثل حساب قيمته انكسار او ليسه اكثر من مرة في صناعة الجيد.	١٥	



## جواب السؤال ( ٣ ) الفرع ( ف )

الدرجة	الجواب النموذجي	الصفحة	السؤال
(٦١) درهم	السيارة إلكترونية، لا تصادم بكروي ولمنوعات التحويل فقبل أن تصدم لهذا الكروي برسم . أما السيارة لتقديرها، استقرار قيمتها لعملية الإستهلاك المتأخر.	٣٦	س١
(٥٥) درهم الإجابة مع نقطة واحدة	(١) لا استثمار في رأس المال لتبني (الموجودات الثابتة) ب- الاستثمارات الاجتماعية (العامة مكانها) ج- الاستثمار في رأس المال البشري د- الاستثمارات المالية من لتقديرها هـ- التصدير في المحفوفات	٣٧	س٢
	(٢) ثبات البطالة المطلقة في حالات التي يكون فيها عدد العمال المشغولة يفوق الحاجة الفعلية للعمال مما يعني وجود عمالة فائضة لا تسبق شيئاً تقريباً حيث إن الإنتاج إذا ما اجتمعت من أماله عمال ذات حجم المطالبة :- اعتماد خيار الحاجة الحقيقية للتوظيف العاملة وربط الأجر بالعاقد وتأهيل العمالة الفائضة للعمل في أعمال أخرى.	٤٥	س٣





الأجوبة النموذجية للدراسة الإعدادية الفرع العلمي التطبيقي للعام الدراسي (٢٠١٩ / ٢٠٢٠)

الدور / النتائج


اسم المادة / الإقتضاء التحققي

جواب السؤال (الرابع) الفرع (٢ - )

الدرجة	الجواب النموذجي	الصفحة	السؤال
(٨) درجات لل فراغ درجتان	١- <u>النضقات العامة</u>	١٤٦	٤٣
	٢- <u>العرضا التكري</u>	١٥٥	٤٤
	٣- <u>الدخل المتاح</u>	١١٨	٤٥
	٤- <u>الحفاظا القوة الشرائية للأفراد</u>	١٤٨	٤٦

الأستاذ  
أحمد محمد  
أحمد محمد





الأجوبة النموذجية للدراسة الإعدادية الفرع العلمي التطبيقي للعام الدراسي (٢٠١٩ / ٢٠٢٠)


الدور / الثاني

اسم المادة / الاقتصاد التكميلي

جواب السؤال (الخروج) الفرع (ب - ب)

الدرجة	الجواب النموذجي	الصفحة	السؤال
(٦) درجات	<p>ب - المرحلة الأولى: سوق عناصر الإنتاج ( العمل - الأرض - رأس المال - التنظيم )</p> <p>افراد → سوق عناصر الإنتاج ←</p> <p>مولد الأجر - لربح - لقائدة - لربح</p> <p>المرحلة الثانية: سوق السلع والخدمات الدخول (صافيات عناصر الإنتاج)</p> <p>افراد → سوق السلع والخدمات ←</p> <p>سلع وخدمات</p> <p>وهناك اجابة أخرى للسؤال هي :- يقوم قطاع الافراد (العائلي او المستهلكين) بعرض عناصر الإنتاج ( العمل - الأرض والموارد الطبيعية - رأس المال - التنظيم ) الى قطاع الإنتاج في سوق عناصر الإنتاج ، يدفع القطاع الإنتاجي (الشركات) (عوائد او صافيات) مقابل استئجار عناصر الإنتاج فالعمل يحصل على (الأجر) والأرض تحصل على (الربح) ورأس المال يحصل على (القائدة) والتنظيم على (الربح) -</p>	٣٣	٤٣

الإجابة النموذجية



الأجوبة النموذجية للدراسة الإعدادية الفرع العلمي التطبيقي للعام الدراسي ( ٢٠١٩ / ٢٠٢٠ )

اسم المادة / الاقتصاد السجيفي الدور / الثاني

جواب السؤال ( الرابع ) الفرع ( - ب - )

السؤال	الصفحة	الجواب النموذجي	الدرجة
عس	عنا	يُقوم القطاع الانتاجي باستخدام عناصر الانتاج في إنتاج السلع وخدمات نهائية ويوفرها في سوق السلع والخدمات، يقوم الأفراد باتفاق الدخول التي حصلوا عليها من مشاركتهم في الإنتاج على شراء السلع والخدمات.	(٦) درجات
		ملاحظة) يُخير الطالب بين إحدى الإجابتين	

الأستاذ  
أحمد محمد بن كحل





الأجوبة النموذجية للدراسة الإعدادية الفرع العلمي التطبيقي للعام الدراسي (٢٠١٩ / ٢٠٢٠)

اسم المادة / الاقتصاد / لتبيني / الدور / الثاني

جواب السؤال (الرابع) الفرع (٢ - ٢ - )

الدرجة	الجواب النموذجي	الصفحة	السؤال
(٦) ٦ درجات	<p>١- نَحْرًا لِلتَّحَوُّرِ الْكَبِيرِ الَّذِي شَهِدَتْهُ الْمَجْتَمَعَاتُ وَظُهُورِ السُّلْطَاتِ الْعَامَّةِ، فَقَدْ بَدَأَ تَدْخُلُ لِهَذِهِ السُّلْطَاتِ فِي عَمَلِيَّاتِ الْبَيْعِ وَالشِّرَاءِ وَدَفْعِ النُّقُودِ وَفِي أَجْلِ الْكِفَايَةِ عَلَى سَرَفَةِ الْمَجْتَمَعَاتِ وَالْقَضَاءِ عَلَى عَمَلِيَّاتِ الْفَتْشِ وَالْتَرَاغِبِ، بِجِئَتْ لِهَذِهِ السُّلْطَاتِ فِي عَمَلِيَّةِ سَكِّ الْمَادَنِ بِأَرْزَانِ مَحْدُودَةٍ وَلَوْعِيَّاتِ وَقْتِهَا بِاحْتِمَاكِ ضَائِقَةٍ دَخَانِ اسْتِقْدَامِهَا بِصُرَّةِ آفَتِهِ مِنْ قَبْلِ الْجَمِيعِ، وَبِذَلِكَ شَهِدَتْ لِتَقْوَدِ الْعَدَّةِ الْمَسْلُوكَةِ مِنْ ذَهَبٍ وَفِضَّةٍ وَخَاسِ بِهَرَبِيَّةِ قَائِلِهِ لِلْهَدِّ وَالسِّيَادِ بِصُرَّةِ أَوْفُضِلْ لِقَائِلَتِهَا عَلَى الْحَلِّ وَالْكَفْظِ وَالْحَرْنِ سِيَهُولَةٍ.</p>	٦٣	٤٣
(٦) ١٧ درجات الاجابة عن فرع فقط	<p>٢- قُوَّةُ الْعَمَلِ ( الْقَوَى الْعَامِلَةُ ) : قُوَّةُ الْعَمَلِ الْمَجْمُوعِ فَالْحِي عَدَدُ السُّلْطَانِ الْقَادِرِينَ عَلَى الْعَمَلِ وَالرَّاعِيَيْنِ قِيَّةً، وَالذَّالِكُ يَكُونُونَ فِي كَيْفِيَّةِ وَهَيْئَةٍ أَمَا عَامِلِيَيْنِ فَصَلِيَيْنِ أَوْ عَامِلِيَيْنِ عَنِ الْعَمَلِ فِي بَدَائِيَّةِ مَرَحَلَةِ الشِّيَابِ إِلَى عَسْرِ التَّقَاعِدِ وَمِنْ الْمَقَارِفِ عَالِيَةٍ دَوْلِيَّةً أَوْ عَامِلِيَّةً هُوَ (١٥-٦٤) أَوْ سَنِ الْقُدْرَةِ عَلَى الْعَمَلِ أَيَّ سَنِ الدَّخُولِ وَالْحَزْوِجِ مِنْ سَوِيَّةِ الْعَمَلِ.</p>	٤٣	٤٣





الأجوبة النموذجية للدراسة الإعدادية الفرع العلمي التطبيقي للعام الدراسي ( ١٩٠٠ / ٢٠٠١ )

اسم المادة / الإقتصاد .....  
الدور / الثاني

جواب السؤال ( الحاف ) الفرع ( ١٩ )

الدرجة	الجواب النموذجي	الصفحة	السؤال
(٨) / ابحاث	<p>تمثل البطالة إحدى لقضايا الكبرى التي تواجه بلدان العالم سواء كانت نامية أم متقدمة نتيجة لانخفاض اوقصادها و لايتها على نسبة م السياسية و الاقتصادية الخيرية .</p> <p>نشيت الحفاهد سحر لغايرة وتصاذلك بالمتمرون السلي و تن ايد الاستثمارات .</p> <p>وهوود القنودر ككوميك بحيا حرة بلنقارة بل رخ الاقتصاد على البعير الاصلية و نظام البعارة التوئية .</p> <p>عده طريق تحويل لإدوار لوطني بلن استثمار م لامستار برونه بعد كعقل البامل بل الاستداع و بالناك كقصو عليه التتموت و لبقول لإقتصادي و زيادة عدلات ارفا صحت بل المجتمع</p> <p>الاربابك عن <u>فعل</u></p> <p>(٤) و رجا <u>فعل</u> نك تقفه</p>	<p>٤٦ ١١</p> <p>(٤) ٥٧</p> <p>٣٣ ٣٤</p> <p>٢١ ٤٤</p>	<p>س ٥ ٥</p>

الإستاد  
المفتي  
المفتي







الأجوبة النموذجية للدراسة الإعدادية الفرع العلمي التطبيقي للعام الدراسي ( ١٩٨٠ / ٨٠ )

اسم المادة / ١. الاقتصاد ..... الدور / ١. الثاني


جواب السؤال ( ١٣ ) الفرع ( ٥ )

الدرجة	الجواب النموذجي	الصفحة	السؤال
(٥) ٥ درجات	وهي البنوك المسؤولة عن عملية الإصدار النقدي ومراقبة عمليات الائتمان وإدارة السياسة النقدية للدولة، ويسمى البنك المركزي ببنك الدولة، أو بنك الحكومة. وهو المال سلطة نقدية في الدولة، وهو المسؤول الوحيد عن عملية إصدار النقود، وسيلح المالك الأجنبي المصروف في الدولة للحصول على ليرة عند الحاجة، إن بنك المركزي ببنك فتح الهم في بلداننا العربية لدى دولة وذلك للوظائف التي تؤديها وإرهاك التي يقوم بها.	١١	١٣

٥ درجات فقط

الخبر  
١٣/٨/٨٠  
١٣/٨/٨٠





الأجوبة النموذجية للدراسة الإعدادية الفرع العلمي التطبيقي للعام الدراسي (٢٠١٩ / ٢٠٢٠)

اسم المادة / ..... الامتحان ..... الدور / ..... الثاني

جواب السؤال (١٠١ ص) الفرع (ع)

الدرجة	الجواب النموذجي	الصفحة	السؤال
١٠	<p>الإمام تقي زينه، كما طبع أعماله الموعظة، من لبي تقم على كل قرة من الإلهام المشاع، والتأكد من أمانته سادها وعم الاستثمار في فاع ذات مستويات عاهرة مرتفعة، وكما هو الحال مع لولة فاه الإمام جيد قديراً على يعرف أكثر في كونه هوداً بحد ذاته</p> <p>(٥) ر.ب. ص</p> <p>والله اعلم</p>	٦٧	٤



الأجوبة النموذجية للدراسة الإعدادية الفرع العلمي التطبيقي للعام الدراسي ( / )


اسم المادة / الإقتصاد ..... الدور / الثاني .....

جواب السؤال (السادس) الفرع ( ٦ )

الدرجة	الجواب النموذجي	الصفحة	السؤال
٨ درجات	<p>أجب عن واحد مما يأتي .</p> <p>١- اعتماد سياسة نقدية تتسم بالهرم والتقييد لمرض النقد مما يجعل كتلة النقود المتداولة محدودة .</p> <p>ب- اعتماد سياسة مالية متشددة تتمثل بزيادة حجم الضرائب على الدخل المترفعة عن نسبة ٥٠ ونقص الإنفاق الحكومي من غير الموجهة إلى الخدمات العامة .</p> <p>ج- بيع البندات الحكومية إلى الأفراد والمؤسسات عن أجل سحب السيولة النقدية لمرض نقص الطلب الكلي في الإقتصاد .</p> <p>د- اعتماد سياسة إقتصادية تساهم بزيادة الإنتاج والمرض السلبي والخدمات وتقلل من الإشتغال الفردي .</p>	٥٢ ص	٦ ب

الأستاذة  
ليلى عيسى





الأجوبة النموذجية للدراسة الإعدادية الفرع العلمي التطبيقي للعام الدراسي ( ٢٠١٩ / ٢٠٢٠ )


اسم المادة / الإقتصاد ..... الدور / الثاني .....

جواب السؤال ( ) الفرع ( ١ )

السؤال	الصفحة	الجواب النموذجي	الدرجة
١	٦٦	<p>تكملة السؤال الثاني - تعاريف الإلتها</p> <p>٥</p> <ul style="list-style-type: none"> <li>• هو التوجيه بمنفعة عالية يمكن تحقيقها عند إنتاج أمثلاك حالي، وذلك بقصد الحصول على منفعة مستقبلية أكبر يمكن تحقيقها من إنتاج أمثلاك مستقبلية.</li> <li>• هو الإنفاق على السلع الرأسمالية (الآلات والمعدات) من قبل القطاع العام (الكومف) والقطاع الخاص (الشركات) بغرض زيادة إنتاج السلع الإستهلاكية والخدمات في فترات زمنية مستقبلية.</li> <li>• إضافة طاقات إنتاجية جديدة إلى الطاقات الإنتاجية الموجودة في المجتمع، من خلال إنشاء مشروعات جديدة أو التوسع في المشروعات القائمة أو إصلاح أو تجديد مشروعات انتهت عمرها الافتراضي.</li> <li>• أي استخدام للموارد بهدف إلى زيادة الدخل أو زيادة كمية الإنتاج في المستقبل.</li> </ul>	٨ درجات

الأستاذ  
البرفندير بن محمد





الأجوبة النموذجية للدراسة الإعدادية الفرع العلمي التطبيقي للعام الدراسي (٢٠١٩ / ٢٠٢٠)

اسم المادة / الإقتصاد .....  
الدور / الثاني .....

جواب السؤال (الادس) الفرع (ب)

الدرجة	الجواب النموذجي	الصفحة	السؤال
٧ درجات	<p>الإنتاج / من أولى اهتمام الدولة هو الإلتحاق على توفير الإستقرار والأمن وسيادة القانون وهذه العوامل مجتمعة توفر بيئة داعمة للمنتجين على زيادة الإنتاج والقيام بالاستثمارات، ومن دون ذلك لا يمكن لأصحاب المشروعات الإطمئنان على سلامة ملكيتهم الخاصة.</p>	٧٨ ص	٦

التستاد  
المعتمد  
للمعتمدين



الأجوبة النموذجية للدراسة الإعدادية الفرع العلمي التطبيقي للعام الدراسي (٢٠١٩ / ٢٠٢٠)

الدور / الثاني

اسم المادة / الاقتصاد

جواب السؤال (الادرس) الفرع (ج)

الدرجة	الجواب النموذجي	الصفحة	السؤال
٥ درجات	<ul style="list-style-type: none"> <li>أ - مستوى الدخل .</li> <li>ب - مستوى الأسعار .</li> <li>ج - أمتعة - العملة .</li> <li>د - جدول الفائدة .</li> <li>هـ - الموقع الاجتماعي .</li> </ul>	٢٢	٦

الأستاذ  
عبد الحكيم محمد



# الكاملة للاجوبة النموذجية

