

الأجوبة النموذجية

الدور التمهيدي

— 2023 م —

الاجتماعيات

— الثالث المتوسط —





ملاحظة : الإجابة عن خمسة أسئلة فقط ، ولكل سؤال (٢٠) درجة .

س ١ : عرف خمساً مما يأتي :
النبات الطبيعي ، المياه الجوفية ، التركيب النوعي للسكان ، جالديران ، العقداء الأربعة ، حقوق الإنسان

- س ٢ : (أ) أملأ الفراغات بما يناسبها لخمس من العبارات الآتية :
- (١) يُعدّ إقليم أوسع الأقاليم المناخية في العراق من حيث المساحة .
 - (٢) تشغل المنطقة المتموجة نحو % من مساحة العراق .
 - (٣) من المحاصيل الصيفية تُعدّ غذاءً للسكان ومادة أولية في صناعة الزيوت النباتية .
 - (٤) تتركز صناعة الزجاج في محافظة
 - (٥) وقعت معركة بين الثوار والقوات البريطانية في منطقة الرستمية بين الحلة والكفل .
 - (٦) هي شعور متبادل يعبر عن الإيمان بصدق الآخرين وأمانتهم وإخلاصهم .
- (ب) اكتب عن نهر دجلة من المنبع حتى دخوله الأراضي العراقية ، وما اسم أول روافده داخل العراق ؟

- س ٣ : علل خمساً مما يأتي :
- (١) تعاني منطقة السهل الرسوبي من صعوبة كبيرة في تصريف المياه .
 - (٢) انعدام سقوط الأمطار في فصل الصيف .
 - (٣) ارتفاع معدلات النمو السكاني في العراق .
 - (٤) تُعد ثورة العشرين في العراق حدثاً مهماً في تاريخه المعاصر .
 - (٥) دعت بريطانيا عام ١٨٥٧م إلى مد سكة حديد الفرات .
 - (٦) سعت جميع الأمم والمجتمعات إلى الاهتمام بالعلم والمعرفة .

- س ٤ : (أ) ارسم خريطة العراق موضحاً عليها نهري دجلة والفرات ، ثم عيّن عليها ثلاثة من المواقع الآتية :
- إقليم مناخ السهوب ، السهل الرسوبي ، مصفى الدورة ، هور الحمّار .
- (ب) عدّد خمساً من الإصلاحات التي قام بها الوالي (مدحت باشا) في العراق .


- س ٥ : (أ) اكتب كلمة (صح) أمام العبارة الصحيحة وكلمة (خطأ) أمام العبارة غير الصحيحة لكل مما يأتي :
- (١) مد سكة حديد (برلين – بغداد) يُعدّ هدفاً توسعياً لبريطانيا في ممتلكات الدولة العثمانية .
 - (٢) تتميز طرق النقل البرية بأنها الأوسع انتشاراً والأكثر طولاً .
 - (٣) ترتبط السياحة البيئية بالأماكن الدينية .
 - (٤) القيم الاجتماعية هي مجموعة من المبادئ الفطرية المكتسبة التي تحدد تعامل الفرد مع غيره .
 - (٥) فرض الانتداب البريطاني على العراق وسوريا ولبنان بعد مؤتمر سان ريمو .
- (ب) لماذا يوصف الاقتصاد العراقي بأنه (اقتصاد أحادي الجانب) ؟ وما الخصائص الأساسية لتجارة العراق الخارجية ؟

- س ٦ : (أ) (من نتائج الحكم العثماني في العراق تزايد المعارضة العراقية ضد العثمانيين) .
وضّح هذه العبارة معززاً إجابتك بأبرز الانتفاضات .
- (ب) أجب عن أولاً أو ثانياً :
- أولاً : عدّد أهم مشاريع السيطرة والخزن المقامة على نهر الفرات .
- ثانياً : عدّد خمسة من المطارات الدولية في العراق .





الأجوبة النموذجية للدراسة المتوسطة للعام الدراسي ٢٠٢٢ / ٢٠٢٣ الدور التمهيدي



المادة / الإبتحائيات


اليوم :- الأربعاء

التاريخ :- ١٨ / ٤ / ٢٠٢٣

الدرجة	الجواب النموذجي	الصفحة
كل تقريباً ٤٠	ملاحظة :- اجابة عن حسن تعاريف فقط	٥٥
	١- النباتات الطبيعية :- وهي النباتات التي يتواجدون تدخل الانسان في انباته	٥٤ ٥٦
	٢- المياه الجوفية :- وهي المياه التي توجد في باطن الارض وتظهر على السطح اما بصورة طبيعية كالينابيع والعيون او بتدخل الانسان كما يستخرجها بالآبار	٥٤ ٥٥
	٣- التركيب النوعي للسكان :- ويقصد به تقسيم السكان الى أنثى وذكور وأجاء وانسبة بينهم ويتبع حساب من خلال حساب عدد الذكور الى كل مئة من الانثى	٥٩ ٥٥
	٤- جالديران :- وهي الحركة التي دارت بين لدولة الصفهانية بقيادة السلطان (سليمان الاول) وامكانها ام بين لدولة الصفوية واحتمالاً مدينة تبريز عاصمة الدولة الصفوية	٥٨



الأجوبة النموذجية للدراسة المتوسطة للعام الدراسي ٢٠٢٢ / ٢٠٢٣ الدور التمهيدي




المادة / الاجتماعيات

اليوم :- الاربعاء

التاريخ :- ٢٠٢٣ / ٧ / ٨

الدرجة	الجواب النموذجي	الصفحة
١٣٠ ٥٣	٥- العقداى الاربعة وهم العقداى الذين قضوا زيج الجيش العراقي في الحرب العالمية الثانية الى جانب القوات البريطانية وهم كل من صلاح الدين القواع ومحمود سلمان وفهمى اسعد فكاملت شيت (وقد نفذ عليهم حكم الاعدام) جميعا كهدف من حركة مايس عام ١٩٤١م	١٤٧ ٥٣
١٤٧ ٥٣	٦- حقوق الانسان هي مجموعة من الجوانب الاخلاقية او المعايير الاخلاقية التي تمنى السلوك البشرى والذي يتفرغ مجموعة من الحقوق الاساسية التي لا يجوز المس بها وهي صفة واقعية لكل شخص بغض النظر عن الهوية والايه او الاصل العرقي	



المادة / الاجتماعيات

اليوم :- الاربعاء

التاريخ :- ١٨ / ٤ / ٢٠٢٣

الدرجة	الجواب النموذجي	الصفحة
درجتان	ملاحظة الإجابة عن نفس فراغات فقط	
درجتان	١- المناخ الصحراوي	٤٣ ٤٤
درجتان	٢- ١٥٪	٥١
درجتان	٣- الذرة الصفراء	٥٤ ٥٥
درجتان	٤- الانبار	٦٩ ٧٠
درجتان	٥- الرابضة	١١٠ ١١١
درجتان	٦- الثقة المتبادلة	١٤٣ ١٤٤



باركود الاسئلة والاجوبة والملاحظات



المادة / الاجتماعيات

اليوم :- الارباء
التاريخ :- ٢٠٢٣ / ٢ / ١٨


الدرجة	الجواب النموذجي	الصفحة
١	<p>تتبع نهر دجلة داخل الأراضي التركية تتبع نهر دجلة من المرتفعات الواقعة في الجبال شرق تركيا ويتكون من عدة منابع منها المنبع الغربي يسمى (بغداد في مو) ويجري من المرتفعات المحيطة بحيرة (كولجاي) ومنبع شرقي يسمى (يوتان مو) يتكون من منابع عدة تنحدر من المرتفعات المحيطة بحيرة وان ، والتقاء (بغداد في مو) ويوتان مو يكونان نهر دجلة ويجري النهر بعد التقائهما في أراهن وعرة وبأجها جنوب شرقي مما يظل الاراض المراقية عند قرية فيسخابور وبعد رافد الخابور</p> <p>اول روافد نهر دجلة داخل العراق</p>	٣١

باركود الاسئلة والاجوبة والملاحظات





الأجوبة النموذجية للدراسة المتوسطة للعام الدراسي ٢٠٢٢ / ٢٠٢٣ الدور التمهيدي



المادة / الاجتماعيات

اليوم :- الاربعاء

التاريخ :- ١٨ / ٤ / ٢٠٢٣

الدرجة	الجواب النموذجي	الصفحة
٤ درجات	١- وذلك لقله الخداره وانشاط معظم اراضيه .	١١٤
٤ درجات	٢- بسبب سيطرة القطن العالي المداري وقله لرياحه النسبية	١١٤
٤ درجات	٣- بسبب ارتفاع الحموية وكثرت الأضراس لاقطعها والدهنية والمهسية لسكان ولها العراق	٤٥
٤ درجات	٤- لانها تمثل مرحلة تاريخية مهمة من مراحل تطور المستعبد العراقي عبر المحلل لقبول الحرية والاستقلال	١٥٥
٤ درجات	٥- بسبب ازدياد مصالحي في المنطقة ان لم يكن هدفها في العراق اقتصادياً فحسب بل هدفاً استراتيجياً أيضاً	١٤٦
٤ درجات	٦- لانه اساس بناء كل مجتمع كما انه وسيلة مهمة لرفاهية الانسان في أي مجتمع وعس لثريوت العلم ترتقي الأضم والمستحوب باسم النجاح والتفوق	١٤٦
	ملاحظة / الاجابة عن خمسة تعاليل فقط لكل تعليل (٤ درجات) -	



مركز فحص الدراسة المتوسطة بغداد / الكرخ

الأجوبة النموذجية للدراسة المتوسطة للعام الدراسي ٢٠٢٢ / ٢٠٢٣ الدور التمهيدي



المادة / الاجتماعيات

اليوم :- الاربعا
التاريخ :- ٢٠٢٣/٤/٨

فرع (٣)		جواب السؤال (الرابع)	الصفحة
الدرجة	الجواب النموذجي		
الدرجة			
	<p>ملاحظة: الاجابة على ثلاث تأشيريات</p>		

الخريطة نهر دجلة والفرات درجات . ولكل تأشير (صحيح)




الأجوبة النموذجية للدراسة المتوسطة للعام الدراسي ٢٠٢٢ / ٢٠٢٣ الدور التمهيدي


اليوم :- | السابع

المادة / الاجتماعيات

التاريخ :- ٨ / ٤ / ٢٠٢٣



الدرجة	الجواب النموذجي	الصفحة
الكل نقطة درجتان	<p>١- إصلاحات مدمت باشا (عبد قضاة)</p> <p>٢- إصلاحه نظام لطاير في العراق</p> <p>٣- إصلاح النظام العسكري في العراق</p> <p>٤- إنشاء المدارس الحديثة في العراق</p> <p>٥- الأفتام بالصحانه</p> <p>٦- تحديث طرق المواهب</p> <p>٧- تحديث عدد مدن</p> <p>٨- إصلاحات اخرى</p> <p>ملاحظة: الاجابة على ه نظام قضاة</p>	٨٤-٨٧




المادة / الاجتماعيات

اليوم :- | للدراسة

التاريخ :- | ١٨ / ٤ / ٢٠٢٣

الدرجة	الجواب النموذجي	الصفحة
لكل نقطة درجتان	السبب كلمة (جمع) او (خطأ) اما هم اصحاب استئثار	
	١- (خطأ)	٩٢
	٢- (صحيح)	٩٣
	٣- (خطأ)	٩٦
	٤- (صحيح)	٩٤
	٥- (خطأ)	٩٥





الأجوبة النموذجية للدراسة المتوسطة للعام الدراسي ٢٠٢٢ / ٢٠٢٣ الدور التمهيدي


اليوم :- الاربعا

المادة / الاجتماعيات

التاريخ :- ٨ / ٤ / ٢٠٢٣

٩

الدرجة	الجواب النموذجي	الصفحة
١ درجة	١- ملّاذا يوصف الاقتصاد العراقي بأنه (اقتصاد أحادي الجانب)؟ وما الخصائص الاساسية لتجارة العراق الخارجية؟	٧٤ من
٢ درجات	٢- لأن الصادرات العراقية تعتمد وتتركز على سلعة أساسية واحدة وهي (النفط الخام) . لذلك يوصف لاقتصاد العراقي بأنه اقتصاد أحادي الجانب.	
٣ نقطة درجتان	٣- العناصر الاساسية لتجارة العراق الخارجية :- التغير في نوعية السلع المختلفة في تجارة العراق الخارجية .	
	٤- انفتاح التجارة العراقية على دول العالم وتنوع مصادرها .	
	٥- اختلاف الميزان التجاري نظراً لقلّة صادراته على حساب الواردات .	




المادة / الإقطاعات

اليوم :- الاربعاء
التاريخ :- ١٨ / ٢ / ٢٠٢٣

الدرجة	الجواب النموذجي	الصفحة
فرع (٢)	جواب السؤال (السادس)	
١٠	تزايدت المعارضة العراقية ضد العثمانيين ولا سيما في النصف الثاني من القرن السادس عشر سيطرة ضعف الدولة العثمانية والتدخلات الأجنبية فيها وقد اتخدت منادات المعارضة أشكال عدة من حيث التجمعات والتظاهرات العشائرية والتي تمثلت الأقسام الشمالية والجنوبية من العراق ومن أبرز الانتقادات - انتفاضة كربلاء عام ١٦٠٦م على الكاظمية العثمانية والتي شاركت فيها الفئات المتوسطة وسكان المدن - انتفاضة بغداد عام ١٨٣٢م التي قادها المفتي عيسى الغني آل جميل ضد حكم واليها علي رضا وأجرى الله والذي استلخ الخضاير عليها وبرزت حملة المفتي (قنبر علي) بالرفضة	٨٧-٨٨






المادة / الاجتماعيات

اليوم :- الربيع

التاريخ :- ٨ / ٢ / ٢٠٢٣

جواب السؤال (السادس)		فرع (ب -)
الصفحة	الجواب النموذجي	الدرجة
٤٠ من	<p>ملاحظة: الاجابة عن اولاً او ثانياً</p> <p>اولاً: ا- سد و بحيرة حديثة . ب- سد و بحيرة كبدانية . ج- سد الروادعي . د- سد العنبرية . هـ - سد الكوفة .</p> <p>ثانياً</p> <p>١- مطار بغداد الدولي . ٢- مطار الموصل الدولي . ٣- مطار البصرة الدولي . ٤- مطار اربيل الدولي . ٥- مطار السليمانية الدولي . ٦- مطار الخيف لأشرف لبرولي .</p> <p>ملاحظة: عدد مطارات فقط</p>	لكل نقطة درجتان

باركود الملاحظات وتقسيم الدرجة



المادة / الاجتماعيات

اليوم :- الاربعا
التاريخ :- ١٨ / ٣ / ٢٠٢٣

الطالب بهير

الدرجة	الجواب النموذجي	صفحة
(٣) فرع ()	<p>ارسم خريطة الفرات موضحاً عليها تفرع دجلة والفرات ثم عين ثلاثة من المواقع التي</p> <p>١- إقليم فلاح السهول - السهل الرسوبي</p> <p>مصب الدورة - هور الحمار</p> <p>ملاحظة: يتم اضافة درجة السؤال الرابع الفرع ٣ (الرسم) الى السؤال الرابع الفرع ١ بحيث تصبح درجته (٤) درجة ولكل نقطة (١) درجة</p>	





مع نظام الباركود تستطيع الوصول بشكل سريع ومباشر لما يلي:

- صورة الأسئلة
- ملف الأجوبة
- ملاحظات الأساتذة
- تقسيم الدرجة
- وكل ما يسهل لك التفوق وتحقيق أعلى الدرجات



موقع باركود
ملازمنا

موقع ملازمنا
www.malazemna.com

ملازمنا