



الرقم الامتحاني :

اسم الطالب :

ملاحظة : الإجابة عن خمسة أسئلة فقط ، ولكل سؤال ٢٠ درجة .

س١ : A - كُون المعادلة التربيعية التي جذراها : $\frac{31}{\omega^2}$ ، $\frac{-3\omega^2}{1}$

B- جد نصف قطر كرة حجمها $260\pi \text{ cm}^3$ بصورة تقريبية وباستخدام نتيجة مبرهنة القيمة المتوسطة .

س٢ : A- جد معادلة القطع الناقص الذي مركزه نقطة الأصل ، ومجموع مربعي طولَي محوريه (256) ، وإحدى بؤرتيه هي بؤرة القطع المكافئ الذي بؤرته تنتمي إلى محور السينات ودليله يمر بالنقطة (17 ، -4) .

B- إذا كانت $f(x)$ دالة مستمرة على الفترة $[-3, 5]$ وكان $\int_1^5 f(x) dx = 12$ و $\int_{-1}^5 [f(x) + 2x] dx = 54$

فجد : $\int_{-3}^1 f(x) dx$

س٣ : A- سلم يستند طرفه الأسفل على أرض أفقية وطرفه الأعلى على حائط رأسي ، فإذا انزلق الطرف الأسفل مبتعداً عن الحائط بمعدل 2 m/s ، فجد معدل انزلاق الطرف العلوي عندما يكون قياس الزاوية بين السلم والأرض

تساوي $\frac{\pi}{3}$.

B- (يتعامد المستويان إذا احتوى أحدهما على مستقيم عمودي على الآخر) ، برهن ذلك .

س٤ : أجب عن فرعين فقط :

A- جد بعدي أكبر مستطيل يوضع داخل نصف دائره نصف قطرها $4\sqrt{2} \text{ cm}$.

B- جد المساحة المحددة بالدالتين $f(x) = \sin x$ و $g(x) = \sin x \cos x$ وعلى الفترة $[0, 2\pi]$.

C- F_1 هي بؤرة القطع المكافئ $x^2 + 24y = 0$ و F_2 هي بؤرة القطع المكافئ $y^2 = 32x$ ، جد معادلة القطع الزايد الذي مركزه نقطة الأصل وإحدى بؤرتيه F_2 ، وطول محوره المرافق يساوي طول القطعة المستقيمة $\overline{F_1 F_2}$

س٥ : أجب عن فرعين فقط :

A- إذا علمت أن (2 ، 3) نقطة حرجة لمنحني الدالة $f(x) = a - (x-b)^4$ ، جد $a, b \in \mathbb{R}$.

B- احسب باستخدام ديموافر $(\sqrt{3} + i)^{-3/2}$.

C- جد الحل العام للمعادلة التفاضلية : $y y' = 4\sqrt{(1+y^2)^3}$

س٦ : أجب عن فرعين فقط :

A- جد تكامل (اثنين) مما يأتي :

1) $\int_1^3 \frac{(x^2 - x)^4}{x^4} dx$

2) $\int_1^4 \frac{e^{\sqrt{x}}}{2\sqrt{x}} dx$

3) $\int \cos^4 3x dx$

B- ليكن ABC مثلث وليكن $\overline{AF} \perp (ABC)$ ، $\overline{BD} \perp \overline{CF}$ و $\overline{BE} \perp \overline{CA}$ ، برهن أن $\overline{BE} \perp (CAF)$ ، $\overline{D} \perp \overline{CF}$

C- بيّن أن $\ln|y| = x^2 + C$ حيث $C \in \mathbb{R}$ هو حلاً للمعادلة $y' = 4x^2y + 2y$.



باركود الاجوبة والملاحظات وتقسيم الدرجة



باركود الملاحظات وتقسيم الدرجة



رقم الصفحة (1)

الاجوبة النموذجية للدراسة الاعدادية للعام الدراسي ٢٠٢٣ / ٢٠٢٤


الدور / الاول

الفرع / العلمي - الاول

اسم المادة / الرياضيات

جواب السؤال (الاول) فرع (A)

الدرجة	الجواب النموذجي	الصفحة	السؤال
(4 درجات)	$m = \frac{3i}{w^2} = 3i \cdot \frac{1}{w^2} = 3iw$	لا تحذف ① اذا حل الطالب بطريقة علمية منهجية امنك صويت يعطى لدرجة ٤ مله ② الخطأ كما يجب يا سيب الطالب مرة واحدة فقط ويجمع الاشارة .	
(4 درجات)	$L = \frac{-3w^2}{i} \cdot \frac{-i}{-i} = \frac{3w^2i}{1} = 3iw^2$		
(4 درجات)	$m+L = 3iw + 3iw^2$ $= 3i(w + w^2)$ $= -3i$		
(4 درجات)	$m \cdot L = (3iw)(3iw^2)$ $= 9i^2 w^3$ $= -9$		
(4 درجات)	$x^2 - (m+L)x + (m \cdot L) = 0$ $x^2 - (-3i)x + (-9) = 0$ $x^2 + 3ix - 9 = 0$		



تواقيع أعضاء اللجنة



باركود الملاحظات وتقسيم الدرجة

الدور / الاول

٢٠٢٣ / ٢٠٢٤

الاجوبة النموذجية للدراسة الاعدادية للعام الدراسي

الفرع / العلمي - الاول

اسم المادة / الرياضيات

جواب السؤال (الاول) فرع (B)		الصفحة	السؤال
الدرجة	الجواب النموذجي		
(4 درجات)	$V = \frac{4}{3} r^3 \cdot \pi$ $\frac{260 \pi}{3} = \frac{4}{3} r^3 \cdot \pi$ $4r^3 = 260 \quad (\div 4)$ $r^3 = 65$ $r = \sqrt[3]{65}$ <p style="text-align: right;">بغض $a = 64$ $b = 65$ $h = b - a$ $= 65 - 64$ $h = 1$</p> $r(x) = \sqrt[3]{x} \Rightarrow r(64) = \sqrt[3]{64} = 4$ $r'(x) = \frac{1}{3\sqrt[3]{x^2}} \Rightarrow r'(64) = \frac{1}{3(4)^2}$ $= \frac{1}{48} = 0.02$ $r(a+h) \approx r(a) + h \cdot r'(a)$ $\approx 4 + (1)(0.02)$ $\approx 4 + 0.02$ $\approx 4.02 \text{ cm}$		
(6 درجات)			

تواقيع أعضاء اللجنة



الدور / الاول

٢٠٢٤ / ٢٠٢٣

الاجوبة النموذجية للدراسة الإعدادية للعام الدراسي

الفرع / العلمي - الاول

اسم المادة / الرياضيات

جواب السؤال (الثاني) فرع (A)

الدرجة	الجواب النموذجي	الصفحة	السؤال
(3 درجات)	$F \in \bar{X}$ \therefore الدليل عبر النقطة $(-4, 17)$ $\therefore p = 4$ ، $F(4, 0)$ بؤرة المكافئ وهي إحدى بؤرتي إلتاف $\therefore c = 4 \Rightarrow \boxed{c^2 = 16}$		
(4 درجات)	$(2a)^2 + (2b)^2 = 256$ $4a^2 + 4b^2 = 256 \Rightarrow a^2 + b^2 = 64 \text{ --- (1)}$ $a^2 - b^2 = c^2 \Rightarrow a^2 - b^2 = 16 \text{ --- (2)}$ $a^2 + b^2 = 64 \text{ --- (1)}$ $a^2 - b^2 = 16 \text{ --- (2)}$ $[2a^2 = 80] \div 2 \Rightarrow \boxed{a^2 = 40}$		
(3 درجات)	$\therefore a^2 - b^2 = 16$ $\therefore 40 - b^2 = 16 \Rightarrow b^2 = 40 - 16$ $\Rightarrow \boxed{b^2 = 24}$ $\frac{x^2}{a^2} + \frac{y^2}{b^2} = 1 \Rightarrow \boxed{\frac{x^2}{40} + \frac{y^2}{24} = 1}$		



الدور / الاول

٢٠٢٤ / ٢٠٢٣

الاجوبة النموذجية للدراسة الاعدادية للعام الدراسي

الفرع / العلمي - الاول

اسم المادة / الرياضيات

جواب السؤال (الثاني) فرع (B)

الدرجة	الجواب النموذجي	الصفحة	السؤال
	$\therefore \int_{-3}^5 [f(x) + 2x] dx = 54$ $\therefore \int_{-3}^5 f(x) dx + \int_{-3}^5 2x dx = 54$ $\int_{-3}^5 \left[f(x) dx + \frac{2x^2}{2} \right]_{-3}^5 = 54$ $\int_{-3}^5 f(x) dx + [25 - 9] = 54$ $\int_{-3}^5 f(x) dx + 16 = 54 \Rightarrow \int_{-3}^5 f(x) dx = 54 - 16$ $= \boxed{38}$		
(6 درجات)	$\therefore \int_{-3}^5 f(x) dx = \int_{-3}^1 f(x) dx + \int_1^5 f(x) dx$ $38 = \int_{-3}^1 f(x) dx + 12$ $\therefore \int_{-3}^1 f(x) dx = 38 - 12 \Rightarrow \int_{-3}^1 f(x) dx = \boxed{26}$		
(4 درجات)			



باركود الملاحظات وتقسيم الدرجة

الدور / الاول

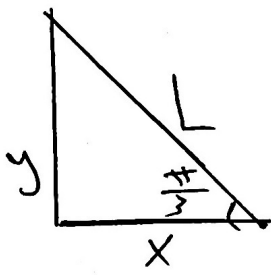
٢٠٢٣ / ٢٠٢٤

الاجوبة النموذجية للدراسة الاعدادية للعام الدراسي

الفرع / العلمي - الاول

اسم المادة / الرياضيات

جواب السؤال (الثالث) فرع (A)

السؤال	الصفحة	الجواب النموذجي	الدرجة
		<p>نرسم فوق السلم L نرسم بعد الطرف الايمن للسلم بمحاذاة X نرسم بعد الطرف الايسر للسلم الارض y</p>  <p>من صفحة ٢ في معادلة ٢ عكس اتجاه x باتجاه y في الاتجاه</p> <p>(3 درجات)</p> <p>(4 درجات)</p> <p>(3 درجات)</p> $\frac{dx}{dt} = 2 \text{ m/s} \quad \frac{dy}{dt} = ?$ $x^2 + y^2 = L^2$ $2x \frac{dx}{dt} + 2y \frac{dy}{dt} = 0 \quad] : 2$ $x \cdot \frac{dx}{dt} + y \cdot \frac{dy}{dt} = 0 \quad \dots (1)$ $\tan \frac{\pi}{3} = \frac{y}{x}$ $\sqrt{3} = \frac{y}{x} \Rightarrow y = \sqrt{3}x \quad \dots (2)$ <p>بتعويض ٢ في ١</p> $x \cdot (2) + \sqrt{3}x \frac{dy}{dt} = 0$ $x \left(2 + \sqrt{3} \frac{dy}{dt} \right) = 0$ <p>او $x = 0$ او $2 + \sqrt{3} \frac{dy}{dt} = 0 \Rightarrow \frac{dy}{dt} = \frac{-2}{\sqrt{3}} \text{ m/s}$</p>	

تواقيع أعضاء اللجنة



الدور / الاول

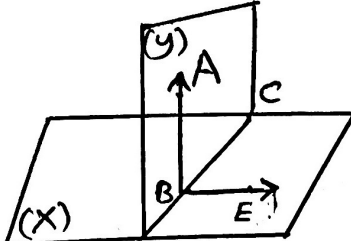
٢٠٢٤ / ٢٠٢٣

الاجوبة النموذجية للدراسة الإعدادية للعام الدراسي

الفرع / العلمي - الاول

اسم المادة / الرياضيات

جواب السؤال (الثالث) فرع (B)

الدرجة	الجواب النموذجي	الصفحة	السؤال
(3 درجات)	 <p>المعطيات :- $\overrightarrow{AB} \perp (X)$ $\overrightarrow{AB} \subset (Y)$</p> <p>المطلوب :- $(Y) \perp (X)$</p> <p>البرهان :- ليكن $(X) \cap (Y) = \overrightarrow{CD}$ [يتقاطع المستويان بخط مستقيم] $BE \subset (X)$ [مستقيم التقاطع يحوي التقاطع] في (X) نرسم $\overrightarrow{BE} \perp \overrightarrow{CD}$ [في المستوي الواحد يوجد مستقيم وحيد عمودي على مستقيم من نقطة معلومة] $\overrightarrow{AB} \perp (X)$ (معطى) $\overrightarrow{AB} \perp \overrightarrow{CD}$ ، $\overrightarrow{EB} \perp \overrightarrow{CD}$ [المستقيم العمودي على مستوي يكون عمودياً على جميع المستقيمان المحتواة في المستوي والمارة من أثره] $\overrightarrow{ABC} \subset (Y)$ (معطى) $\angle ABE \leq$ عائدة للزوجية \overrightarrow{CD} $\angle ABE = 90^\circ$ لان $(\overrightarrow{AB} \perp \overrightarrow{BE})$ \therefore قياس الزاوية الزوجية $(X) - \overrightarrow{CD} - (Y) = 90^\circ$ [قياس الزاوية الزوجية يادي قياس العائدة وبالعلم] $\therefore (Y) \perp (X)$ [اذا كان قياس الزاوية الزوجية 90° فان المستويين متعامدان]</p>	<p>ملاحظة ① : اذا لم يرسم الطالب ينقص منه درجه واحده - ملاحظة ② : اذا لم يذكر السبب ينقص منه درجه واحده .</p>	
(7 درجات)			



باركود الملاحظات وتقسيم الدرجة

الدور / الاول

٢٠٢٣ / ٢٠٢٤

الاجوبة النموذجية للدراسة الاعدادية للعام الدراسي

الفرع / العلمي - الاول

اسم المادة / الرياضيات

جواب السؤال (الرابع) فرع (A)

الدرجة	الجواب النموذجي	الصفحة	السؤال
(5 درجات)	<p>نفرض بعدي المتطابق $2x$ و y</p> $A = 2x \cdot y \quad \text{--- (1)}$ $A = 2x \sqrt{32 - x^2}$ $= \sqrt{4x^2 (32 - x^2)}$ $A = \sqrt{128x^2 - 4x^4}$ $A = (128x^2 - 4x^4)^{\frac{1}{2}}$ $A' = \frac{256x - 16x^3}{2\sqrt{128x^2 - 4x^4}}$ $A' = 0$ $256x - 16x^3 = 0 \quad] \div 16$ $16x - x^3 = 0$ $x(16 - x^2) = 0 \Rightarrow x(4 - x)(4 + x) = 0$ <p>أو $x = 0$ سهل أو $x = 4$ سهل</p> <p>البيانات $y = \sqrt{32 - 16} = \sqrt{16} = 4$ cm $\frac{\text{الثاني}}{2}$ $= 2x = 8$ cm</p>		
(5 درجات)	<p>$(4\sqrt{2})^2 = x^2 + y^2$ $32 = x^2 + y^2$ $32 - x^2 = y^2$ $y = \sqrt{32 - x^2}$</p>		

توقيع أعضاء اللجنة



الدور / الاول

٢٠٢٤ / ٢٠٢٣

الاجوبة النموذجية للدراسة الإعدادية للعام الدراسي

الفرع / العلمي - الاول

اسم المادة / الرياضيات

جواب السؤال (الرابع) فرع (B)

الدرجة	الجواب النموذجي	الصفحة	السؤال
(3 درجات)	$g(x) = \sin x \quad \text{و} \quad f(x) = \sin x \cdot \cos x$ $\sin x \cos x = \sin x$ $\sin x \cos x - \sin x = 0$ $\sin x (\cos x - 1) = 0$ <p>ص ١ $\sin x = 0 \Rightarrow [x = 0, x = 2\pi]$ $x = \pi \in [0, 2\pi]$</p> <p>ص ١ $\cos x - 1 = 0 \Rightarrow \cos x = 1 \Rightarrow [x = 0, x = 2\pi]$</p>		
(3 درجات)	$A_1 = \left \int_0^{\pi} (\sin x \cos x - \sin x) dx \right $ $= \left \left[\frac{\sin^2 x}{2} + \cos x \right]_0^{\pi} \right $ $= \left \left(\frac{\sin^2 \pi}{2} + \cos \pi \right) - \left(\frac{\sin^2 0}{2} + \cos 0 \right) \right $ $= \left [0 + (-1)] - (0 + 1) \right = -1 - 1 $ $A_1 = -2 = 2$		وهذه مسامحة
	<p>يتبع</p>		تواقيع أعضاء اللجنة



الدور / الاول

٢٠٢٣ / ٢٠٢٤

الاجوبة النموذجية للدراسة الاعدادية للعام الدراسي

الفرع / العلمي - الاول

اسم المادة / الرياضيات

كلمة جواب السؤال (الرابع) فرع (B)

الدرجة	الجواب النموذجي	الصفحة	السؤال
(٣ درجات)	$A_2 = \left \int_{\pi}^{2\pi} (\sin x \cos x - \sin x) dx \right $ $= \left \left[\frac{\sin^2 x}{2} + \cos x \right]_{\pi}^{2\pi} \right $ $= \left \left(\frac{\sin^2 2\pi}{2} + \cos 2\pi \right) - \left(\frac{\sin^2 \pi}{2} + \cos \pi \right) \right $ $= \left (0 + 1) - (0 - 1) \right = 1 + 1 $ $= 2 = 2 \text{ وحدة مساهمة}$		
(درجة واحدة)	$A = A_1 + A_2$ $= 2 + 2$ $= 4 \text{ وحدة مساهمة}$		
			تواقيع أعضاء اللجنة



الدور / الاول

٢٠٢٤ / ٢٠٢٣

الاجوية النموذجية للدراسة الاعيادية للعام الدراسي

الفرع / العلمي - الاول

اسم المادة / الرياضيات

جواب السؤال (الرابع) (C) فرع		الصفحة	السؤال
الدرجة	الجواب النموذجي		
(4 درجات)	$X^2 + 24y = 0$ $X^2 = -24y$ $X^2 = -4py$ <p>بالتناهي</p> $-4p = -24$ $p = 6$ $F_1(0, -6)$		
(4 درجات)	$y^2 = 32x$ $y^2 = 4px$ <p>بالتناهي</p> $4p = 32$ $p = 8$ $F_2(8, 0)$		
(4 درجات)	$F_1 F_2 = \sqrt{(x_2 - x_1)^2 + (y_2 - y_1)^2}$ $= \sqrt{(8 - 0)^2 + (0 + 6)^2}$ $= \sqrt{8^2 + 6^2} = \sqrt{100} = 10$		
(4 درجات)	$F_2(8, 0) \Rightarrow c = 8 \Rightarrow \boxed{c^2 = 64}$ $2b = 10 \Rightarrow b = 5 \Rightarrow \boxed{b^2 = 25}$ $c^2 = a^2 + b^2$ $64 = a^2 + 25 \Rightarrow \boxed{a^2 = 39}$		
	$\frac{x^2}{a^2} - \frac{y^2}{b^2} = 1$ $\frac{x^2}{39} - \frac{y^2}{25} = 1$		
	تواقيع أعضاء اللجنة		



الدور / الاول

٢٠٢٣ / ٢٠٢٤

الاجوبة النموذجية للدراسة الاعدادية للعام الدراسي

الفرع / العلمي - الاول

اسم المادة / الرياضيات

جواب السؤال (الخامس) فرع (A)			
الدرجة	الجواب النموذجي	الصفحة	السؤال
(٤ درجات)	$f(x) = a - (x - b)^4$ <p>(2,3) تحقق لمعادلة</p> $3 = a - (2 - b)^4 \dots \textcircled{1}$ $f'(x) = -4(x - b)^3$ $f'(2) = 0$ $[-4(2 - b)^3 = 0] \div (-4)$ $(2 - b)^3 = 0$ <p>بالتعويض في ... ①</p> $2 - b = 0$ $\Rightarrow \boxed{b = 2}$		
(3 درجات)	$3 = a - (2 - 2)^4$ $3 = a - (0)^4$ $\therefore \boxed{a = 3}$		





الدور / الاول

٢٠٢٤ / ٢٠٢٣

الاجوبة النموذجية للدراسة الاعدادية للعام الدراسي

الفرع / العلمي - الاول

اسم المادة / الرياضيات

جواب السؤال (الخامس) فرع (B)

الدرجة	الجواب النموذجي	الصفحة	السؤال
6 درجات	$Z = \sqrt{3} + i \quad x = \sqrt{3}, y = 1$ $r = \sqrt{x^2 + y^2} = \sqrt{(\sqrt{3})^2 + (1)^2} = \sqrt{4} = 2$ $\left. \begin{aligned} \cos \theta &= \frac{x}{r} = \frac{\sqrt{3}}{2} \\ \sin \theta &= \frac{y}{r} = \frac{1}{2} \end{aligned} \right\} \begin{aligned} &\text{تفتح في ربع اول} \\ &\theta = \frac{\pi}{6} \end{aligned}$ $\therefore Z = r (\cos \theta + i \sin \theta)$ $Z = 2 \left(\cos \frac{\pi}{6} + i \sin \frac{\pi}{6} \right)$ $\bar{Z}^{-3} = (2)^{-3} \left(\cos \frac{\pi}{6} + i \sin \frac{\pi}{6} \right)^{-3}$ $= \frac{1}{(2)^3} \left(\cos (-3) \frac{\pi}{6} + i \sin (-3) \frac{\pi}{6} \right)$ $= \frac{1}{8} \left(\cos \frac{\pi}{2} - i \sin \frac{\pi}{2} \right)$ $\left(\bar{Z}^{-3} \right)^{\frac{1}{2}} = \left(\frac{1}{8} \right)^{\frac{1}{2}} \left(\cos \frac{\pi}{2} - i \sin \frac{\pi}{2} \right)^{\frac{1}{2}}$		
	<p>سبع ←</p>		
			توقيع أعضاء اللجنة

١٣
رقم



باركود الملاحظات وتقسيم الدرجة

الدور / الاول

٢٠٢٤ / ٢٠٢٣

الاجوبة النموذجية للدراسة الاعدادية للعام الدراسي

الفرع / العلمي - الاول

اسم المادة / الرياضيات

جواب السؤال (الخامس) فرع (B)

الدرجة	الجواب النموذجي	الصفحة	السؤال
(4 درجات)	$z^{\frac{-3}{2}} = \frac{1}{\sqrt{8}} \left(\cos \frac{\pi + 2\pi k}{2} - i \sin \frac{\pi + 2\pi k}{2} \right)$ $= \frac{1}{2\sqrt{2}} \left(\cos \frac{\pi + 4\pi k}{4} - i \sin \frac{\pi + 4\pi k}{4} \right)$ <p>$k = 0, 1$</p> <p>if $k = 0$</p> $\Rightarrow z_1 = \frac{1}{2\sqrt{2}} \left(\cos \frac{\pi}{4} - i \sin \frac{\pi}{4} \right)$ $= \frac{1}{2\sqrt{2}} \left(\frac{1}{\sqrt{2}} - \frac{1}{\sqrt{2}} i \right)$ $= \frac{1}{4} - \frac{1}{4} i$ <p>if $k = 1$</p> $\Rightarrow z_2 = \frac{1}{2\sqrt{2}} \left(\cos \frac{5\pi}{4} - i \sin \frac{5\pi}{4} \right)$ $= \frac{1}{2\sqrt{2}} \left(\frac{-1}{\sqrt{2}} + \frac{1}{\sqrt{2}} i \right)$ $= \frac{-1}{4} + \frac{1}{4} i$		
			تواقيع أعضاء اللجنة



الدور / الاول

٢٠٢٤ / ٢٠٢٣

الاجوبة النموذجية للدراسة الإعدادية للعام الدراسي

الفرع / العلمي - الاول

اسم المادة / الرياضيات

جواب السؤال (الخاص) فرع (C)		الصفحة	السؤال
الدرجة	الجواب النموذجي		
(4 درجات)	$y y' = 4 \sqrt{(1+y^2)^3}$ $\left[y \frac{dy}{dx} = 4 (1+y^2)^{\frac{3}{2}} \right] * (1+y^2)^{-\frac{3}{2}} dx$ $(1+y^2)^{-\frac{3}{2}} y dy = 4 dx$ $\frac{1}{2} \int (1+y^2)^{-\frac{3}{2}} \cdot 2y dy = \int 4 dx$ $\frac{1}{2} \cdot \frac{2}{-1} (1+y^2)^{-\frac{1}{2}} = 4x + C$ $\frac{-1}{(1+y^2)^{\frac{1}{2}}} = 4x + C$ $\frac{-1}{\sqrt{(1+y^2)}} = 4x + C$		
(4 درجات)			
تواقيع أعضاء اللجنة			



الدور / الاول

٢٠٢٣ / ٢٠٢٤

الاجوبة النموذجية للدراسة الاعدادية للعام الدراسي

الفرع / العلمي - الاول

اسم المادة / الرياضيات

جواب السؤال (السادس) فرع (A)

الدرجة	الجواب النموذجي	الصفحة	السؤال
(5 درجات)	<p>① $\int_1^3 \frac{(x^2-x)^4}{x^4} dx$ الطريقة الاولى :-</p> $= \int_1^3 \left(\frac{x^2-x}{x} \right)^4 dx$ $= \int_1^3 (x-1)^4 dx$ $= \left[\frac{(x-1)^5}{5} \right]_1^3$ $= \frac{1}{5} [(3-1)^5 - (1-1)^5]$ $= \frac{1}{5} [32 - 0] = \boxed{\frac{32}{5}}$		
(5 درجات)	<p>الطريقة الثانية :-</p> $\int_1^3 \frac{[x(x-1)]^4}{x^4} dx$ $= \int_1^3 \frac{x^4 (x-1)^4}{x^4} dx = \int_1^3 (x-1)^4 dx$ $= \left[\frac{(x-1)^5}{5} \right]_1^3 = \frac{1}{5} [(3-1)^5 - (1-1)^5]$ $= \frac{1}{5} (32 - 0) = \frac{32}{5}$		ملحوظة : المطلوب الاجابة عن تعطين فقط



الاجوبة النموذجية للدراسة الإعدادية للعام الدراسي ٢٠٢٣ / ٢٠٢٤ الدور / الاول
اسم المادة / الرياضيات الفرع / العلمي - الاول

جواب السؤال (السادس) فرع (A)

الدرجة	الجواب النموذجي	الصفحة	السؤال
(5 درجات)	$\textcircled{2} \int_1^4 \frac{e^{\sqrt{x}}}{2\sqrt{x}} dx$ $= [e^{\sqrt{x}}]_1^4$ $= e^{\sqrt{4}} - e^1$ $= e^2 - e \quad \dots (*)$ $= e(e-1)$	<p>ملاحظة: اذا وصل الطالب الى الخطوة (*) يعطى الدرجة كاملة .</p>	





الدور / الاول

٢٠٢٣ / ٢٠٢٤

الاجوبة النموذجية للدراسة الاعدادية للعام الدراسي

الفرع / العلمي - الاول

اسم المادة / الرياضيات

جواب السؤال (السادس) فرع (A)

الدرجة

الجواب النموذجي

الصفحة

السؤال

$$\begin{aligned}
 & \textcircled{3} \int \cos^4 3x \, dx \\
 &= \int [\cos^2 3x]^2 \, dx \\
 &= \int \left[\frac{1 + \cos 6x}{2} \right]^2 \, dx \\
 &= \frac{1}{4} \int [1 + 2\cos 6x + \cos^2 6x] \, dx \\
 &= \frac{1}{4} \int \left[1 + 2\cos 6x + \frac{1}{2}(1 + \cos 12x) \right] \, dx \\
 &= \int \left[\frac{3}{8} + \frac{1}{2}\cos 6x + \frac{1}{8}\cos 12x \right] \, dx \\
 &= \frac{3}{8}x + \frac{1}{12}\sin 6x + \frac{1}{96}\sin 12x + C
 \end{aligned}$$

(5 درجات)





الدور / الاول

٢٠٢٤ / ٢٠٢٣

الاجوبة النموذجية للدراسة الاعدادية للعام الدراسي

الفرع / العلمي - الاول

اسم المادة / الرياضيات

جواب السؤال (السادس) فرع (B)

الدرجة	الجواب النموذجي	الصفحة	السؤال
	<p>المعطيات :- $\overline{BE} \perp \overline{CA}$ ، $\overline{BD} \perp \overline{CF}$ $\overline{AF} \perp (ABC)$ المطلوب :- $\overline{DE} \perp \overline{CF}$ ، $\overline{BE} \perp (CAF)$ البرهان :- $(CAF) \perp (ABC)$ (مبرهنة 8) $\overline{BE} \perp \overline{CA}$ (معطى) $\overline{BE} \perp (CAF)$ (مبرهنة 7) $\overline{BD} \perp \overline{CF}$ (معطى) $\overline{ED} \perp \overline{CF}$ (نتيجة مبرهنة الاعمدة الثلاثة)</p>	<p>١- المعطيات والمطلوب والبرهان والبرهان 7 درجات ٢- اذا لم يبرهن كخطم منه درجتين واحدة ٣- اذ لم يبرهن الطالب الا خطم منه درجتين واحدة</p>	



الدور / الاول

٢٠٢٤ / ٢٠٢٣

الاجوبة النموذجية للدراسة الاعدادية للعام الدراسي

الفرع / العلمي - الاول

اسم المادة / الرياضيات

جواب السؤال (السادس) فرع (C)

الدرجة	الجواب النموذجي	الصفحة	السؤال
4 درجات	$\ln y = x^2 + C$ <p>بالاشتقاق ←</p> $\frac{y'}{y} = 2x$ $y' = 2xy$ <p>بالاشتقاق اللاني ←</p> $y'' = 2xy' + y(2)$ $= 2x(2xy) + 2y$ $= 4x^2 y + 2y$ <p>∴ العلاقة تمثل حلاً للمعادلة التفاضلية</p>		
5 درجات			
درجتها			

